



BÜTÜN - YARIM 5



Arkadaşlar merhaba, ben Ozi **Bir bütünde 2 yarım** vardır. Buna göre aşağıda verilen bütünlerin kaç yarım oluşturduğunu şekillerin altına yazınız.




..... bütün ekmek
..... yarım ekmektir.




..... bütün karpuz
..... yarım karpuzdur.




..... bütün çilek
..... yarım çilektir.



..... bütün portakal
..... yarım portakaldır.



..... bütün elma
..... yarım elmadır.



..... bütün armut
..... yarım armuttur.



Arkadaşlar merhaba, ben İbi aşağıdaki şekillerden **iki eş parçaya (yarım)** ayrılmış olanları işaretleyiniz.

