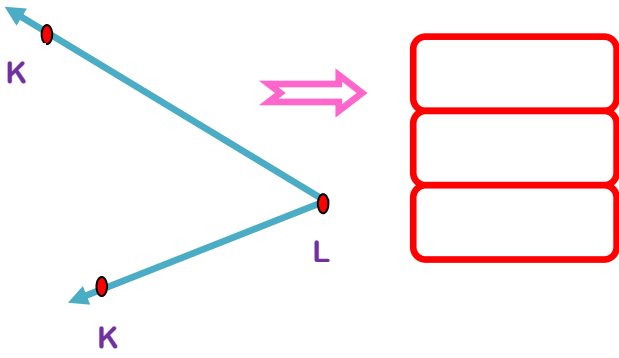
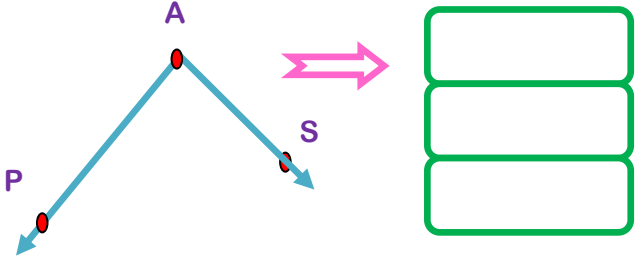
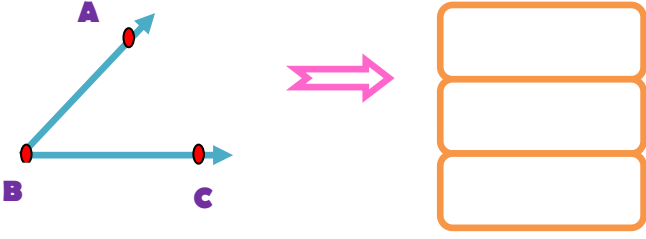


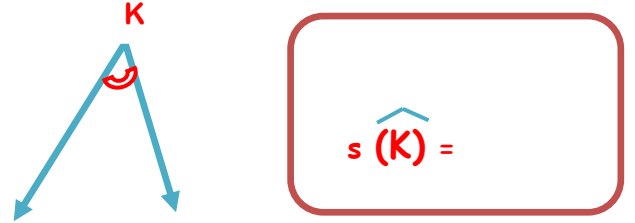
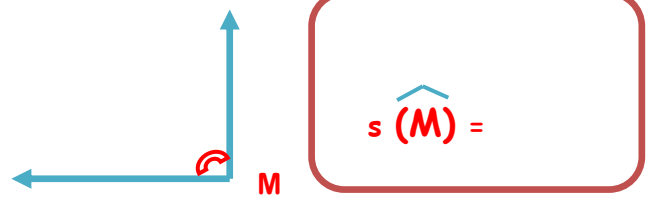
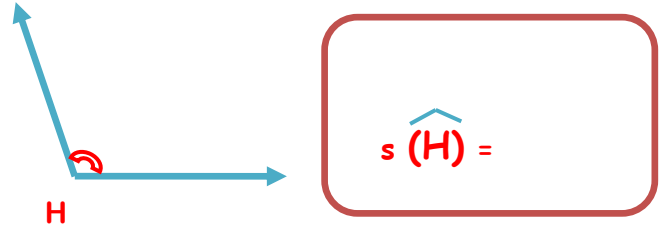
- Aşağıda verilen açıların isimlerini üç farklı şekilde adlandırınız.



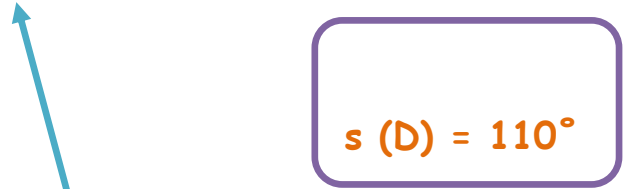
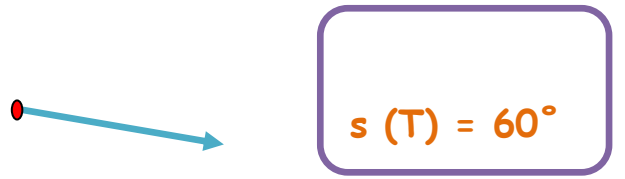
- Aşağıda verilen ışınları istenilen açılarını oluşturacak şekilde tamamlayınız.

DAR AÇI	GENİŞ AÇI
DOĞRU AÇI	DİK AÇI
GENİŞ AÇI	

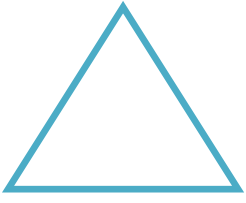
- Aşağıda verilen açılarının ölçülerini açıölçer(iletke) kullanarak bulunuz.



- Aşağıda verilen ışınları istenilen derecede açı oluşturacak şekilde tamamlayarak açıları çizin.



- Üçgen, kare ve dikdörtgenin köşelerini belirten noktaları büyük harflerle isimlendirelim.



- Aşağıdaki dikdörtgen, kare ve üçgenin köşelerini ve kenarlarını isimlendirelim.



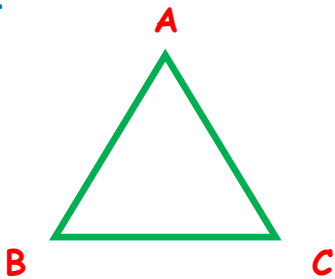
Köşeleri:

Kenarları:



Köşeleri:

Kenarları:

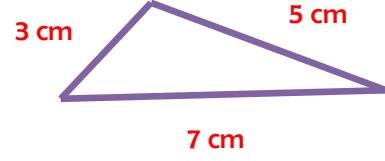


Köşeleri:

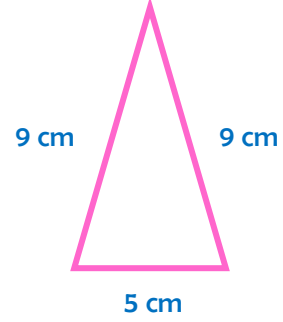
Kenarları:

İskender07 (İlkokul etkinlikleri)

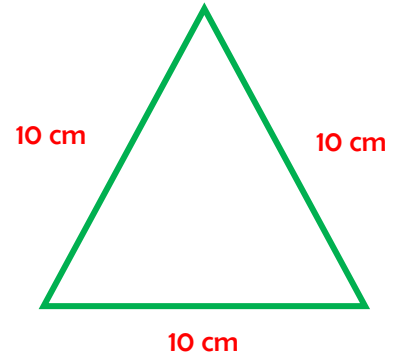
- Aşağıda verilen üçgenleri kenar uzunluklarına göre isimlendiriniz.



..... Üçgen

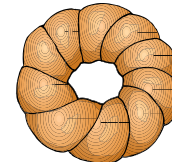


..... Üçgen



..... Üçgen

- Aşağıda görselleri verilen cisimlerden yüzeyi düzlem olanları işaretleyiniz.



İskender07