




Aşağıdaki metni anlayana kadar okuyalım.

## İLKBAHAR

İlkbahar mevsiminde,  
Doğa yeniden canlanır.  
Sonbaharda giden kuşlar,  
Damlarda yerini alır.



Ağaçlar yeşillenir,  
Dalları çiçeklenir.  
İlkbaharda çocuklar,  
Parkları şenlendirir.



Hasan YILDIRIM



Aşağıdaki soruları metne göre cevaplayalım.



Doğa ne zaman canlanırmış?

.....



Kuşlar hangi mevsimde giderlermiş?

.....



Kuşlar nerede yerlerini alırlarmış?

.....



İlkbahar mevsiminde ağaçlarda ne gibi değişiklikler olurmuş?

.....



İlkbaharda çocuklar nereleri şenlendirirlermiş?

.....



## “Mİ” EKİNİ DOĞRU YAZALIM

### “Mi” Eki

'mİ', 'mİ', 'mu', 'mü'  
şeklinde yazılabilir.

Oldu mu?

Kendinden önceki  
sözcükten ayrı  
yazılır.

Gördün mü?

Kendinden sonraki  
ek bitişik yazılır.

Alır mısın?



Aşağıdaki cümlelerden 'mi' eki doğru yazılmış olanlara 'D', yanlış yazılmış olanlara 'Y' yazalım.

- Yarın sinemaya gidelim mi?
- Kitabını açar mı sın?
- Kırmızı kalemimi gördün mü?
- Bu senin mi yoksa benim mi?
- Bir tane peçete alabilir miyim?
- Kuzenin İzmir'de mi yaşıyor?
- Resimde gördüğüm karpuz mu dur?
- Anne bana havuçlu kek yapar mısın?
- Öğretmenimiz sınıfa gelmiş mi?
- Acaba arkadaşım beni görmüş müdür?
- Teneffüste beslenme yapacak mı yız?
- Elif de gelecek miymiş?



## “Mİ” EKİNİ DOĞRU YAZALIM

★ Aşağıdaki cümlelerde ‘mi’ ekinin yazılışı ile ilgili yapılan yanlışları düzelterek cümleleri yeniden yazalım.

Dün size Ayşe geldimi?  
.....

Yanıma gelir mi sin?  
.....

Benimle oyun oynarmısın?  
.....

Akşam filmmi izleyelim, oyun mu oynayalım?  
.....

Kırmızı kalemimi verir mi sin?  
.....

Sabah erkenden uyanıyormu sun?  
.....

Bugün size gelebilir mi yim?  
.....


Acaba kuş da görürmüyüz?  
.....

★ ‘Mi’ ekini kullanarak kendi cümlelerimizi yazalım.  
.....  
.....  
.....  
.....  
.....  
.....



## KÜTLE ÖLÇÜ BİRİMLERİNİ ÖĞRENELİM

★ Aşağıdaki varlıkların hangi kütle ölçü birimi ile ölçüldüğünü belirleyerek uygun kutucuğu boyayalım.



kg

g



kg

g



kg

g



kg

g




kg

g



kg

g



kg

g



kg

g



kg

g



kg

g



kg

g



kg

g

★ Aşağıdaki varlıkların kütlelerini tahmin ederek uygun kutucuğu işaretleyelim.



20 kg

20 g



3 kg

30 g



50 g

500 g



9 kg

9 g



2 kg

10 kg



200 g

2 kg



60 g

6 kg



120 g


12 g



## KÜTLE ÖLÇÜ BİRİMLERİNİ ÖĞRENELİM



Aşağıdaki nesnelerin kütlelerini tahmin ederek yazalım.






















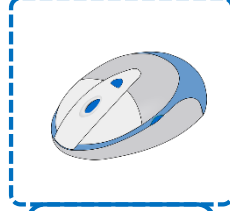

















Aşağıdaki nesnelerin kütlelerini örnekteki gibi yazalım.




150 g



450 g




25 kg






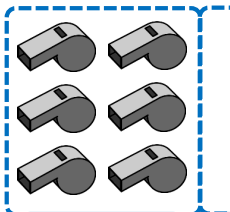
15 g



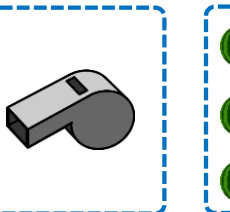



750 g






300 g





45 kg





## KÜTLE ÖLÇÜ BİRİMLERİYLE PROBLEMLER



Zaman ölçü birimleriyle ilgili verilen problemleri çözelim.

Bir bakkal 50 kilogramlık bir çuval şekeri 5 kilogramlık poşetlere eşit olarak koyacaktır. Bunun için kaç poşete ihtiyacı vardır?

Annem kek yapmak için 200 g un, 150g şeker, 100 g tereyağı ve tanesi 50 g olan iki yumurta kullanmıştır. Kekin kütlesi ne kadar olmuştur?

Yusufun kütlesi 28 kg, kardeşi Miraçın kütlesi ise Yusuf'tan 4 kg daha azdır. İki kardeşin kütleleri toplamı ne kadardır?

Babam manavdan tanesi 4 kg olan 7 tane karpuz aldı. 1 kg karpuzun fiyatı 3 lira olduğuna göre babam manava kaç lira ödemelidir?

Zeynep her gün tanesi 80 g olan elmalardan bir tane yemektir. Zeynep'in iki haftada yediği elmaların kütlesi ne kadardır?

Melisa kilosu 7 lira olan muzdan 6 kg olarak satıcıya 50 lira vermiştir. Melisa kaç lira para üstü almalıdır?

Ceylin ile annesinin kütleleri toplamı 94 kg'dır. Ceylin 26 kg olduğuna göre annesinin kütlesi ne kadardır?

Hasan kilosu 40 lira olan ham-siden 3 kg, kilosu 50 lira olan istavritten 2 kg almıştır. Hasan satıcıya kaç lira ödemelidir?



## KÜTLE ÖLÇÜ BİRİMLERİYLE PROBLEMLER



Zaman ölçü birimleriyle ilgili verilen problemleri çözelim.

Annem ekmek yapmak için 60 liraya 5 kg un almıştır. Buna göre 1 kg unun fiyatı ne kadardır?

5 kg şekerin 30 lira, 4 kg tuzun 12 lira olduğu bir marketten 7 kg şeker ve 5 kg tuz alan Elifsu kaç lira ödemelidir?

Annem 750 g tereyağının 150 gramı ile pilav, 125 gramı ile kek yaptı. Geri kalan tereyağının kütlesi ne kadardır?

Bir manav bir günde kilosu 2 liradan 32 kg karpuz, kilosu 3 liradan 25 kg kavun satmıştır. Bir günde kavun ve karpuz satışından ne kadar gelir elde etmiştir?

Eymen'in kütlesi 32 kg'dır. Kerem'in kütlesi Eymen'in kütlesinden 4 kg daha az, Hasan'ın kütlesi Kerem'in kütlesinden 6 kg daha fazladır. Üç arkadaşın kütleleri toplamı ne kadardır?

Bir inek her gün 30 kg saman, 6 kg yem yemektedir. Bu ineğin iki haftada yediği saman toplam kütlesi ne kadardır?


Evimizde her ay 2 kg deterjan kullanılmaktadır. 1 kg deterjan 15 lira olduğuna göre 1 yılda kullandığımız deterjanın fiyatı ne kadardır?

Tavuğumuzun yumurtası 65 g gelmektedir. Buna göre tavuğumuz bir haftada yumurtladığı yumurtalarının kütlesi ne kadardır?



## BEN VE ÇEVREM

★ Aşağıda varlıklardan yakın çevremizde bulunanları işaretleyelim.



★ Görseldeki fok, çevre kirliliği nedeniyle yaşadığı sorunları insanlara bir mektupla anlatmak istiyor. Mektubu tamamlayarak foka yardımcı olalım.



Sevgili İnsanlar,

.....

.....

.....

.....

.....

★ Atıkları ok çizerek uygun kutularla eşleştirelim.







## YÖNETİM BİRİMLERİNİ TANIYALIM



Aşağıdaki tabloda istenen bilgileri araştırarak yazalım.

Yerleşim Yeri	Adı	Yönetici Unvanı	Adı Soyadı
İl			
İlçe			
Mahalle/Köy			



Aşağıdaki ifadelerden **doğru** olanların kutusunu **yeşile**, **yanlış** olanların kutusunu **kırmızıya** boyayalım.

- Ülkemizde 88 tane il vardır.
- En büyük yönetim birimi ildir.
- İlleri yöneten kişilere kaymakam denir.
- Valiler seçimle halk tarafından seçilerek göreve gelirler.
- İldeki temizlik, ulaşım, itfaiye gibi hizmetleri belediye verir.
- Cumhurbaşkanı, vali ve kaymakamları seçerek görevlendirir.
- Köy ve mahalleri yöneten kişiye muhtar denir.
- En küçük yönetim birimi mahalle ve köylerdir.
- İlçe ve illerde halkın oyları ile belediye başkanı seçilir.
- Muhtarlar köy ve mahalle sorunlarını kendi başına çözerler.
- Ülkemizde 81 tane vali vardır
- Kaymakamlar ilçe halkının her türlü sorunları ile ilgilenirler.
- Kaymakamlar çözemedikleri sorunları muhtarlara bildirirler.



## EĞLENCE ZAMANI

★ Verilen sözcükleri bulmacada bularak boyayalım. Kalan harfleri sırası ile yazarak gizli sözcüğü bulalım.

BAHAR

AĞAÇ

ÇİÇEK

KUŞ

DOĞA

YEŞİL

ÇOCUK

MEVSİM

İ	D	L	Ç	K	Y	M
B	O	B	İ	Ç	E	E
A	Ğ	A	Ç	O	Ş	V
K	A	H	E	C	İ	S
U	A	A	K	U	L	İ
Ş	H	R	A	K	R	M

Gizli Sözcük



--	--	--	--	--	--	--	--



★ İlkbahar temalı boyama çalışmasını yapalım.

