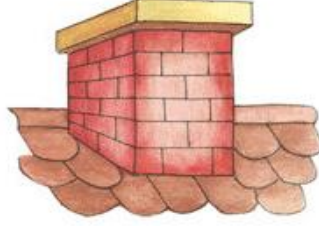




★ Aşağıdaki metni anlayana kadar okuyalım.

## İLKBAHAR

İlkbahar mevsiminde,  
Doğa yeniden canlanır.  
Sonbaharda giden kuşlar,  
Damlarda yerini alır.



Ağaçlar yeşillenir,  
Dalları çiçeklenir.  
İlkbaharda çocuklar,  
Parkları şenlendirir.



Hasan YILDIRIM

★ Aşağıdaki soruları metne göre cevaplayalım.



Doğa ne zaman canlanırmış?



Kuşlar hangi mevsimde giderlermiş?



Kuşlar nerede yerlerini alırlarmış?



İlkbahar mevsiminde ağaçlarda ne gibi değişiklikler olurmuş?



İlkbaharda çocuklar nereleri şenlendirirlermiş?



## 'Mİ' SORU EKİNİ DOĞRU YAZALIM

### Mi Soru Eki

'mİ', 'mİ', 'mu', 'mü'  
şeklinde yazılabilir.

Oldu mu?

Kendinden önceki  
sözcükten ayrı  
yazılır.

Gördün mü?

Kendinden sonraki  
ek bitişik yazılır.

Alır mısın?



Aşağıdaki cümlelerden 'mi' soru eki doğru yazılmış olanlara 'D', yanlış yazılmış olanlara 'Y' yazalım.

- Yarın sinemaya gidelim mi?
- Kitabını açar mı sın?
- Kırmızı kalemimi gördün mü?
- Bu senin mi yoksa benim mi?
- Bir tane peçete alabilir miyim?
- Kuzenin İzmir'de mi yaşıyor?
- Resimde gördüğüm karpuz mu dur?
- Anne bana havuçlu kek yapar mısın?
- Öğretmenimiz sınıfa gelmiş mi?
- Acaba arkadaşım beni görmüş müdür?
- Teneffüste beslenme yapacak mı yız?
- Elif de gelecek miymiş?



## 'Mİ' SORU EKİNİ DOĞRU YAZALIM

★ Aşağıdaki cümlelerde 'mi' soru ekinin yazılışı ile ilgili yapılan yanlışları düzelterek cümleleri yeniden yazalım.

Dün size Ayşe geldimi?  
.....

Yanıma gelir mi sin?  
.....

Benimle oyun oynarmısın?  
.....

Akşam filmmi izleyelim, oyun mu oynayalım?  
.....

Kırmızı kalemimi verir mi sin?  
.....

Sabah erkenden uyanıyormu sun?  
.....

Bugün size gelebilir mi yim?  
.....

Acaba kuş da görürmüyüz?  
.....

★ 'Mi' soru ekini kullanarak kendi cümlelerimizi yazalım.  
.....  
.....  
.....  
.....  
.....  
.....



## DÜZLEM

★ Resimleri inceleyerek düzlem modellerini işaretleyelim.



★ Aşağıdakilerden düzlem modeli olanlara 'DM', düzlemsel şekil olanlara 'DŞ' yazalım.

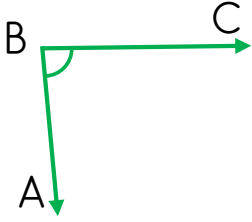
	Yerdeki halı
	Halının üzerindeki daireler
	Duvardaki tablo
	Tablodaki güneş resmi
	Evimizin duvarı
	Sınıfımızın kapısı
	Akıllı tahtanın yüzeyi

	Tangram
	Tangram parçaları
	Ders kitabının ön yüzü
	Kitabın üzerindeki resimler
	Resim defterine çizilmiş kare
	Lavabo duvarındaki fayans
	Pencerenin camı



## AÇILARI İSİMLENDİRELİM

★ Aşağıda verilen açılarla açı isimlerini eşleştirelim.



$\widehat{ABC}$

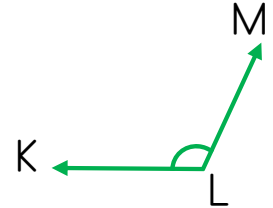
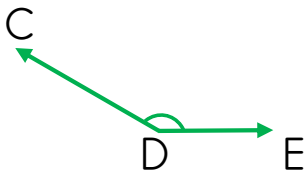
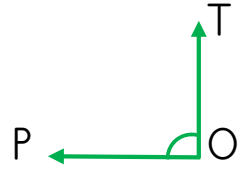
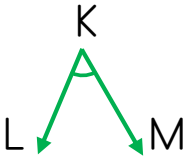
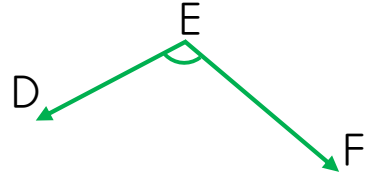
$\widehat{E}$

$\widehat{LKM}$

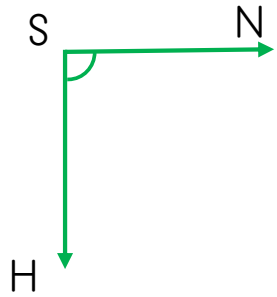
$\widehat{D}$

$\widehat{TOP}$

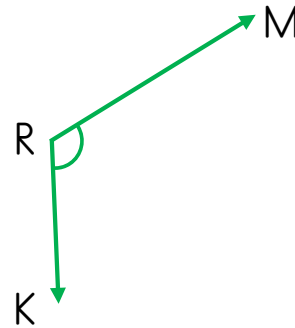
$\widehat{MLK}$



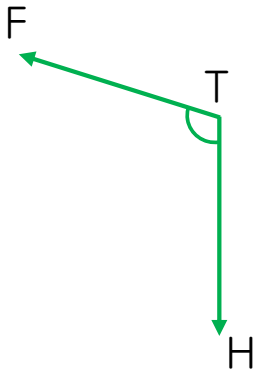
★ Aşağıdaki ışınları ve açıları örnekteki gibi isimlendirelim.



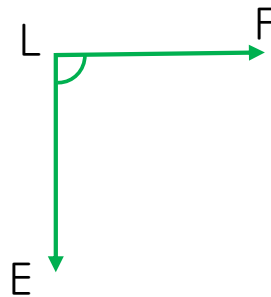
Işın	SN
Işın	SH
Açı	$\widehat{HSN}$
Açı	$\widehat{S}$



Işın	
Işın	
Açı	
Açı	



Işın	
Işın	
Açı	
Açı	

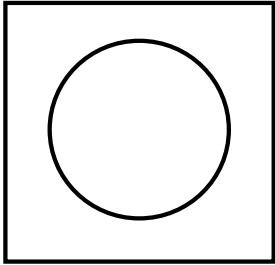


Işın	
Işın	
Açı	
Açı	

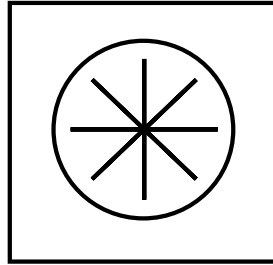


## AÇILARI STANDART OLMAYAN BİRİMLERLE ÖLÇELİM

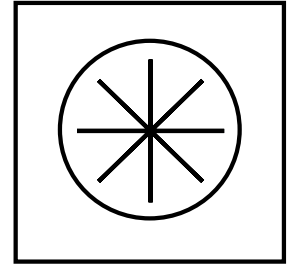
★ Aşağıdaki yönergeye göre standart olmayan açı ölçü aracımızı hazırlayarak verilen açıları ölçüp yazalım.



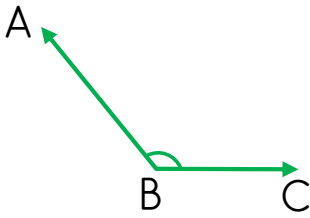
Boş bir kağıda 1  $\text{t}$  büyüklüğünde bir çember çizelim.



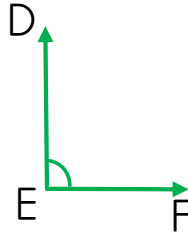
Çember üzerine eşit aralıklarla çizgiler çizelim.



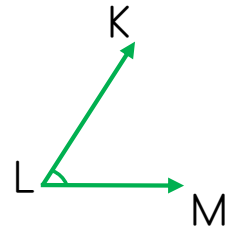
Çemberi etrafından keserek açıları ölçmeye başlayalım.



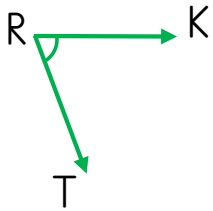
$\widehat{ABC} = \dots$  birim



$\widehat{E} = \dots$  birim



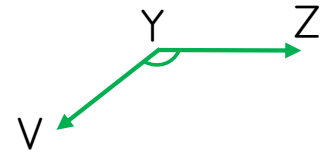
$\widehat{KLM} = \dots$  birim



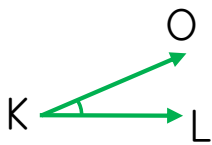
$\widehat{TRK} = \dots$  birim



$\widehat{MLS} = \dots$  birim



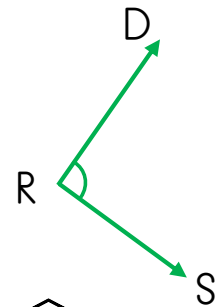
$\widehat{VYZ} = \dots$  birim



$\widehat{K} = \dots$  birim



$\widehat{MEB} = \dots$  birim



$\widehat{DRS} = \dots$  birim



## IŞIK KİRLİLİĞİ

★ Işık kirliliğinin neden olan yanlış aydınlatma türlerine birer örnek yazalım.

Yanlış Yerde

.....  
.....

Yanlış Miktarda

.....  
.....

Yanlış Yönde

.....  
.....

Yanlış Zamanda

.....  
.....

★ Işık kirliliğinin en yoğun olduğu yerlere örnekler yazalım.

.....

.....

.....

.....


.....

.....

.....


.....

★ Işık kirliliğinin etkileri ile ilgili verilen görsellerin altlarına açıklamalar yazalım.



Göçmen Kuşlar

.....  
.....  
.....  
.....



Caretta caretta

.....  
.....  
.....  
.....



Gözlemevleri

.....  
.....  
.....  
.....



## AYAĞIMIZI YORGANIMIZA GÖRE UZATALIM

★ Aşağıdaki ifadelerden **doğru** olanların kutusunu **yeşile**, **yanlış** olanların kutusunu **kırmızıya** boyayalım.

- Çalışarak kazanılan paraya gelir denir.
- İstek ve ihtiyaçlar için harcanan paraya gider denir.
- Bütçe oluştururken önceliği isteklerimize vermeliyiz.
- Bütçede giderler gelire göre belirlenmelidir.
- Bütçemizdeki gelirlerin hepsini harcamalıyız.
- Aile bütçesi aylık olarak hazırlanır.
- Aile bütçesinde istekler yer almamalıdır.
- Giderler gelirlere fazla olursa bütçemiz açık verir.

★ Aşağıdaki tabloyu inceleyerek soruları cevaplayalım.

GELİRLERİMİZ	
Babamın Maaşı	4500 TL
Annemin Maaşı	4000 TL
Ablamın Maaşı	3750 TL
Kira Geliri	1500 TL
Toplam Gelir	

GİDERLERİMİZ	
Gıda Giderleri	3500 TL
Faturalar	1800 TL
Eğitim Giderleri	1500 TL
Sosyal Giderler	1000 TL
Diğer Giderler	2400 TL
Toplam Gider	

Gelir

---

Gider

---

Tasarruf Miktarı

---





## EĞLENCE ZAMANI

★ Verilen sözcükleri bulmacada bularak boyayalım. Kalan harfleri sırası ile yazarak gizli sözcüğü bulalım.

BAHAR

AĞAÇ

ÇİÇEK

KUŞ

DOĞA

YEŞİL

ÇOCUK

MEVSİM

İ	D	L	Ç	K	Y	M
B	O	B	İ	Ç	E	E
A	Ğ	A	Ç	O	Ş	V
K	A	H	E	C	İ	S
U	A	A	K	U	L	İ
Ş	H	R	A	K	R	M

Gizli Sözcük



--	--	--	--	--	--	--	--

★ İlkbahar temalı boyama çalışmasını yapalım.

