

1)

MEB – T.C. – TDK – TTK

Aşağıdaki kurumlardan hangisinin yukarıda kısaltması yoktur?

- A) Türk Hava Kurumu
B) Türk Dil Kurumu
C) Türkiye Cumhuriyeti
D) Millî Eğitim Bakanlığı

2) Aşağıdaki kısaltmalardan hangisine getirilen ek yanlıştır?

- A) TRT'de
B) TEMA'ya
C) ABD'nin
D) TDK'nda

3)

kilogram a	dakika b	kuruş c
---------------	-------------	------------

dk 1	kr. 2	km 3	kg 4
---------	----------	---------	---------

Yukarıdaki kelimelerle kısaltmaların eşleştirilmesi hangisinde doğru yapılmıştır?

- A) a 4 - b 1 - c 3
B) a 3 - b 1 - c 2
C) a 4 - b 1 - c 2
D) a 2 - b 1 - c 4

- 4) ● Amerika Birleşik Devletleri - ABD
△ Türkiye Büyük Millet Meclisi – T.B.M.M.
◇ santimetre - cm
□ Doktor – Dr.

Yukarıdaki kısaltmalardan hangisinde yanlışlık vardır?

- A) ◇ B) △
C) □ D) ●

5) Aşağıdaki kısaltmalardan hangisine getirilen ek yanlıştır?

- A) g'ını B) kg'den
C) m'sini D) km'nin

6)



II



III



IV



Yukarıdaki görsellerden hangileri düzlem modelidir?

- A) I – II B) II – III
C) II – IV D) III – IV

7) Aşağıdakilerden hangisi açıya model olarak **kullanılamaz**?

A)



B)



C)



D)



8)



E



T



Y



A

Yukarıdaki harflerin hangisinde üçten fazla açı vardır?

A)



B)



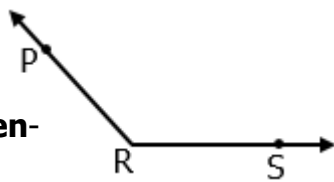
C)



D)



9) Yandaki açı aşağıdakilerden hangisiyle **isimlendirilemez**?



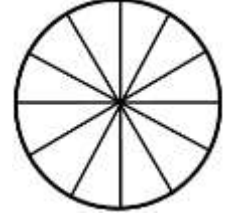
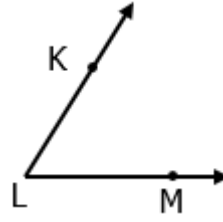
A) PRS açısı

B) R açısı

C) RPS açısı

D) SRP açısı

10)



Yukarıdaki daire 12 eş parçaya bölünmüş ve her parça 1 birimdir. L açısı yukarıdaki daire ile ölçüldüğünde kaç birim bulunur?

A) 2 birim

B) 4 birim

C) 3 birim

D) 1 birim

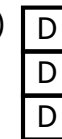
- 11) Aşırı parlak ışıklar ışık kirliliğine neden olur.
 Uygun aydınlatma ışık kirliliğine neden olur.
 Gereksiz yere açılan lambalar ışık kirliliğine neden olur.

Yukarıdaki ifadelerden doğru olanlara "D", yanlış olanlara "Y" yazarsak hangi sonuç ortaya çıkar?

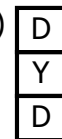
A)



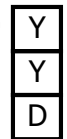
B)



C)



D)



- 12) İnsanları
 Hayvanları
 Bitkileri

İşık kirliliği yukarıdaki canlılardan hangilerini olumsuz etkiler?

A) B) C) D)

13)

Yanlış yönde yapılan aydınlatma ışık kirliliğine neden olmaz.

(D)

(Y)

Göçmen kuşlar ışık kirliliğinden etkilenmezler.

Aşırı ışık göz sağlığını bozar.

(D)

(Y)

(D)

(Y)

I

II

III

IV

Verilen ifadelerin doğru (D) ya da yanlış (Y) olmasına göre ilerlediğinde aşağıdakilerden hangi çıkışa ulaşılır?

A) III B) I C) IV D) II

14)



Yukarıdaki resimde hangi aydınlatma aracı ışık kirliliği daha fazladır?

A) ● B) ◆
C) ▲ D) ■

15) Aşağıdakilerden hangisi ışık kirliliği için alınabilecek önlemlerden değildir?

- A) Doğru yönde aydınlatma yapılmalı.
B) Vitrinlerde ve tabelalarda daha parlak lambalar kullanılmalı.
C) Apartmanlarda sensörlü lambalar kullanılmalı.
D) Yeteri kadar aydınlatma yapılmalı.

16) Aşağıdakilerden hangisi aile bütçesi hazırlamanın faydalarından değildir?

- A) Harcamalar kontrol altına alınır.
B) Gelir gider dengesi kurulur.
C) Ay sonunda ekonomik problemler yaşanmaz.
D) Tasarruf yapmamız zorlaşır.

17) Aşağıdaki bütçelerin hangisinde daha fazla tasarruf sağlanır?

	Gelir	Gider
A)	5400 TL	4600 TL
B)	6000 TL	6200 TL
C)	4900 TL	4300 TL
D)	7500 TL	7500 TL

- 18) Aile bireylerinin her ay kazandığı paraya denir.

Yukarıdaki ifadede noktalı yere aşağıdakilerden hangisi yazılmalıdır ?

- A) gelir B) gider
C) bütçe D) ihtiyaç

- 19) Giderler , gelirlerden fazla olmalıdır.
 Önce temel ihtiyaçlar karşılanmalıdır.
 Bütçede tasarruf yapmak için tüm aile fertlerinin sorumluluğu vardır .

Yukarıdaki ifadelerden hangileri doğrudur?

- A) B)
C) D)

- 20) Taner'in ablası babasından her hafta okul harçlığı 60 lira almaktadır.

Taner'in ablası babasının verdiği parayı nasıl harcarsa zor durumda kalmaz?

- A) İhtiyaçlarından öncelik isteklerini almalı.
B) Parasını her gün eşit miktarda harcamalıdır .
C) Temel ihtiyaçları olsa bile parasını harcamamalı.
D) Tüm parasını dört günde harcayıp bitirmeli.

CEVAP ANAHTARI

TÜRKÇE	MATEMATİK	FEN BİLİM.	SOSYAL BİL.
1) A	6) B	11) C	16) D
2) D	7) D	12) C	17) A
3) C	8) D	13) A	18) A
4) B	9) C	14) D	19) C
5) B	10) A	15) B	20) B