

Adı :

Sınıfı :

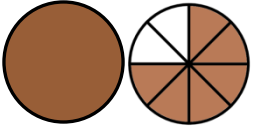
Soyadı :

Numarası:

- 1) Aşağıdaki şekilleri boyalı kısımlarından yararlanarak kutuların içine kesirleri ifade ediniz.



5 Puan



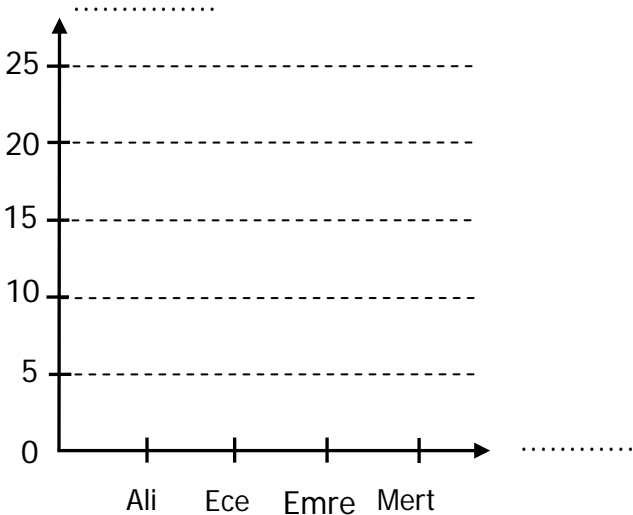
- 2) Aşağıdaki verilen bilgilere göre çetele tablosu ve sütun grafiği oluşturunuz. 10 Puan

4/A sınıfında yapılan başkanlık seçiminde alınan oylar. Ali 15 oy, Ece 20 oy, Emre 25 oy, Mert 10 oy almıştır.

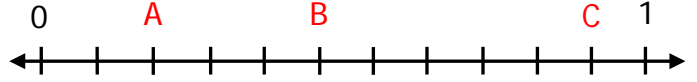
Tablo:

Öğrencinin Adı	Aldıkları Oy

Grafik: 4/A Sınıfındaki Başkanlık Seçimi



- 3) Aşağıdaki sayı doğrusunda harflerle gösterilen kesirleri yazınız. 5 Puan

A = $\frac{\dots}{\dots}$ B = $\frac{\dots}{\dots}$ C = $\frac{\dots}{\dots}$

- 4) Aşağıda verilen saatlerin öncesini ve sonrasını, akrep ve yelkovan çizerek gösteriniz. 10 Puan

Önce

Sonra



50 dakika



40 dakika



- 5) Aşağıda bölükleri verilmiş olan sayıları yazınız

Birler Bölüğü	708
Binler Bölüğü	30
Sayı:	

Binler Bölüğü	253
Birler Bölüğü	23
Sayı:	

5 Puan

- 6) Aşağıdaki sayıları en yakın onluğa ve yüzlüğe yuvarlayınız. 5 Puan

Onluğa	Sayı	Yüzlüğe
	642	
	1568	
	8109	
	359	
	3524	

