



# KESİRLER (BÜTÜN - YARIM) 6





1-) Aşağıdaki resimlerde aynı bütünün yarısı olan nesnelere eşleştiriniz.



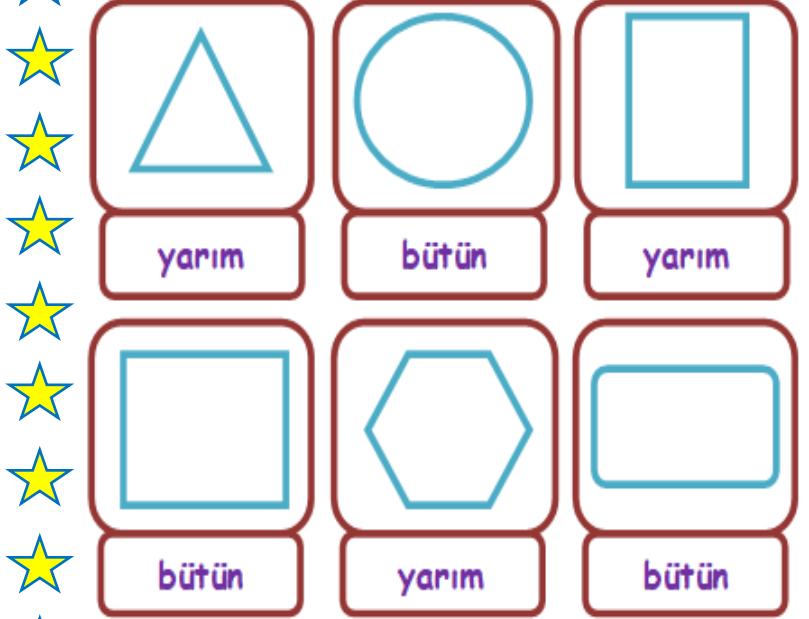
2-) Aşağıdaki görsellerden yarım olanları işaretleyiniz.



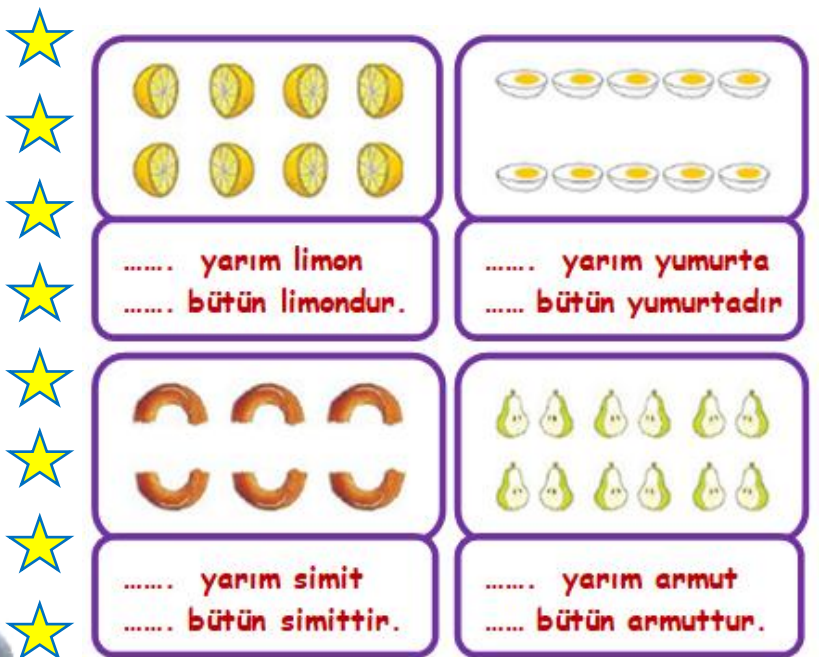
3-) Aşağıdaki görsellerden bütün olanı işaretleyiniz.



4-) Aşağıda verilen şekillerin istenilen kadarını bütün boyayınız.



5-) Aşağıdaki görsellerin ifade ettiği kadarını doğru şekilde doldurunuz.



6-) Aşağıdaki soruları cevaplayınız.

4 bütün simiti yarım yarım kaç çocuk paylaşabilir? **Cevap:**

10 yarım havuç yiyen bir tavşan kaç bütün havuç yemiştir? **Cevap:**