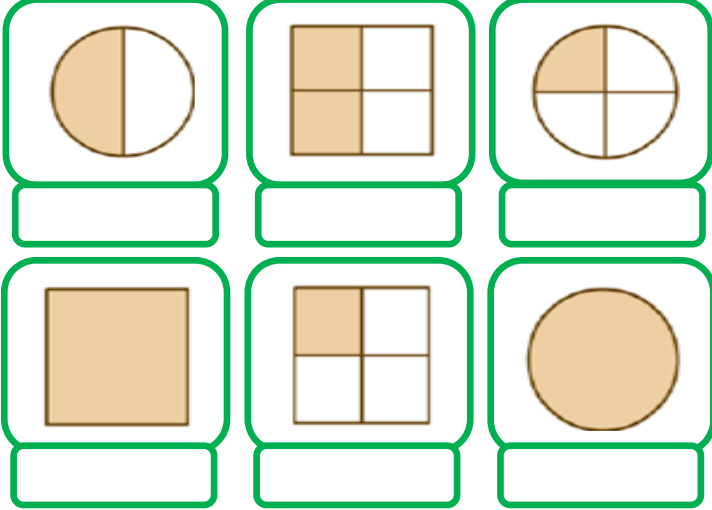




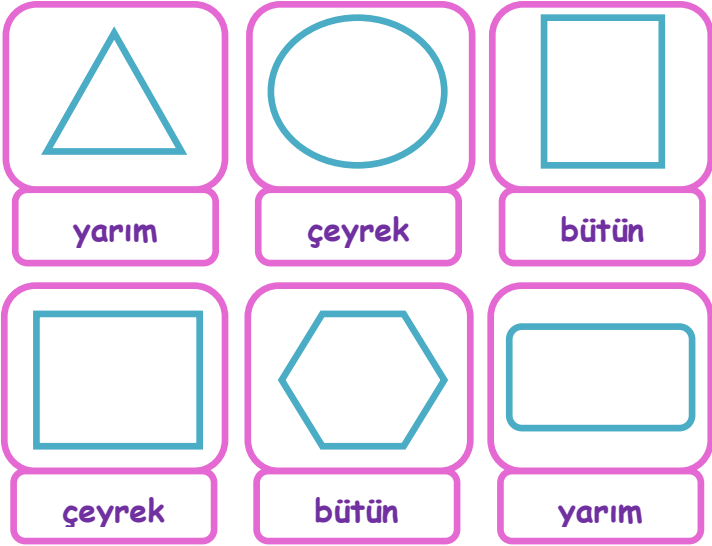
# BÜTÜN -YARIM -ÇEYREK




- Aşağıda şekillerin boyalı bölümlerini "bütün, yarım, çeyrek" olarak altlarına yazınız.




- Aşağıda verilen şekillerin altlarında yazılan kısım çizdikten sonra boyayınız.



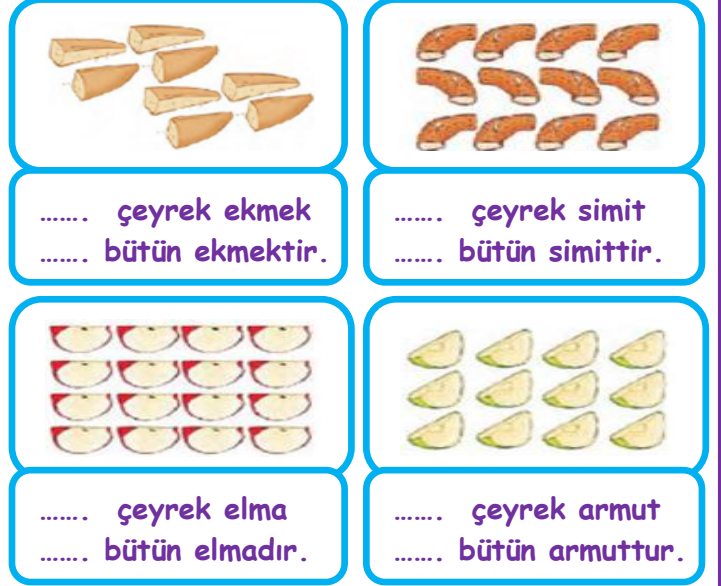
- Aşağıdaki verilen şekillerin çeyreğini ayırınız.



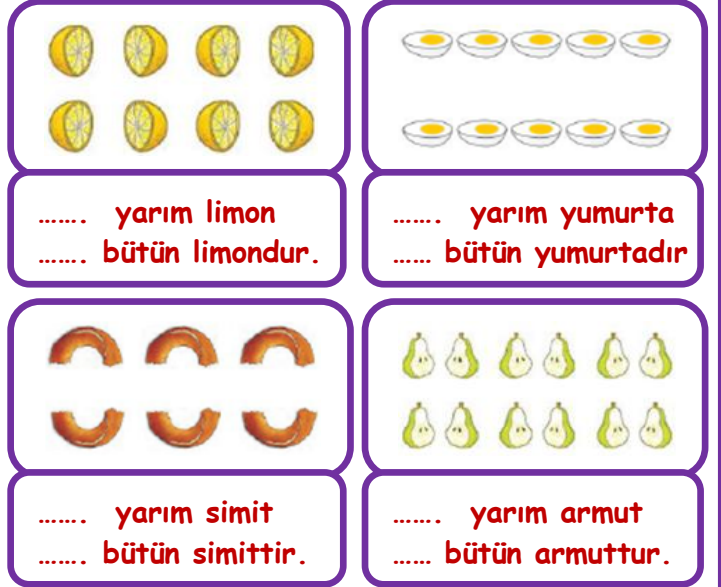
- Aşağıdaki verilen şekillerin yarısını ayırınız.



- Bir bütününde 4 çeyrek vardır. Buna göre aşağıda verilen çeyrekleri gruplayarak kaç bütün oluşturduğunu şekillerin altına yazınız.



- Bir bütününde 2 yarım vardır. Buna göre aşağıda verilen yarımaları gruplayarak kaç bütün oluşturduğunu şekillerin altına yazınız.



- Aşağıdaki şekillerde bütünlerin kaç yarım oluşturduklarını şekillerin altına yazınız.

