

KESİR PROBLEMLERİ 1

1-) Maysa'nın 16 tane elması vardır. Bu elmaların çeyreğini ablası Bulut'a veriyor. Maysa'nın geriye kaç elması kalmıştır?



Cevap:



Kukuli yukarıdaki muzların çeyreğini yediğine göre kaç muz yemiştir?



Cevap:

3-) Arı Maya sabah 8 yarım çita bal akşam ise 8 çeyrek çita bal yapmıştır. Arı Maya bir günde kaç bütün çita bal yapmıştır?



Cevap:

4-) Kral Şakir'in 2 düzine kalemi vardır. Bu kalemlerin çeyreğini arkadaşları ile paylaşıyor. Geriye kaç kalemi kalmıştır?




Cevap:

5-) Fil Necati sabah 8 çeyrek dürüm, öğlen 10 yarım dürüm, akşam ise 5 bütün dürüm yemiştir. Fil Necati bir günde kaç bütün dürüm yemiştir?



Cevap:

6-)



Nasrettin Hoca yukarıda verilen çeyrek elmaları elde edebilmek için kaç bütün elma kesmiştir?



Cevap:

7-) Elif'in sınıfında 16 öğrenci vardır. Sınıfın yarısı kız öğrencidir. Kız öğrencilerin çeyreği gözlüklüdür. Elif'in sınıfında kaç tane gözlüklü kız öğrenci vardır?



Cevap:

8-) Maşa 2 deste gül topluyor. Topladığı gülleri vazoya koyuyor. Vazodaki güllerin yarısı solduğuna göre sağlam kaç gül kalmıştır?



İskender07

Cevap:


KESİR PROBLEMLERİ 2

1-) Koca Ayı 10 yaşındadır. Maşa'nın yaşı ise Koca Ayı'nın yaşının **yarısı** kadardır. İkisinin yaşları toplamı kaçtır?



Cevap:

2-)



Remzi bir tencere dolmaya yukarıdaki yarım limonları sıkmıştır. Remzi kaç tane bütün limon kullanmıştır?



Cevap:

3-) Tanju marketten aldığı **3 düzine** gofretin **2 destesini** yedi. Kalan gofretin çeyreğini arkadaşlarına dağıttı. Arkadaşlarına kaç gofret dağıtmıştır?



Cevap:

4-)



Mandalina yukarıda verilen bütün karpuzları **yarım** haline getirip hepsini arkadaşlarına dağıtıyor. Kaç arkadaşına dağıtmıştır?



Cevap:

www.mebders.com

5-) Garfield oltasıyla 24 tane balık tutmuştur. Bu balıkların **yarısı** çipura balığıdır. Kalan balıkların ise **çeyreği** levreklerdir. Garfield kaç levrek tutmuştur?



Cevap:

6-) Akıllı Tavşan Momo tarlasından **2 deste** havuç toplamıştır. Bu havuçlardan **16 çeyrek** ve **10 yarım** havucu yediğine göre geriye kaç havucu kalmıştır?




Cevap:

7-) Doru çiftlikteki saman balyalarının çeyreğini yemiştir. Doru 9 balya saman yediğine göre çiftlikte kaç saman balyası vardır?



Cevap:

8-)



Keloğlan yukarıda verilen yarım ve çeyrek simitleri yemiştir. Kaç bütün simit yemiştir?



Cevap:

İskender07 (İlkokul etkinlikleri)

İskender07