



Noktalı yerlere ismimizi yazarak metni okuyalım.

..... İLE NASREDDİN HOCA

..... ve ailesi git-
tikleri piknik alanında istop
oyuyorlardı. Bir süre
sonra top sazlıkların ara-
sına kaçmıştı. topu
aramaya başladı. O esna-
da göl kenarından



gelen bir ses duydu. Sesin geldiği yöne doğru gitti. Bir de ne
görsün. Nasreddin Hoca göl kenarında bir şeyler yapıyor. :

- Merhaba hocam, göl kenarında tek başına ne yapıyorsun?

Nasrettin Hoca:

- Merhaba, göle yoğurt mayalıyorum.

Bu cevaba şaşırın dayanamayıp sordu:

- Hocam, hiç göl maya tutar mı?

Nasreddin Hoca:

- Ya tutarsa?



Aşağıdaki soruları metne göre cevaplayalım.



..... ve ailesi nereye gitmişler?



..... ve ailesi hangi oyunu oynamışlar?



Topu aramaya kim gitmiş?



Nasreddin Hoca göl kenarında ne yapıyormuş?



..... niçin şaşırmış?



NOKTALAMA İŞARETLERİ-İ

★ Noktalama işaretleri doğru olanlar için soldaki, yanlış olanlar için sağdaki harfi boyayarak şifreyi çözelim.

D	Y	İfade
N	S	İbrahim bugün okula gelemeyecekti.
O	A	Fatih niçin gelemeyecekti?
L	K	Hasta mı olmuş, bilmiyorum?
T	A	Annesi, babası ve Arda köye gitmişler.
A	T	Köyde ne yapacaklarmış?
A	L	Ezel de bizimle mi gelecek.
A	L	Köyde elma, armut ve üzüm topladık.
I	M	Bu saat senin mi. Söylemedi.
K	A	Eve gittim. üzerimi değiştirdim ve oyun oynadım.

Gizli Sözcük



--	--	--	--	--	--	--	--	--	--

★ Cümlelerde yay ayraç ile belirtilen yerlere uygun noktalama işaretlerini koyalım.

Babam bisiklete binmek için kask() dizlik ve dirseklik aldı()

Erkenden sınıfa geldim() çantamı koydum()

Yaz tatilinde nereye gideceksiniz()

Eymen() Miraç() Hasan ve Nihat futbol oynuyor mu()

Kardeşim evde mi() bahçede mi() hatırlamıyorum()

Öğretmenimiz geldi() yerine oturdu() okumaya başladık()

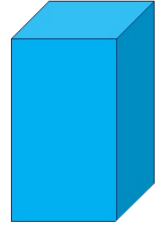

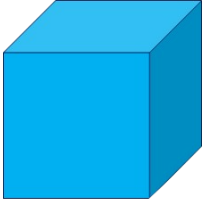
Celil kantinden tost() ayran ve su almış mı()



GEOMETRİK CİSİMLER



Aşağıdaki geometrik cisimlerin isimlerini yazalım.

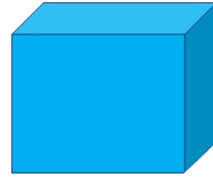
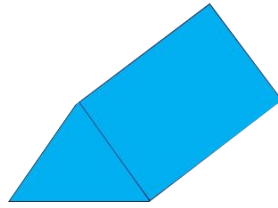



.....

.....

.....

.....



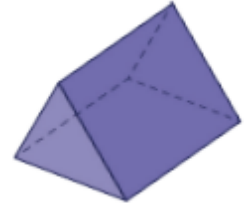
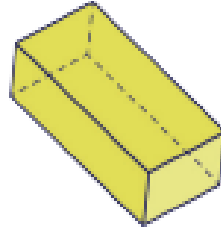
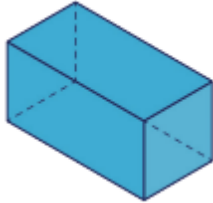
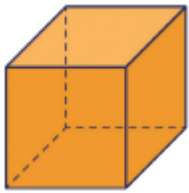
.....

.....

.....



Aşağıdaki geometrik cisimlerin köşelerini işaretleyerek köşe sayılarını yazalım.



Köşe Sayısı:



Köşe Sayısı:

Köşe Sayısı:

Köşe Sayısı:



Aşağıdaki geometrik cisimlerden köşesi ve ayrıtı olmayanları çember içine alalım.



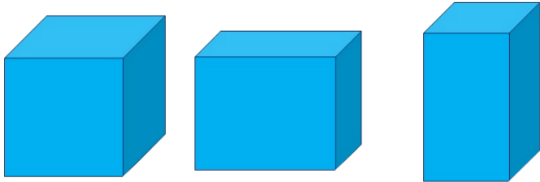


GEOMETRİK CİSİMLER

★ Aşağıdaki tabloda geometrik cisimlerin köşe, yüz ve ayrıt sayılarını yazalım.

Geometrik Cisim	Köşe Sayısı	Yüz Sayısı	Ayrıt Sayısı
Küp			
Kare Prizma			
Dikdörtgen Prizma			
Üçgen Prizma			
Koni			
Küre			
Silindir			

★ Aşağıdaki geometrik cisimlerin benzer ve farklı yönlerini yazalım.



Benzer Yönleri

.....

.....

.....

.....


Farklı Yönleri

.....

.....

.....

.....



Benzer Yönleri

.....

.....

.....

.....

Farklı Yönleri

.....

.....

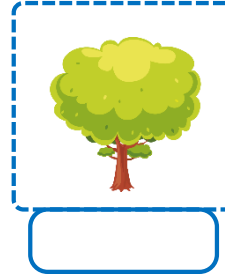
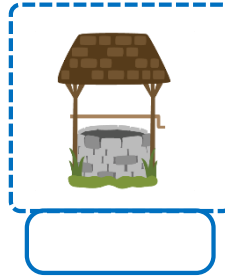


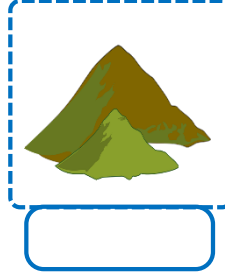

.....

.....



DOĞAL VE YAPAY ÇEVRE

★ Aşağıdaki varlıklardan doğal çevrenin parçası olanlara 'Doğal', yapay çevrenin parçası olanlara 'Yapay' yazalım.



★ Aşağıda verilen bilgilere göre tablodaki yerlerden doğal anıt olanları sarı, milli park olanları yeşil renge boyayalım.

Doğal Anıt: Doğa olaylarının etkisiyle çok uzun süreçte oluşmuş, doğa tarihi hakkında bilgi veren oluşumlardır.

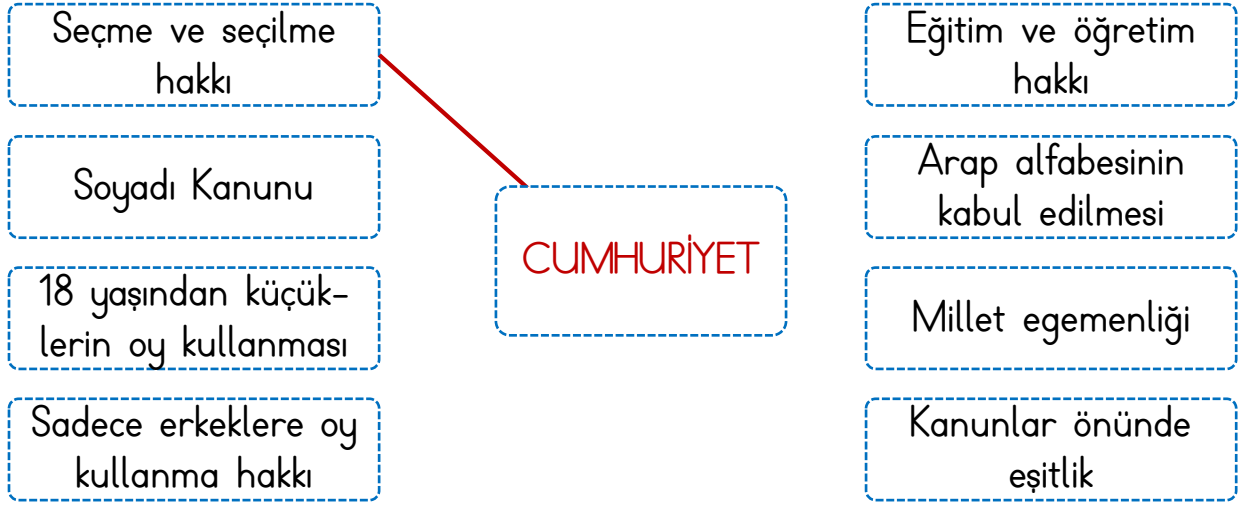
Milli Park: Dinlenme, eğlenme, oynama ihtiyacımızı karşılayan, bilimsel ve estetik bakımından ender bulunan, doğal ve kültürel alanlardır.

Pamukkale Travertenleri	Nevşehir Peri Bacaları	Nemrut Dağı Krater Gölü
Uludağ	Manyas Kuş Cenneti	Kaz Dağları
Yedi Göller	Cennet-Cehennem Mağaraları	Saklıkent
Abant Gölü	Köprülü Kanyon	Kaçkar Dağları



CUMHURİYET İLE BİRLİKTE

★ Cumhuriyet yönetiminin bize kazandırdıklarını ok çizerek örnekteki gibi gösterelim.



★ Aşağıdaki ifadelerden **doğru** olanların kutusunu **yeşile**, **yanlış** olanların kutusunu **kırmızıya** boyayalım.

- Ülkemizin yönetim şekli cumhuriyettir.
- Cumhuriyet halkın temsilciler seçerek kendini yönetmesidir.
- Kurtuluş Savaşı'ndan önce ülkemizin adı Osmanlı Devleti'di.
- Osmanlı Devleti'nin yönetim şekli cumhuriyettir.
- Cumhuriyet 23 Nisan 1920'de ilân edilmiştir.
- İlk cumhurbaşkanımız Mustafa Kemal Atatürk'tür.
- 12 yaşını dolduran herkes seçme ve seçilme hakkı kazanır.
- Cumhuriyetle birlikte pek çok hakkımızı kaybettik.
- Türkiye Cumhuriyeti, özgür ve bağımsız bir devlettir.
- Cumhuriyetten sonra bir çok hak ve özgürlük ilân edilmiştir.





GEZDİK GÖRDÜK

★ Aşağıdaki turistik yerlerin tarihi eser mi, yoksa doğal turistik yer mi olduklarını örnekteki gibi altlarına yazalım.



Doğal turistik yer



★ Yaşadığımız ilde bulunan turistik yerlerden birini araştırarak edindiğimiz bilgileri yazalım.

.....

.....

.....

.....

.....

.....

.....

.....

.....


.....

.....



EĞLENCE ZAMANI

★ Nasreddin Hoca'nın göle yoğurt mayalamak için yardımımıza ihtiyacı var. Nasreddin Hoca'yı göle ulaştıralım.



★ Acaba yoğurt nasıl mayalanıyor? Aile büyüklerimizden ve genel ağ üzerinden araştırma yaparak yoğurt yapımını aşama aşama yazalım.

.....

.....

.....

.....

.....

.....

.....

.....

.....

.....

