



KARTALLAR

Kartal yavruları doğduktan sekiz, dokuz gün sonra dört kilogram, ağırlığa ulaşır. Kartal yavrularının doğduklarında rengi gridir. Dört yaşına kadar gri tüylere sahip olan kartal yavruları daha sonra ebeveynlerinin rengini almaya başlar. Afrika, Asya ve Avrupa kıtalarında 60'ın üzerinde kartal türleri bulunmaktadır.

Kartallar, eski yıllarda polislere ve ordulara yardım için kullanılmıştır. Kuş türleri içinde en uzun yaşayan canlılardır. Kartal türlerinin çoğunda dişi olan kartallar erkek olan kartallardan daha güçlü ve daha büyüktürler. Gökyüzünde en yüksekten uçan kuş türü kartallardır.

Not: İlk 3 soruyu metne göre cevaplayınız.

1) Kartallar ile ilgili hangi bilgi **yanlıştır**?

- A) Erkek olan kartallar dişi olan kartallardan daha güçlü ve daha büyüktürler.
 B) 60'dan fazla kartal türü bulunmaktadır.
 C) Kuş türleri içinde en uzun yaşayan canlılardır.


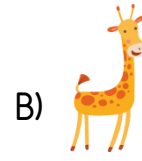
2) Gökyüzünde en yüksekten uçan kuş türü **hangisidir**?

- A) Karga B) Şahin C) Kartal

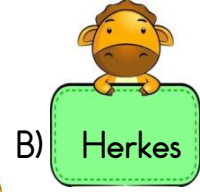
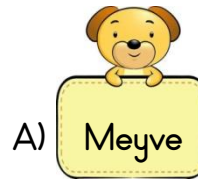
3) Kartallar, eski yıllarda kimlere yardım etmek için **kullanılmamıştır**?

- A) Polislere B) Çiftçilere
 C) Ordulara

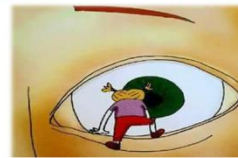
4) Aşağıdaki hayvanların hangisinin adındaki harf sayısı "**pencere**" kelimesindeki harf sayısına eşittir?



5) Aşağıdaki tabelalarda yazılı olan kelimelerden hangisinin **yazımı yanlıştır**?



6) Aşağıda verilen deyimlerin hangisinde "**Davranış ve yetenekleriyle ilgi ve önem kazanmak**" anlamı vardır?





Otobüsteki yolcular balık istifi gibi dizilmişlerdi.

Yukarıdaki cümlede kullanılan "balık istifi" deyiminin anlamı aşağıdakilerden hangisidir?

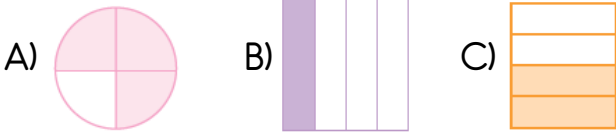
- A) Şaşırarak, telaşlanmak
- B) Çok sıkışık bir durumda olmak
- C) Önemsiz bir olayı büyütmek

8) Satranç() dama ve mangala oyununu Hakan()dan daha iyi oynarım.

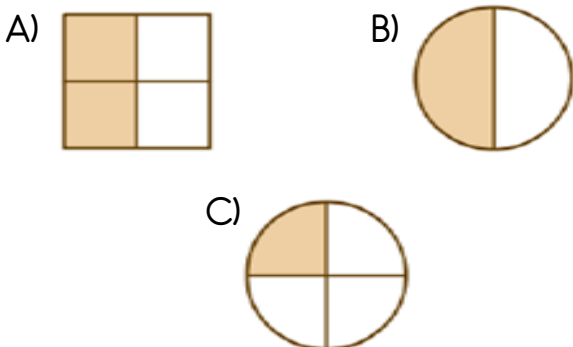
Yukarıdaki cümlede parantez ile belirtilen yerlere hangi noktalama işareti gelemez?

- A) Kesme işareti
- B) Virgül
- C) Ünlem


9) Aşağıda verilen şekillerden hangisinin çeyreği boyanmıştır?



10) Aşağıda verilen şekillerden hangisi yarımı ifade etmez?




11)



Yukarıda verilen yarım narlar kaç bütün nar oluşturmaktadır?

- A) 5
- B) 4
- C) 3

12)



Yukarıdaki verilen karpuzlardan kaç yarım karpuz elde ederiz?

- A) 4
- B) 8
- C) 16

13)



Yukarıda verilen simitlerden kaç bütün simit elde edebiliriz?

- A) 6
- B) 8
- C) 9

14)



Kadriye yukarıda verilen yarım pizzalardan kaç çeyrek pizza oluşturabilir?

- A) 16
- B) 24
- C) 32



- 15) Mert'in sınıfında 28 öğrenci vardır. Sınıftaki kız öğrencilerin sayısı, sınıfın çeyreğinden 6 fazladır. Bu sınıfta kaç kız öğrenci vardır?

A) 13 B) 20 C) 36

- 16) Milli gün ve bayramlar, toplumun birlik ve beraberliğini artıran özel günlerdir.

Milli bayramlarda aşağıda verilenlerden hangisi **söz edilemez**?

- A) Vatan sevgisi
B) Bağımsızlık
C) Doğa sevgisi

- 17)
- | | |
|-------|---------|
| Nisan | Ağustos |
| Ekim | Temmuz |
| Kasım | Mayıs |

Yukarıda verilen ayların hangisinde milli gün ve bayram **kutlanmaz**?

- A)
B)
C)

- 18) Öğrencilerin milli bayramlarda sınıflarını süslemeleri hangi duygu ve düşüncenin gelişmesini sağlar?

A) Milli birlik duygusu
B) Paylaşma duygusu
C) Küçüklerini koruma duygusu

- 19) Bugün, Atatürk önderliğinde Türkiye Cumhuriyeti Devleti kuruldu.

Ayşe bu konuşmayı aşağıdaki milli bayramlardan hangisinin kutlandığı gün yapmıştır?

- A) Zafer Bayramı
B) Ulusal Egemenlik ve Çocuk Bayramı
C) Cumhuriyet Bayramı

- 20) Milli Mücadele'nin başlangıcı olarak kabul edilen, Atatürk'ün Samsun'a çıkması sonucunda kutladığımız milli bayram aşağıdakilerden hangisidir?

A) Zafer Bayramı
B) Atatürk'ü Anma Gençlik ve Spor Bayramı
C) Cumhuriyet Bayramı

Cevap Anahtarı

1)A 2)C 3)B 4)A 5)C
6)A 7)B 8)C 9)B 10)C
11)A 12)B 13)A 14)C 15)A
16)C 17)A 18)A 19)C 20)B