

ORMAN HAFTASI

Ülkemizde 21-26 Mart tarihleri arası Orman Haftası olarak kutlanmaktadır. Orman; hayvanların barındığı, çeşitli bitkilerin bulunduğu sık ağaç topluluklarıdır. Ormanda büyük ağaçlar, mantarlar, otlar, yüzlerce, binlerce bitki bir arada bulunur.

Eskiden yeryüzünün büyük bir kısmı ormanlarla kaplıydı. İnsanların bilgisizlikleri nedeniyle yok edilen ormanların yerini bozkırlar, çoraklaşan topraklar, çöller aldı.



Ormanlar, toprağın nemli kalmasını sağlar. Toprağın kaymasını (heyelan) önler, selleri durdurur. Yağmurun yağmasını sağlar. Çok sıcakları, şiddetli soğukları önler. Ormanlar bir ülkenin doğal güzellik ve zenginlik kaynağıdır. Bize bu kadar yarar sağlayan, ülke ekonomisinde önemli yeri olan ormanları korumalıyız.

Funda MENEKŞE

Not: İlk 3 soruyu metne göre cevaplayınız.

1) Aşağıdakilerden hangisi ormanlarda yer alan canlılardan biri **değildir**?

- A) Bitkiler
- B) Ahtapotlar
- C) Mantarlar

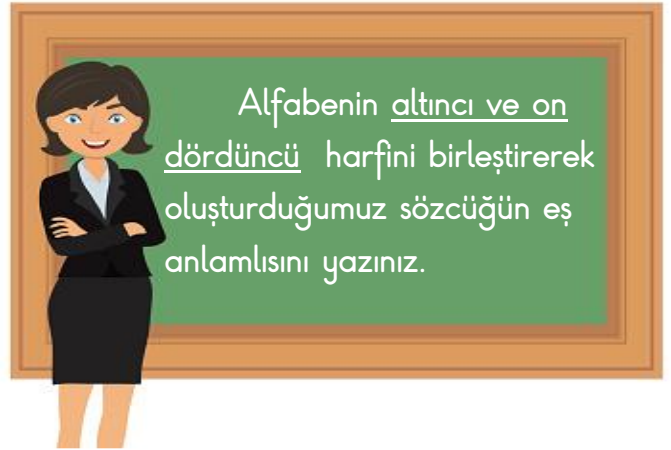
2) İnsanların bilgisizlikleri nedeniyle yok ettiği ormanların yerini aşağıdakilerden hangisi **almamıştır**?

- A) Çöller
- B) Bozkırlar
- C) Tarım arazileri




3) Aşağıdakilerden hangisi ormanların sağladığı faydalardan birisi **değildir**?

- A) Heyelanları önler.
- B) Yağmurun yağmasını sağlar.
- C) Havanın çok sıcak olmasını sağlar.

4)



Aşağıdaki çocuklardan hangisi öğretmenin sorduğu soruyu **doğru** cevaplamıştır?

- A)  İlave
- B)  Konut
- C)  Yabancı

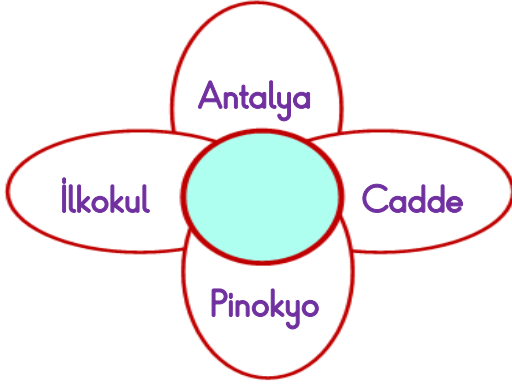


5) Ağaçlar, keçiler tahtalar,

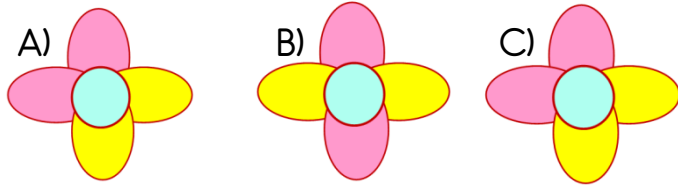
Melih tahtaya, çoğul isimlerden dört tane yazacaktır. Aşağıdakilerden hangisini dördüncü kelimenin yerine yazamaz?

- A) Fular B) Ayakkabılar
C) Taşlar

6)



Yukarıdaki çiçeğin yapraklarında yer alan kelimelerden özel adlar pembeye, tür adları sarıya boyanacaktır. Buna göre çiçeğin son görüntüsü hangisidir?

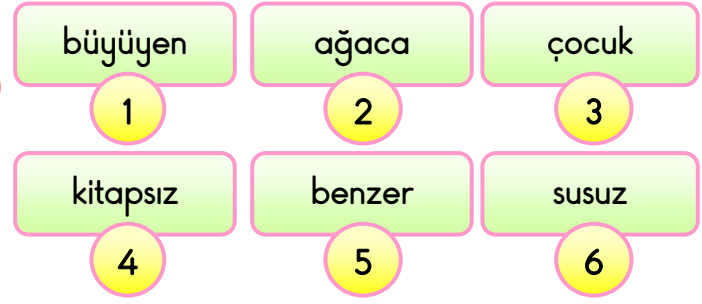


7) "Kamil _____ ödevini yapmadı ?"

Yukarıdaki cümlenin sonuna soru işareti konmuştur. Buna göre boş bırakılan yere hangi kelime yazılabilir?

- A) akşam B) evde
C) niçin

8)



Yukarıdaki kelimelerle kurallı ve anlamlı bir cümle oluşturulursa sıralama nasıl olur?

- A) 6-1-3-4-2-5 B) 4-1-3-6-2-5
C) 1-4-6-3-5-2

9)

- 1-) Hasanlar yarın tiyatroya gidecekler.
2-) İlk ders 08.40da başlayacak.
3-) Dayım İzmir'e uçakla gitti.

Yukarıdaki cümlelerin hangilerinde kesme işareti kullanılmalıdır?


- A) 1 ve 2 B) 2 ve 3 C) 1, 2 ve 3


10)


Toplumda her meslek grubu hayatımızı kolaylaştıran işler yapar. Temizlik işçileri sayesinde tertemiz sokaklarda gezeriz. Doktorlar sayesinde hastalandığımızda iyileşiriz. Öğretmenlerimizin fedakâr çalışmalarıyla bilgi ediniriz. Farklı mesleklerden insanlar, toplumun çeşitli ihtiyaçlarını karşılar.

Bu metnin ana düşüncesi hangisidir?

- A) Çeşitli meslek sahipleri ihtiyaçlarımızı giderir.
B) Çevremizi korumalı ve temiz tutmalıyız.
C) Mesleğini seven insanlar hayatta çok başarılı olurlar.


11)  84 sayısı, 4 birlik
8 onluktan oluşmaktadır.


 56 sayısının onlar
basamağının basamak
değeri 50'dir.

 28 kalemin 6 fazlası
3 düzineye eşittir.

Hangi öğrencinin söylediği ifade **yanlıştır**?

- A)  B)  C) 


12)  $51 - 47 - 43 - \blacktriangle - 35$

 $29 - 32 - \blacksquare - 38 - 41$

Ali ve Ela'nın söylediği sayı örüntülerinde

\blacktriangle ve \blacksquare yerlerine yazılacak sayıların
toplamı kaçtır?

- A) 76 B) 74 C) 72

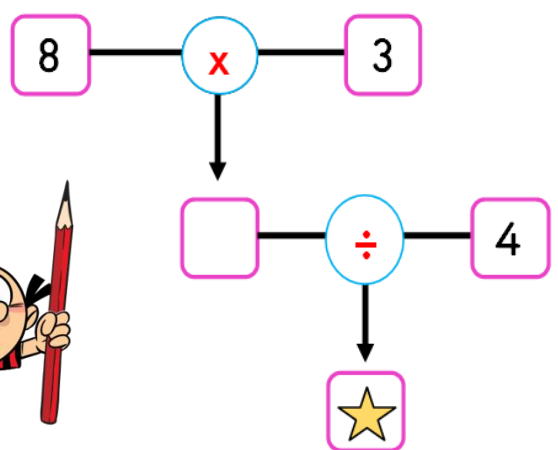

13)  Mehmet'in kitaplığındaki kitap sayısı
7 desteden 6 fazladır. Mehmet bu
kitapların 39 tanesini okumuştur.
Geriye **okumadığı** kaç kitap kalmıştır?

- A) 37 B) 42 C) 47

14)  $26 + 17$ $72 - 35$
 $51 - 18$ $17 + 27$





Efe, yukarıdaki işlemleri yaptıktan sonra
sonuçları en yakın onluğa yuvarlıyor. **En yakın
onluğu 40 olan** sayıları potaya basket atıyor.
Efe potaya kaç basket atmıştır?

- A) 3 B) 2 C) 1







15)  $8 \times 3 = \square \div 4 = \star$



Gülsüm yukarıdaki oklar yönündeki işlemleri
yaparak " \star " yerine yazılması gereken sayıyı
kaç bulmuştur?

- A) 4 B) 5 C) 6

16) 6×3  7×4 
 9×2  4×4 

Yukarıda verilen hangi iki işlemin sonuçları birbirine eşittir?

- A)   B)  
 C)  



Yukarıda verilen görsellerde 1 sürahiyi 5 su bardağı, 1 kovayı da 4 sürahi su dolduruyor. Buna göre 2 kovayı kaç su bardağı doldurabilir?

- A) 20 B) 25 C) 40


18)

Bir perde için 9 metre kumaş kullandım. Toplam 4 perde diktim ve 28 metre kumaşım arttı.

Terzinin başlangıçta kaç metre kumaşı vardır?

- A) 58 B) 64 C) 68

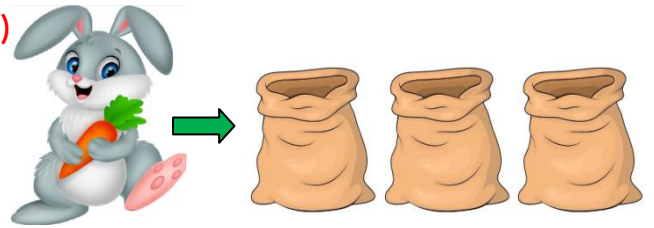
19)



Aşağıdakilerden hangisi yukarıda verilen bölme işlemlerine ait bir ardışık çıkarma işlemi değildir?

- A) $12 - 3 = 9$
 $9 - 3 = 6$
 $6 - 3 = 3$
 $3 - 3 = 0$
- B) $20 - 4 = 16$
 $16 - 4 = 12$
 $12 - 4 = 8$
 $8 - 4 = 4$
 $4 - 4 = 0$
- C) $12 - 4 = 12$
 $8 - 4 = 4$
 $4 - 4 = 0$

20)



Tavşan Tonton 63 tane havucun 36 tanesini yedi. Geriye kalan havuçları 3 çuvala eşit şekilde paylaştırdı. Her bir çuvalda kaç havuç vardır?

- A) 9 B) 8 C) 7

- 21) Saygı İş bölümü Kıskançlık
Asabiyet Adil olma Sorumluluk

Yukarıda verilen davranışlardan kaç tanesi grup çalışmalarında gereklidir?

- A) 2 B) 3 C) 4



Ozan

Bu ayakkabılarımdan sıkıldım. Ailemden yeni bir ayakkabı almasını isteyeceğim.

Bu ifadesine göre Ozan için aşağıdakilerden hangisi söylenebilir?

- A) Tutumludur.
B) Aile bütçesine önem vermemektedir.
C) Acil ihtiyaçlarına öncelik vermektedir.

23) Trafikte yardıma ihtiyaç duyan bir bireye, yardım etmek isteyen birisi hangisini yapmamalıdır?

- A) Engelli bir bireye, yolun karşısına geçmesinde yardım etmelidir.
B) Toplu taşıma araçlarında engelliler için ayrılmış koltuklara oturmamalıdır.
C) Karşıdan karşıya geçerken sadece tanıdığı yaşlı kişilere yardım etmelidir.

24)



Yukarıda verilen görsele göre aşağıdakilerden hangisini söyleyemeyiz?

- A) Ailede iş birliği ve dayanışma, aile bütünlüğü için önemlidir.
B) Evde çocukların yapabileceği görev ve sorumluluklar yoktur.
C) Yardımlaşma ile evdeki işler daha kolay yapılır.


25)



Mine

Oyun oynarken güvenliğimizi tehdit eden davranışlardan kaçınmalıyız. Bisiklet, paten, kaykay kullanırken kask ve dizlik takmalıyız.

Aşağıdaki çocuklardan hangisi Mine'nin bahsettiği güvenlik tedbirlerini almamıştır?



26)

Meyve ve sebzelerin mevsiminde tüketilmesi çok önemlidir.

Aşağıda verilen hangi meyve ilkbahar mevsiminde tüketilmesi daha doğrudur?



27)

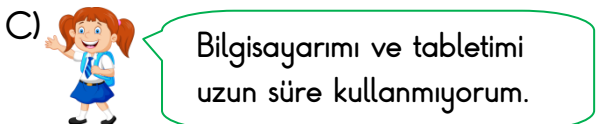
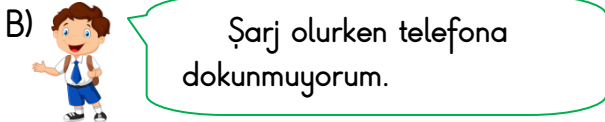
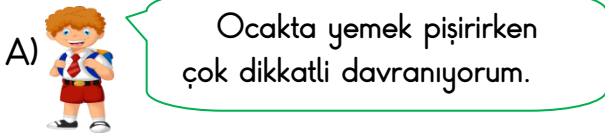
- 1-) Disiplinli
- 2-) Az okuyan
- 3-) Azimli
- 4-) Çalışkan
- 5-) Kararsız



Hangileri Atatürk'ün cocukluk dönemi özelliklerindedir?

- A) 1,2,4 B) 2,3,5 C) 1,3,4

28) 2.sınıfa giden öğrencilerden hangisi teknolojiyi ve teknolojik araç gereçleri güvenli bir şekilde kullanmamaktadır?



29)


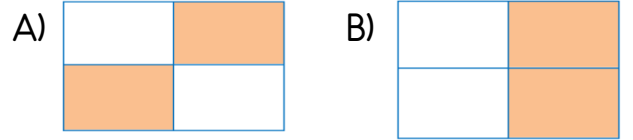
Bayrağımızı ve milli marşımızı başka ülkeler de kullanabilir.

İstiklal Marşı ve bayrağımız bizim bağımsızlık sembolümüzdür.

İstiklal Marşı'nın sözlerini Atatürk yazmıştır.

Bayrağımızı ve İstiklal Marş'ımızı koruyarak saygı duymalıyız.

Bayrağımız ve İstiklal Marşı ile ilgili doğru olan ifadeleri boyadığımızda aşağıdaki hangi şekle ulaşılır?



30) Aşağıda verilen Türkiye haritalarının hangisinde başkentimizin yeri doğru gösterilmiştir?



Cevap Anahtarı

1)B 2)C 3)C 4)A 5)A 6)B 7)C 8)B 9)B 10)A
11)A 12)B 13)A 14)A 15)C 16)A 17)C 18)B 19)C 20)A
21)C 22)B 23)C 24)B 25)A 26)B 27)C 28)A 29)B 30)C