





1) Aşağıdaki harflerden hangisinin simetri doğrusu **çizilemez** ?





- A) **H** B) **D**  
C) **Z** D) **M**

2) Aşağıdaki şekillerden hangisine daha fazla simetri doğrusu çizilebilir?

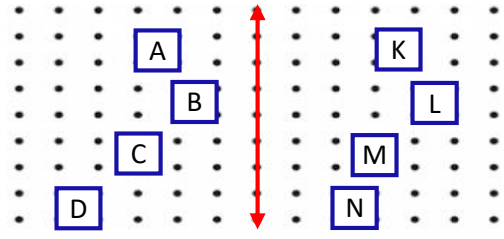
- A)  B)   
C)  D) 

3) Yandaki resmin yatay simetrisi aşağıdakilerden hangisidir ?



- A)  B)   
C)  D) 

4)



Yukarıdaki şekilde hangi kareler birbirinin simetrisidir ?

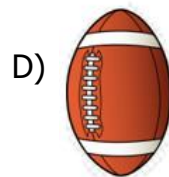
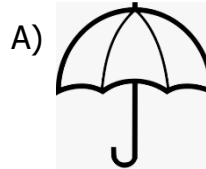
- A) A-K B) B-L  
C) C-M D) D-N

5) Yandaki şeklin kaç tane simetri doğrusu çizilebilir?

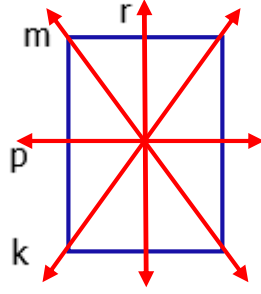


- A) 4 B) 5 C) 6 D) 7

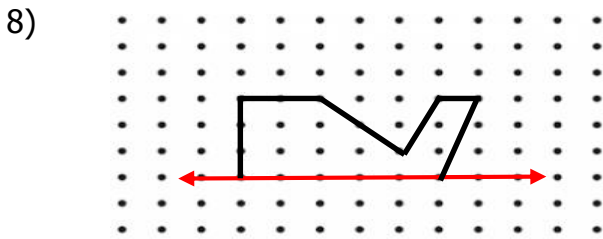
6) Aşağıdaki resimlerden hangisinin simetri doğrusu çizilemez ?



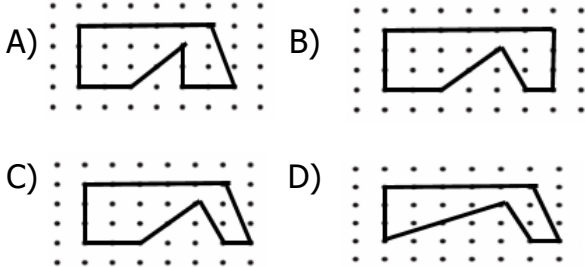
7) Yandaki dikdörtgende doğrulardan hangileri simetri doğrularıdır?



- A)  $p - r$
- B)  $m - r$
- C)  $k - r$
- D)  $k - m$

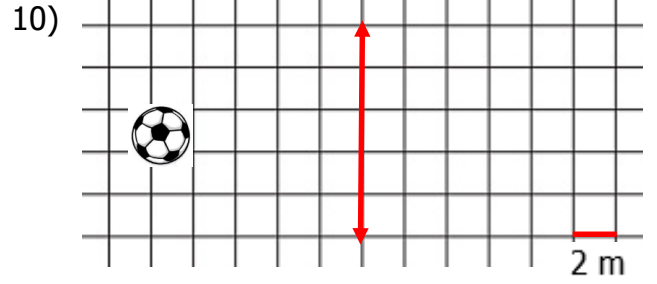


Yukarıdaki açılardan hangileri sembolle doğru gösterilmiştir?



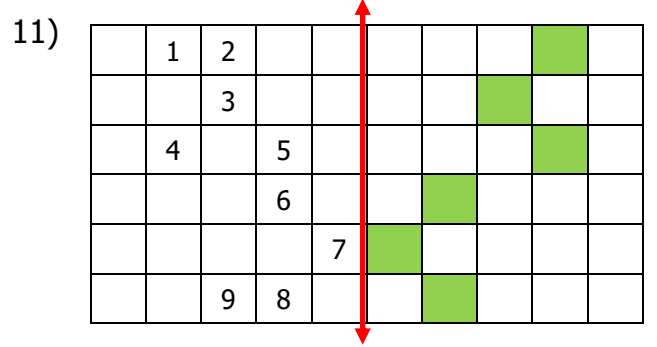
9) I- Karenin köşegenleri simetri doğrusudur.  
 II- Dikdörtgenin köşegenleri simetri doğrusudur.  
 III- Çemberin sonsuz simetri doğrusu vardır.  
 Yukarıdaki ifadelerden hangileri doğrudur ?

- A) I - II
- B) II - III
- C) I - II - III
- D) I - III



Simetri aynasında topun simetri doğrusuna göre oluşacak görüntü ile arasında kaç m olur?

- A) 14 m
- B) 16 m
- C) 13 m
- D) 15 m



Yukarıdaki boyalı kutuların simetrisi boyandığında hangi numaralı kutular **boyanmamış** olur ?

- A) 2 - 3 - 4
- B) 2 - 5 - 9
- C) 5 - 6 - 9
- D) 2 - 6 - 7

12) Bir kağıt gibi iki eşit parça olacak şekilde katlanıyor ve şekildeki gibi makasla kesiliyor. Buna göre kağıdın açılmış şekli hangisi olur?

