



★ Aşağıdaki metni anlayana kadar okuyalım.

SİHİRLİ PASTA

Babaları evden çıkarken “Çocuklar! Bugün size bin kişinin çalışarak hazırladığı bir pasta getireceğim.” demiş. Çocuklar sabırsızlıkla akşamı zor etmişler. Akşam olup kapı zili çalınca hepsi birden kapıya koşmuşlar. Ancak babalarının elindeki özenle hazırlanmış paketten sıradan bir pasta çıkınca hepsi de çok şaşırılmışlar. Babalarına “Hani bize bin kişinin çalışıp hazırladığı bir pasta getirecektin?” diye sormuşlar.



Babaları “Evet yavrularım, size bin kişinin hazırladığı bir pasta getirdim. Düşünün bir kere. Pasta yapmak için un gerekli. Un yapmak için kaç kişi çalışmıştır? Önce tarla sürülecek, ekilecek, biçilecek, harman edilecek. Sonra sadece un da değil. Yumurta, süt, şeker... Bir pastanın soframıza gelmesi için binlerce kişi çalışıyor aslında...”

★ Aşağıdaki soruları metne göre cevaplayalım.



Babaları evden çıkarken ne getireceğini söylemiş?



Kapı zili çalınca çocuklar ne yapmışlar?



Babalarının getirdiği paketten nasıl bir pasta çıkmış?



Pasta yapmak için hangi malzemeler gerekiymiş?



Sen olsaydın metne hangi başlığı verirdin?



KELİMELERİN YAPTIĞI ÇAĞRIŞIMLAR


Bir kelimeyi okuduğumuz veya duyduğumuz zaman bize hatırlattığı, zihnimize canlandırdığı kelimelere kelimenin çağrışımları denir.

★ Aşağıdaki görsellerin çağrıştırdığı kelimeleri örnekteki gibi yazalım.



meyve

kök





KELİMELERİN YAPTIĞI ÇAĞRIŞIMLAR

★ Aşağıdaki kelimelerin çağrıştırdıklarını örnekteki gibi yazalım.

sınıf

park

baba

yatak

ders

öğretmen

aile

kalem

oyuncak

mutfak

market

araba

arı

göz

★ Aşağıdaki kelimelerin hangi kelimeyi çağrıştırdığını yazalım.

peynir

ayakkabı

eldiven

yumurta

yoğurt

çorap

atkı

yuva

kaşık

anne

öğretmen

salıncak

bardak

baba

müdür

kaydırak



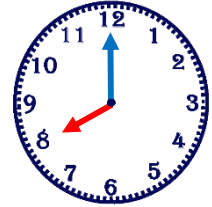
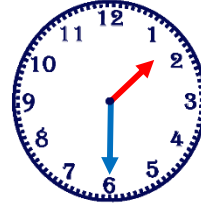
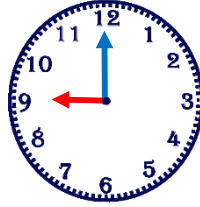
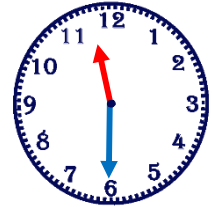
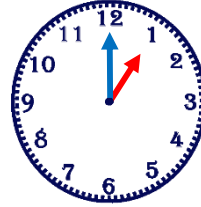
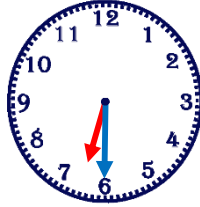
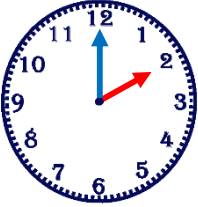
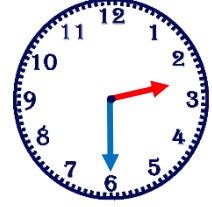
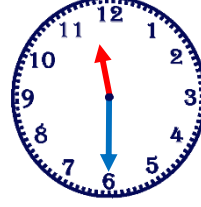
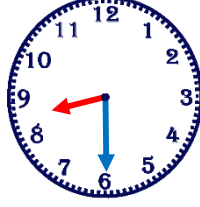
SAATLERİ ÖĞRENELİM



Aşağıdaki saatlerin okunuşlarını örnekteki gibi yazalım.



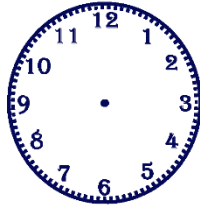
Tam beş




Okunuşları verilen saatlere akrep ve yelkovan çizelim.




Tam üç




Tam sekiz




Tam on bir



Tam dört




Tam on iki



Tam bir



Tam altı



Tam dokuz



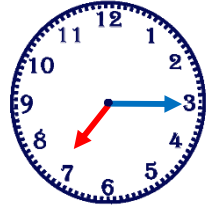
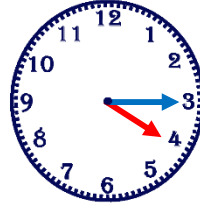
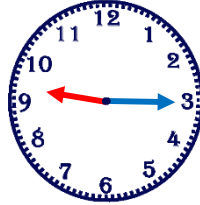
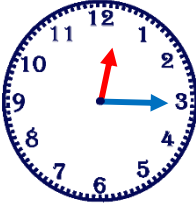
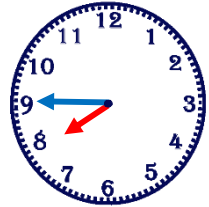
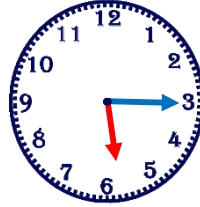
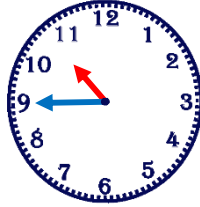
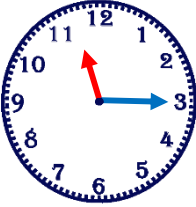
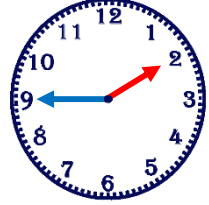
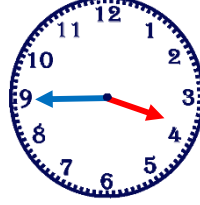
SAATLERİ ÖĞRENELİM



Aşağıdaki saatlerin okunuşlarını örnekteki gibi yazalım.




Beşi çeyrek geçiyor.




Okunuşları verilen saatlere akrep ve yelkovan çizelim.




Yedi buçuk.




Tam on iki.




Üç çeyrek geçiyor.



Beşe çeyrek var.




Tam dokuz.



Ona çeyrek var.



Altı buçuk.



İki çeyrek geçiyor.



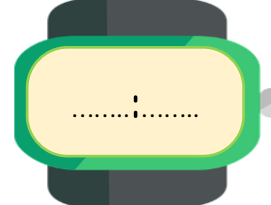
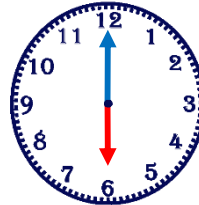
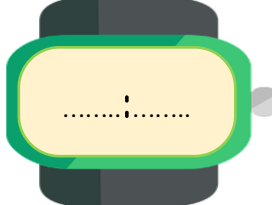
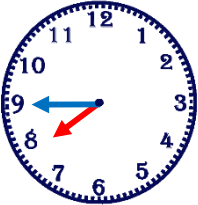
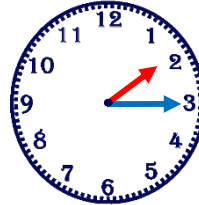
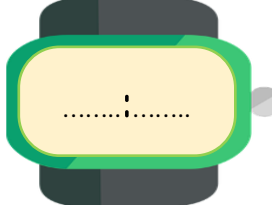
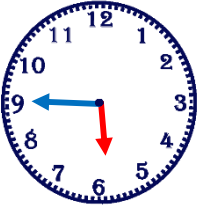
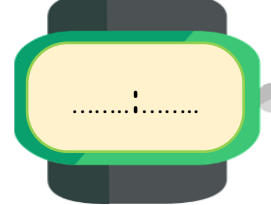
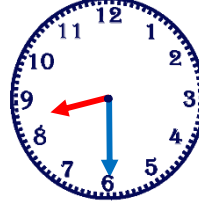
SAATLERİ ÖĞRENELİM



Saatleri dijital saatlerde örnekteki gibi gösterelim.



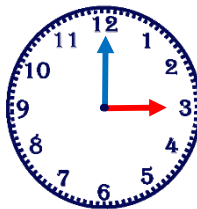
11:00



Saatlerle ilgili istenen bilgileri örnekteki gibi yazalım.

Öğleden önce

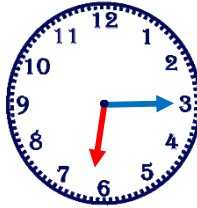
03.00



Öğleden sonra

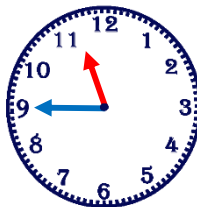
15.00

Öğleden önce



Öğleden sonra

Öğleden önce



Öğleden sonra



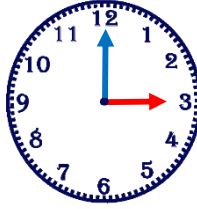
SAATLERİ ÖĞRENELİM



Saatlerle ilgili istenen bilgileri örnekteki gibi yazalım.

1 saat önce

02.00



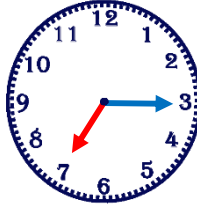
2 saat sonra

2 saat önce



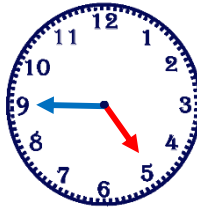
3 saat sonra

1 saat önce



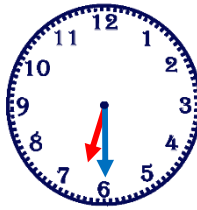
2 saat sonra

2 saat önce



3 saat sonra

4 saat önce



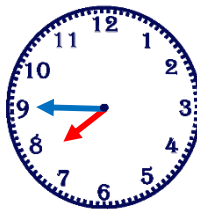
4 saat sonra

5 saat önce



6 saat sonra

5 saat önce



3 saat sonra



2. SINIF HAFTA SONU ETKİNLİKLERİ

28.Hafta (4-8 Nisan)



TAKVİMİ ÖĞRENELİM



Aşağıdaki takvimi inceleyerek soruları cevaplayalım.



HOŞ GELDİN 2022

HASAN YILDIRIM H

OCAK						
Pt	Sa	Ça	Pe	Cu	Ct	Pa
					1	2
3	4	5	6	7	8	9
10	11	12	13	14	15	16
17	18	19	20	21	22	23
24	25	26	27	28	29	30
31						

ŞUBAT						
Pt	Sa	Ça	Pe	Cu	Ct	Pa
	1	2	3	4	5	6
7	8	9	10	11	12	13
14	15	16	17	18	19	20
21	22	23	24	25	26	27
28						

MART						
Pt	Sa	Ça	Pe	Cu	Ct	Pa
	1	2	3	4	5	6
7	8	9	10	11	12	13
14	15	16	17	18	19	20
21	22	23	24	25	26	27
28	29	30	31			

NİSAN						
Pt	Sa	Ça	Pe	Cu	Ct	Pa
				1	2	3
4	5	6	7	8	9	10
11	12	13	14	15	16	17
18	19	20	21	22	23	24
25	26	27	28	29	30	

MAYIS						
Pt	Sa	Ça	Pe	Cu	Ct	Pa
						1
2	3	4	5	6	7	8
9	10	11	12	13	14	15
16	17	18	19	20	21	22
23	24	25	26	27	28	29
30	31					

HAZİRAN						
Pt	Sa	Ça	Pe	Cu	Ct	Pa
			1	2	3	4
5	6	7	8	9	10	11
12	13	14	15	16	17	18
19	20	21	22	23	24	25
26	27	28	29	30		

TEMMUZ						
Pt	Sa	Ça	Pe	Cu	Ct	Pa
					1	2
3	4	5	6	7	8	9
10	11	12	13	14	15	16
17	18	19	20	21	22	23
24	25	26	27	28	29	30
31						

AĞUSTOS						
Pt	Sa	Ça	Pe	Cu	Ct	Pa
	1	2	3	4	5	6
7	8	9	10	11	12	13
14	15	16	17	18	19	20
21	22	23	24	25	26	27
28	29	30	31			

EYLÜL						
Pt	Sa	Ça	Pe	Cu	Ct	Pa
			1	2	3	4
5	6	7	8	9	10	11
12	13	14	15	16	17	18
19	20	21	22	23	24	25
26	27	28	29	30		

EKİM						
Pt	Sa	Ça	Pe	Cu	Ct	Pa
					1	2
3	4	5	6	7	8	9
10	11	12	13	14	15	16
17	18	19	20	21	22	23
24	25	26	27	28	29	30
31						

KASIM						
Pt	Sa	Ça	Pe	Cu	Ct	Pa
	1	2	3	4	5	6
7	8	9	10	11	12	13
14	15	16	17	18	19	20
21	22	23	24	25	26	27
28	29	30				

ARALIK						
Pt	Sa	Ça	Pe	Cu	Ct	Pa
			1	2	3	4
5	6	7	8	9	10	11
12	13	14	15	16	17	18
19	20	21	22	23	24	25
26	27	28	29	30	31	

Bir yılda kaç ay vardır?

.....

Yılın ilk ayı hangisidir?

.....

Yılın son ayı hangisidir?

.....

Mart ayı kaç gündür?

.....

23 Nisan hangi gündür?

.....

19 Mayıs hangi gündür?

.....

Yılın ilk günü hangisidir?

.....

Yılın son günü hangisidir?

.....

Doğum günün ne zaman?

.....

Doğum günün hangi gün?

.....



DİNÎ BAYRAMLARIMIZ

★ Dinî bayramlarımızın isimlerini yazalım. **Unutmayalım:** Bayram isimleri özel isimdir ve ilk harfleri büyük yazılır.

Dinî Bayramlarımız

.....

.....

★ Aşağıda verilenleri ait olduğu bayramla eşleştirelim.

Bayram alışverişi yaparız.

Şeker Bayramı da denir.

Kurban keseriz.

Büyüklerimizi ziyaret ederiz..

Öncesinde oruç tutulur.

İhtiyaç sahiplerine et dağıtılır.

Bayram namazına gideriz.

Bayram temizliği yaparız.

Büyüklerimizin ellerini öperiz.

Şeker ve harçlık toplarız.






EĞLENCE ZAMANI

★ Ekmeğin oluş sürecini sıra bildiren sayıları kullanarak belirtelim.









★ Çiftçi tarlasından topladığı buğdayları değirmene götürmek istiyor. Ancak değirmenin yolunu bilmiyor. Değirmeni bulmasına yardımcı olalım.

