



Aşağıdaki metni anlayana kadar okuyalım.

SİHİRLİ PASTA

Babaları evden çıkarken "Çocuklar! Bugün size bin kişinin çalışarak hazırladığı bir pasta getireceğim." demiş. Çocuklar sabırsızlıkla akşamı zor etmişler. Akşam olup kapı zili çalınca hepsi birden kapıya koşmuşlar. Ancak babalarının elindeki özenle hazırlanmış paketten sıradan bir pasta çıkınca hepsi de çok şaşırmışlar. Babalarına "Hani bize bin kişinin çalışıp hazırladığı bir pasta getirecektin?" diye sormuşlar.



Babaları "Evet yavrularım, size bin kişinin hazırladığı bir pasta getirdim. Düşünün bir kere. Pasta yapmak için un gerekli. Un yapmak için kaç kişi çalışmıştır? Önce tarla sürülecek, ekilecek, biçilecek, harman edilecek. Sonra sadece un da değil. Yumurta, süt, şeker... Bir pastanın soframıza gelmesi için binlerce kişi çalışıyor aslında..."



Aşağıdaki soruları metne göre cevaplayalım.



Babaları evden çıkarken ne getireceğini söylemiş?

.....



Kapı zili çalınca çocuklar ne yapmışlar?

.....



Babalarının getirdiği paketten nasıl bir pasta çıkmış?

.....



Pasta yapmak için hangi malzemeler gerekiymiş?

.....



Sen olsaydın metne hangi başlığı verirdin?

.....



NOKTALAMA İŞARETLERİ-2

★ Noktalama işaretleri doğru olanlar için soldaki, yanlış olanlar için sağdaki harfi boyayarak şifreyi çözelim.

D	Y	İfade
K	K	Melisa'nın babası Melisa'ya yeni bir gözlük almış.
A	I	Yaşasın, annem bana kek yapmış.
R	S	Antalya,İstanbul arası kaç saat sürer?
A	A	Atatürk, 19 Mayıs 1919'da Samsun'a çıkmış.
Ç	K	Te-le-phon
A	İ	Eyvah. Beslenme çantamı evde unuttum!
L	Z	Hayal-in kedisi kaybolmuş.
G	E	Teyzem yarın İzmir'den gelecek.
M	İ	Maçı 3-2 Miraç'lar kazanmış.

Gizli Sözcük



--	--	--	--

--	--	--	--	--

★ Cümlelerde yay ayraç ile belirtilen yerlere uygun noktalama işaretlerini koyalım.

Oley() sınavdan yüz aldım()

Oley() Sınavdan yüz aldım()

Antalya()İstanbul arası 8()9 saat sürer()

Şerife()den boya kalemlerini ödünç istedim()

Heyyy() beni dinleyin()

Türkçe dersinde MEB()in kitabını kullanıyoruz()

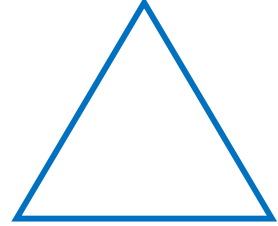
Kitapta sayfa 54()ten 58()e kadar yapılacakmış()



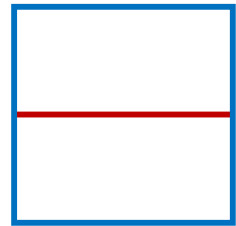


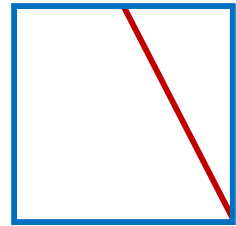


KÖŞEĞENLER




Aşağıdaki şekillerden köşegenleri olanları işaretleyelim.




Aşağıdaki şekillerden köşegenleri doğru olarak çizilenleri işaretleyelim.



Aşağıdaki şekillerin köşegenlerini çizerek tabloda istenen bilgileri yazalım.



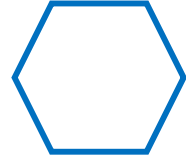
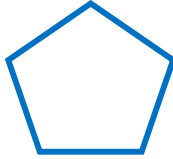
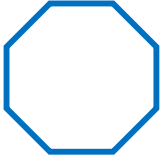
	Kare	Dikdörtgen
Köşe Sayısı		
Kenar Sayısı		
Köşegen Sayısı		



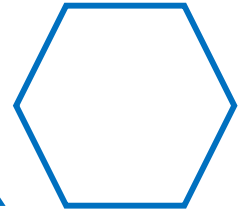
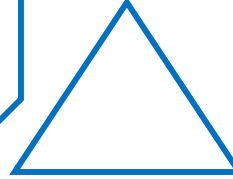
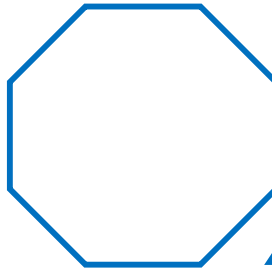
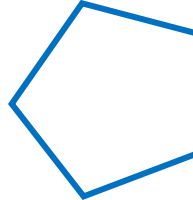

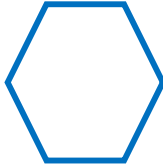
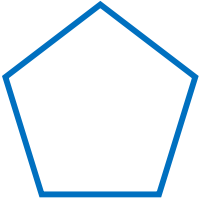


ŞEKİLLERİ İSİMLENDİRELİM

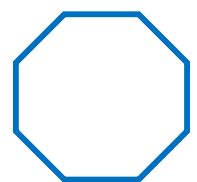
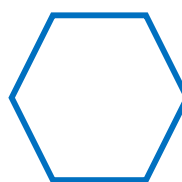
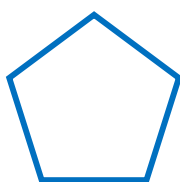
★ Aşağıdaki görselleri benzedikleri geometrik şekillerle eşleştirelim.



★ Aşağıdaki geometrik şekillere köşe sayısı aynı olanları aynı renge boyayalım.



★ Geometrik şekilleri kenar sayılarına göre isimlendirelim.





DOĞAL VE YAPAY ÇEVRE

★ Aşağıdaki tabloyu evimizin çevresini gözlemleyerek örnekteki gibi dolduralım. Soruları tabloya göre cevaplayalım.

Doğal Çevre Unsurları	Yapay Çevre Unsurları
Ağaç	Apartman

Yakın çevremizde daha çok hangisini gözlemleyebildik?

.....

Bunun sebebi ne olabilir?

.....

Doğal ve yapay çevre arasındaki en büyük fark nedir?




.....

★ Aşağıya doğal ve yapay çevre unsurlarının bulunduğu bir resim çizelim. Doğal çevre unsurlarını yeşile, yapay çevre unsurlarını kırmızıya boyayalım.



ÜLKEM İÇİN ÇOK ÇALIŞMALIYIM

★ Görsellerdeki çocukların ülkeleri için hangi görev ve sorumlulukları yerine getirdiklerini altlarına yazalım.



★ Aşağıdaki ifadelerden **doğru** olanların kutusunu **yeşile**, **yanlış** olanların kutusunu **kırmızıya** boyayalım.


- Ülkemize ve milletimize karşı sorumluluklarımız vardır.
- Öğrencinin sorumluluğu çalışıp para kazanmaktır.
- Devletin yasalarına uymak sadece büyüklerin görevidir.
- Ders çalışıp başarılı olmak görev ve sorumluluğumuzdur.
- 18 yaşını doldurunca tüm görev ve sorumluluklarımız biter.



ORTAK KULLANIYORUZ



Görsellerdeki ortak kullanım alanlarını işaretleyelim.



Aşağıdaki ortak kullanım alanlarında dikkat etmemiz gereken kurallara birer örnek yazalım.

Alan	Kural
Park	
Kütüphane	
Hastane	
Piknik Alanı	
Cami	



EĞLENCE ZAMANI

★ Ekmeğin oluş sürecini sıra bildiren sayıları kullanarak belirtelim.



★ Çiftçi tarlasından topladığı buğdayları değirmene götürmek istiyor. Ancak değirmenin yolunu bilmiyor. Değirmeni bulmasına yardımcı olalım.

