

İlkbahar mevsiminde,
Doğa yeniden canlanır.
Sonbaharda giden kuşlar,
Damlarda yerini alır.



Ağaçlar yeşillenir,
Dalları çiçeklenir.
İlkbaharda çocuklar,
Parkları şenlendirir.



Hasan YILDIRIM

(İlk 4 soruyu metne göre cevaplayınız.)

- 1) Hangisi ilkbahar mevsiminin özelliklerinden biri değildir?
A) Doğanın yeniden canlanması
B) Göçmen kuşların geri gelmeleri
C) Ağaçların çiçeklerini dökmeleri

- 2) Metin ile ilgili verilen bilgilerden hangisi doğrudur?
A) Metnin türü düz yazıdır.
B) Metnin konusu mevsimlerdir.
C) Şiir iki dörtlükten oluşmuştur.
- 3) Hangisi metin için uygun bir başlık olabilir?
A) Mevsimleri Öğrenelim
B) İlkbahar Mevsimi
C) Göçmen Kuşlar
- 4) Metinde aşağıdaki yazım kurallarından hangisinin örneği vardır?
A) Özel isimlere gelen ekler kesme işareti ile ayrılır.
B) Şiirin dizeleri büyük harfle başlar.
C) 'Mi' soru eki kendinden önceki sözcükten ayrı yazılır.

- 5) Hangi cümlenin sonuna farklı bir noktalama işareti gelmelidir?
A) Şimdi hangi ders var
B) Eyvah, kalemim evde kalmış
C) Kalemimi alabilir miyim

- 6) ▲ Nasrettin Hoca pazara gitmiş()
● Hoca()nın canı üzüm çekmiş.
■ Bu üzümler nerenin üzümü()
◆ Manisa()nın üzümüdür.
◆ Kilosu 5()ten olur mu?

Yukarıdaki cümlelerden hangilerinde yay ayraç içine kesme işareti gelmelidir?

- A) ▲ ve ◆
B) ▲ , ● ve ■
C) ● , ◆ ve ◆

7) Öğretmenimiz Ezel()in 100 aldı()
ğını söyleyince Ezel "Oley() 100
aldım()" diye çığlık attı()

Yay ayraç ile belirtilen yerlere sırası ile hangi noktalama işaretleri gelmelidir?

- A) (') (-) (,) (!) (.)
B) (') (.) (!) (.) (.)
C) (-) (-) (,) (.) (.)


8) Şekillerin birbirine komşu olmayan köşelerini birleştiren doğru parçasına köşegen denir.

Buna göre aşağıdaki şekillerden hangisinin köşegeni yoktur?

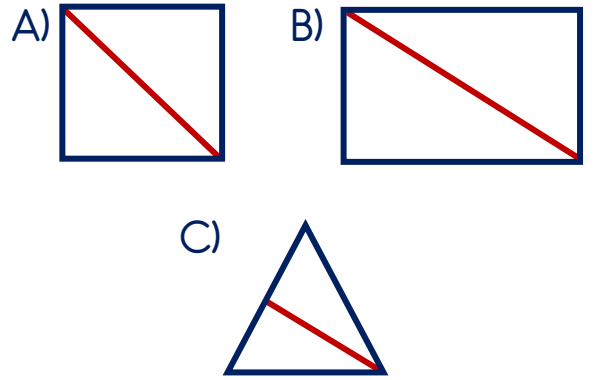
- A) Üçgen B) Kare C) Dikdörtgen

9) Yandaki karede hangi hayvan köşegenin üzerinde durmaktadır?

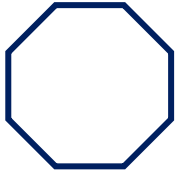


- A)  B)  C) 

10) Aşağıdaki şekillerden hangisinin köşegeni yanlış çizilmiştir?



11) Yandaki şeklin ismi hangi seçenekte verilmiştir?



- A) Beşgen B) Altıgen C) Sekizgen

12) Aşağıdakilerden hangisi altıgenlerden oluşmuştur?

- A) Kelebeklerin kanatları
B) Karıncaların ayak izleri
C) Arıların bal petekleri

13) "Doğallığını koruyan, insanlar tarafından değiştirilmemiş çevreye çevre denir."

Yukarıdaki cümlede boş bırakılan yere hangisi gelmelidir?

A) doğal B) yapay C) tabii

14) Aşağıdakilerden hangisi yapay çevreye örnek olarak verilemez?

A) Baraj B) Köprü C) Göl

15)




Sınıfça gittiğimiz doğa olaylarının etkisiyle uzun bir süreçte oluşmuş.

Verdiği bilgilere göre Miraçların gittikleri yer hangisi olamaz?

A) Peri Bacaları
B) Kaz Dağları Milli Parkı
C) Pamukkale Travertenleri

16) Aşağıdaki hayvanlardan hangisi doğal çevrede yaşamaktadır?



C)



17) Aşağıdakilerden hangisi öğrencilerin ailesine karşı sorumluluğudur?

A) Çalışıp para kazanmak
B) İhtiyaç duyduklarında yardımcı olmak
C) Okul ve sınıf kurallarına uymak

18) Hangisi görev ve sorumluluklarını yerine getiren bir birey için söylenemez?

A) Ailesine ve ülkesine faydalı olur.
B) Ülkesinin gelişimine katkı sağlar.
C) Çevresindekilere kötü örnek olur.

19) Hangisi ortak kullanım alanlarına uygun bir davranış örneğidir?

A) Sınıf kitaplarını özenli kullanmak
B) Parktaki çöpleri yerlere atmak
C) Okul duvarlarına ismini yazmak

20) "Ortak kullanım alanlarına zarar vermek demek, kaynakları demektir."

Yukarıdaki cümlede boş bırakılan yere hangisi gelmelidir?

A) israf etmek
B) tasarruflu kullanmak
C) bilinçli kullanmak

Cevap Kâğıdı

Öğrencinin;

Adı Soyadı: Sınıfı: No: Puanı:

| CEVAPLAR | |
|----------|-------|
| 1 | A B C |
| 2 | A B C |
| 3 | A B C |
| 4 | A B C |
| 5 | A B C |
| 6 | A B C |
| 7 | A B C |
| 8 | A B C |
| 9 | A B C |
| 10 | A B C |
| 11 | A B C |
| 12 | A B C |
| 13 | A B C |
| 14 | A B C |
| 15 | A B C |
| 16 | A B C |
| 17 | A B C |
| 18 | A B C |
| 19 | A B C |
| 20 | A B C |

Cevap Anahtarı

1-C 2-C 3-B 4-B 5-B 6-C 7-A 8-A 9-B 10-C 11-C 12-C 13-A 14-C 15-B 16-C
17-B 18-C 19-A 20-A

Sınava Ait Konu ve Kazanım Listesi

| Ders | Konu | Kazanım |
|---------------|--|--|
| Türkçe | Noktalama İşaretleri (Ünlem İşareti, Kesme İşareti, Kısa Çizgi) | |
| Matematik | Kare, Üçgen, Dikdörtgen ve Köşegenler Şekillerin Kenar Sayılarına Göre İsimlendirilmesi | M.3.2.1.3. Cetvel kullanarak kare, dikdörtgen ve üçgeni çizer; kare ve dikdörtgenin köşegenlerini belirler. M.3.2.1.4. Şekillerin kenar sayılarına göre isimlendirildiklerini fark eder. |
| Fen Bilimleri | Yapay Çevre Tasarlayalım | F.3.6.2.4. Yapay bir çevre tasarlar. |
| Hayat Bilgisi | Ülkem İçin Çok Çalışmalıyım Ortak Kullanıyoruz | HB.3.5.4. Ülkesinin gelişmesi ile kendi görev ve sorumluluklarını yerine getirmesi arasında ilişki kurar. HB.3.5.5. Ortak kullanım alanlarını ve araçlarını korur. |