










TÜRKÇE


1. Etkinlik: Aşağıda verilen cümlelerdeki varlığı ve özelliğini örnekteki gibi yazalım.


| Cümle | Varlık | Özelliği |
|--|--------|----------|
|  Kara kuzu bahçede dolaşiyor. | kuzu | kara |
| Babam <u>büyük kutuyu</u> taşıyor. | | |
| Çocuklar <u>eski evin</u> bahçesinde oynuyorlar. | | |
| Eda <u>sıcak çayı</u> içemez. | | |
|  Ağaçtaki <u>üç kuş</u> kediye görünce uçtu. | | |
|  Tatlı <u>portakalları</u> çabucak yedik. | | |
| Balkondaki <u>kare masayı</u> salona taşıdık. | | |
| Babam <u>bozuk televizyonu</u> tamirciye götürdü. | | |
|  Ercan <u>yüksek duvara</u> hemen çıktı. | | |
|  Kurnaz <u>tilki</u> kümese girmiş. | | |
| Annemin yaptığı <u>güzel keki</u> yedik. | | |
|  İnatçı <u>keçi</u> duvara çıkmış. | | |
| Boylarımı <u>küçük kardeşim</u> almış. | | |
|  Tabaktaki <u>ekşi elmayı</u> ablam aldı. | | |
| Bahçeye <u>demir kapı</u> yaptırdık. | | |
| Salih'in <u>beyaz gömleği</u> leke olmuş. | | |
|  Bugün <u>beş öğrenci</u> gelmemiş. | | |
| Babam <u>taze balık</u> almış. | | |
|  Fatma <u>cam tabağı</u> kırmış. | | |
| <u>Uzun cetveli</u> Yeliz almış. | | |





TÜRKÇE

 Aşağıda kelimelerin doğru ve yanlış yazılış şekilleri verilmiştir. Doğru yazılan kelimelerin çiçeklerini boyayalım.

 gaste gazete yalnız yalnız şarj şarz marul mağrul şoför şöför eğlence eylence tiren tren kiral kral gaste gazete seyahat seyhat poaçâ poğaçâ traş tıraş çağre çare kirpik kiprik pehriz perhiz riks risk kipri kirpi sarmısak sarımsak yanlış yalnis kibrit kirbit sohbet sohpet tenbel tembel



ZENGİNLER DİYARI

Zamanın birinde, kendi köyünde , çalışkan bir Keloğlan yaşarmış. Daha çok kazanmak için köyünden çıkıp, şehre gitmiş. Şehirde birçok iş bulmuş ama istediği gibi çok kazanamıyormuş. Çünkü bir gün çalışıp bir gün oturuyormuş. Çalıştığı günler kazandığı parayı oturduğu günlerde harcıyormuş. Sonunda elinde hiç para kalmıyormuş.

Sonunda Zenginler Ülkesi'ne gitmeye karar vermiş. Dere tepe düz gitmiş sonunda bu ülkeye varmış. Şehrin girişinde bir adama rastlamış ve ona:

- Çalışmak istiyorum, nerede iş bulabilirim? demiş. Adam:
- İş bulup da ne yapacaksın? deyince. Keloğlan:
- Çalışıp para kazanırım, demiş.
- Peki parayı ne yapacaksın, deyince.
- Yeni bir bahçeli ev, yeni kıyafetler ve yeni eşyalar alırım, demiş.



Adam, Keloğlan'a bu ülkede her şeyin bedava olduğunu söylemiş Karşıdaki evin boş olduğunu ve oraya yerleşebileceğini söylemiş ilk olarak. Sonra yemek için karşıdaki lokantada bedava yemek olduğunu, kıyafetlerin de onun yanındaki dükkanda bedava olduğunu söylemiş.

Keloğlan böylece bedava yemeye ve yaşamaya başlamış. Keloğlan hiç çalışmadığı için kilo alıyor ve şişmanlıyormuş. Sonunda adı da Şişmanoğlu olmuş. Yiyor, içiyor, yatıyormuş. Bir gece rüyasında eski hali karşısına çıkıp "Şişmanoğlan kendine gell," demiş. Sonun kötü olacak, hastalanacaksın diye çıkmış. Sabah şaşkın bir şekilde uyanan Keloğlan yaptığı yanlış anlamış ve köyüne geri dönmüş. Tekrar çalışmaya ve eskisi gibi beslenmeye başlamış. Zenginler Ülkesi'ni ise bir daha hatırlamamış.

|| Aşağıdaki soruları metne uygun bir şekilde cevaplayınız. ||

|| 1 . Keloğlan niçin şehre gitmiş? ||

|| ||

|| 2. Keloğlan şehirde niçin çok kazanıyormuş? ||

|| ||

|| 3. Elinde hiç para kalmadığı için nereye gitmeye karar vermiş? ||

|| ||

|| 4. Adam Keloğlan'a ne söylemiş? ||

|| ||

|| 5. Keloğlan niçin şişmanlamış ? ||

|| ||

|| 6. Keloğlan rüyasında kimi görmüş? ||

|| ||

DİNİ BAYRAMLARIMIZ

1. Etkinlik: Aşağıda verilen milli gün ve bayramlarımızla, dini gün ve bayramlarımızı harflerini ait oldukları yere yazalım.

A 19 Mayıs Atatürk'ü Anma Gençlik ve Spor Bayramı

B Mevlit Kandili

C Kurban Bayramı

C Ulusal Egemenlik ve Çocuk Bayramı



D Zafer Bayramı

E Kadir Gecesi

F Cumhuriyet Bayramı



G 15 Temmuz Demokrasi ve Millî Birlik Günü

Ğ Ramazan Bayramı



2. Etkinlik: Aşağıdakilerden hangileri dini gün ve bayramlarda yapılır? Yapılanların çiçeğini boyayalım.

- Bayram namazına gideriz.
- Okullarda sınıflarımızı süsleriz.
- Sokaklar , caddeler bayraklarla süslenir.
- Annemiz misafirler için hazırlıklar yapar.
- Camilerde kandil programları olur.
- Sınıfça gösteriler hazırlarız.
- Okullarda törenler yapılır.
- Büyüklerimizin evlerine bayramlaşmaya gideriz.
- Evimizi temizler , bayram için hazırlık yaparız.
- Törelerde saygı duruşu yapılır ve İstiklal Marşı okunur.
- Kurban keseriz.
- Çocuklara şeker veya harçlık verilir.
- Konuşmalar yapılır , şiirler okunur.



SAATİ OKUYALIM

1.Etkinlik : Aşağıdaki saatlerin kaç gösterdiğini örnekteki gibi yapalım. (Hepsi de öğleden önce)



Saat 02.00

Saat

Saat


Saat

Saat iki

Saat

Saat

Saat



Saat

Saat

Saat

Saat

Saat

Saat

Saat

Saat



Saat

Saat

Saat

Saat

Saat

Saat

Saat

Saat



Saat

Saat

Saat

Saat

Saat

Saat

Saat

Saat

SAATİ OKUYALIM

1.Etkinlik : Aşağıdaki saatlerin kaç gösterdiğini örnekteki gibi yapalım. (Hepsi de öğleden sonra)



Saat 15.00

Saat

Saat

Saat

Saat üç

Saat

Saat

Saat



Saat

Saat

Saat

Saat

Saat

Saat

Saat

Saat



Saat

Saat

Saat

Saat

Saat

Saat

Saat

Saat



Saat

Saat

Saat

Saat

Saat





Saat

Saat

Saat

SAATİ OKUYALIM

1.Etkinlik : Aşağıdaki saatlere, belirtilen zamanı gösterecek şekilde akrep ve yelkovan çizelim.


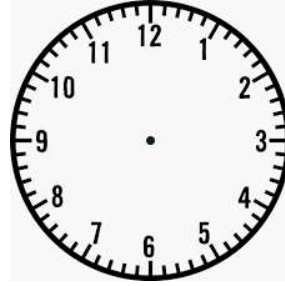




Saat 04.00

Saat 07.00

Saat 01.00

Saat 10.00


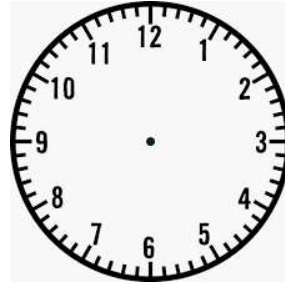




Saat 02.30

Saat 09.30

Saat 05.30

Saat 11.30


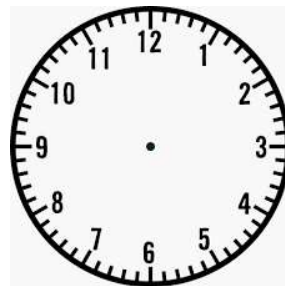
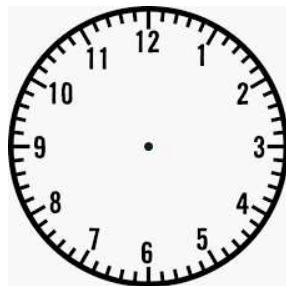



Saat 06.15

Saat 12.15

Saat 08.15

Saat 03.15



Saat 02.45





Saat 09.45

Saat 04.45

Saat 11.45

SAATİ OKUYALIM

1.Etkinlik : Aşağıdaki saatlere, belirtilen zamanı gösterecek şekilde akrep ve yelkovan çizelim.


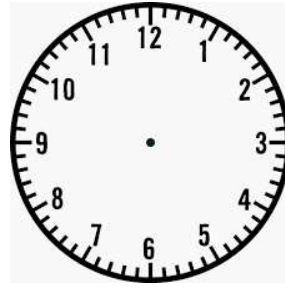




Saat 19.00

Saat 15.00

Saat 21.00

Saat 13.00







Saat 23.30

Saat 16.30

Saat 20.30

Saat 17.30


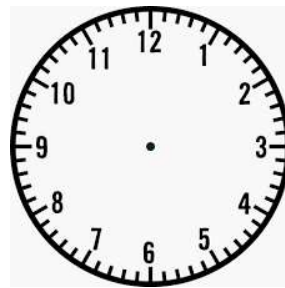
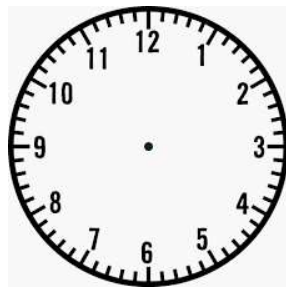



Saat 14.15

Saat 20.15

Saat 22.15

Saat 18.15



Saat 17.45

Saat 21.45

Saat 15.45

Saat 13.45

SAATİ OKUYALIM

1.Etkinlik : Dijital saatlerde gösterilen zamanı analog saatlerle örnekteki gibi eşleştirelim.

13:00

1

14:15

2

19:00

3

20:15

4

17:45

5

18:30

6

21:30

7

15:15

8

14:45

9

23:00

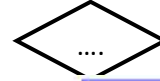
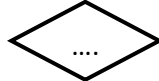
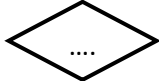
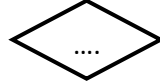
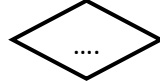
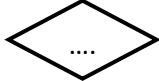
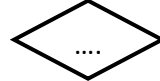
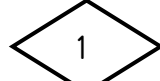
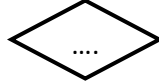
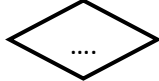

10

22:45

11

16:00

12



GÜN, HAFTA, AY

1.Etkinlik : Aşağıda verilen takvimi inceleyelim. Soruları cevaplayalım.

| EKİM | | | | | | |
|------|----|----|----|----|----|----|
| Pt | Sa | Ça | Pe | Cu | Ct | Pz |
| | | | | | 1 | 2 |
| 3 | 4 | 5 | 6 | 7 | 8 | 9 |
| 10 | 11 | 12 | 13 | 14 | 15 | 16 |
| 17 | 18 | 19 | 20 | 21 | 22 | 23 |
| 24 | 25 | 26 | 27 | 28 | 29 | 30 |
| 31 | | | | | | |

Yandaki takvim sayfası hangi aya aittir ?

Ayın ilk günü hangi gündür ?

Ayın son günü hangi gündür ?

Bu ay toplam kaç gündür ?

Bu ayda kaç tane salı günü vardır ?

Bu ayda kaç tane tam hafta vardır ?

Bu ayda toplam kaç tane tatil günü vardır ?

Ayın 12. günü hangi gündür ?

Ayın 21. günü hangi gündür ?

Ayın 14'ü cuma ise 3 gün sonrası hangi gündür ?

Ayın 25'i salı ise 4 gün öncesi hangi gündür ?

1.Etkinlik : Noktalı yerleri uygun şekilde dolduralım.

| | | |
|-------|----------|-------|
| Dün | Bugün | Yarın |
| | Çarşamba | |

| | | |
|-------|-------|-------|
| Dün | Bugün | Yarın |
| | | Pazar |

| | | |
|-------|-------|-------|
| Dün | Bugün | Yarın |
| Pazar | | |

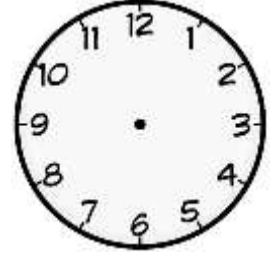
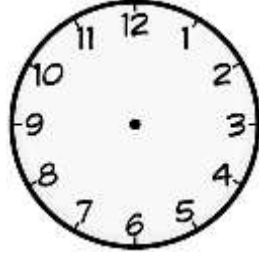
| | | |
|-------|-------|-------|
| Dün | Bugün | Yarın |
| | Cuma | |

| | | |
|-------|-------|-------|
| Dün | Bugün | Yarın |
| | | Salı |

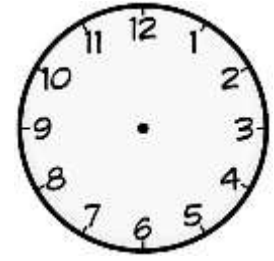
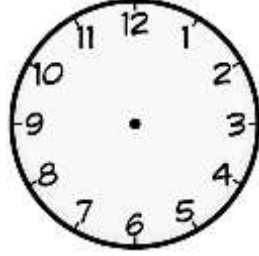
| | | |
|-----------|-------|-------|
| Dün | Bugün | Yarın |
| Cumartesi | | |

ZAMANI ÖLÇME

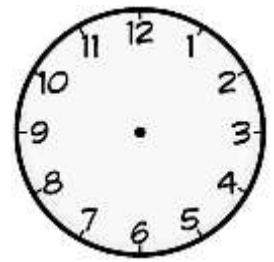
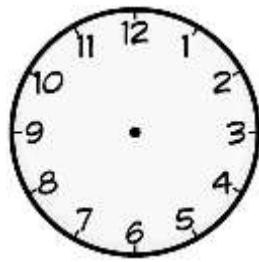
1. Etkinlik : Aşağıdaki saatleri okuyup altına yazalım. Yanındaki saate 2 saat sonrası gösterelim ve okuyup yazalım.



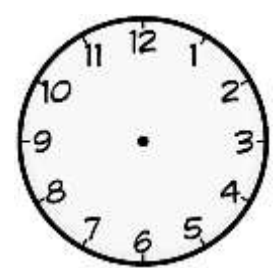
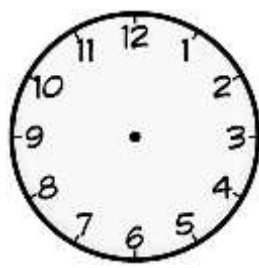
2. Etkinlik : Aşağıdaki saatleri okuyup altına yazalım. Yanındaki saate 3 saat sonrası gösterelim ve okuyup yazalım.



3. Etkinlik : Aşağıdaki saatleri okuyup altına yazalım. Yanındaki saate 2 saat öncesini gösterelim ve okuyup yazalım.

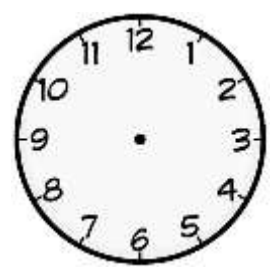
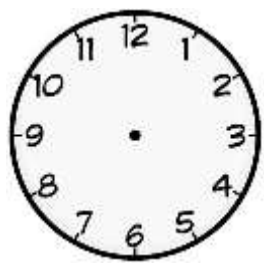
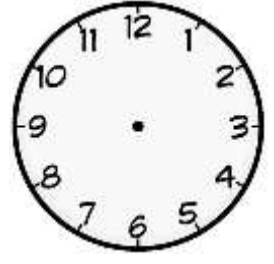
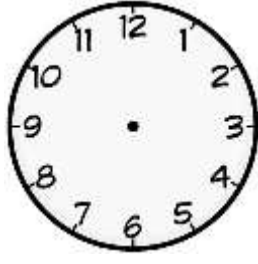


4. Etkinlik : Aşağıdaki saatleri okuyup altına yazalım. Yanındaki saate 3 saat öncesini gösterelim ve okuyup yazalım.

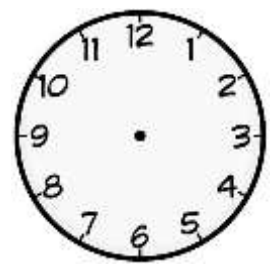
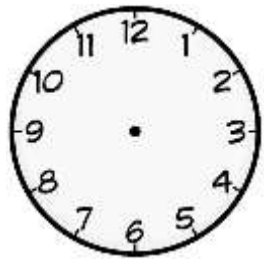
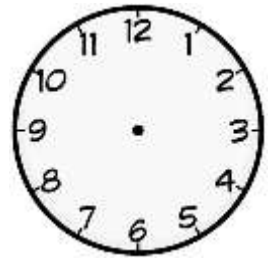
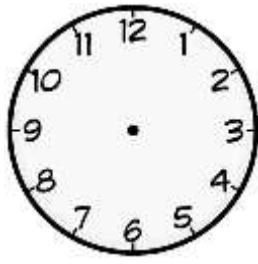


ZAMANI ÖLÇME

1. Etkinlik : Aşağıdaki saatleri okuyup altına yazalım. Yanındaki saate yarım saat sonrasını gösterelim ve okuyup yazalım.

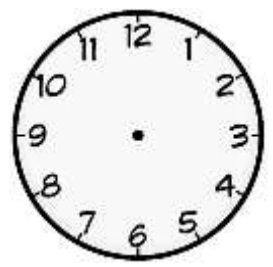
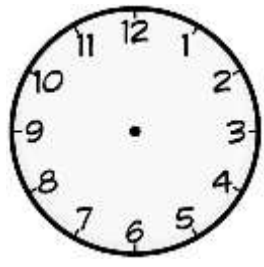
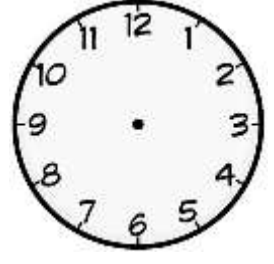
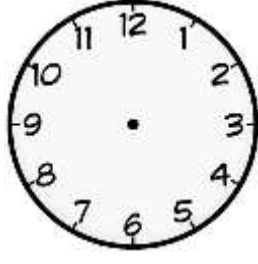


2. Etkinlik : Aşağıdaki saatleri okuyup altına yazalım. Yanındaki saate yarım saat öncesini gösterelim ve okuyup yazalım.

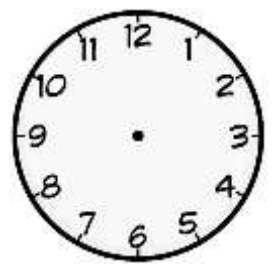
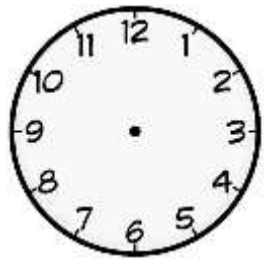
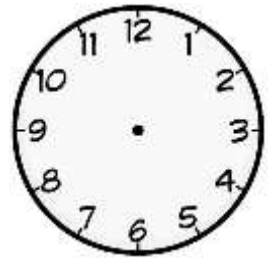
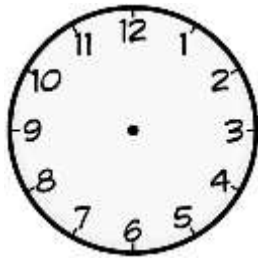


ZAMANI ÖLÇME

1. Etkinlik : Aşağıdaki saatleri okuyup altına yazalım. Yanındaki saate çeyrek saat (15 dakika) sonrasını gösterelim ve okuyup yazalım.



2. Etkinlik : Aşağıdaki saatleri okuyup altına yazalım. Yanındaki saate çeyrek saat (15 dakika) öncesini gösterelim ve okuyup yazalım.



ZAMANI ÖLÇME

1. Etkinlik : Aşağıdaki soruları örnekteki gibi işlem yaparak cevaplayalım.



3 saat sonrasında saat kaç olur ?

$$\begin{array}{r} 04.00 \\ + 3.00 \\ \hline 07.00 \end{array}$$



2 saat sonrasında saat kaç olur ?



2 saat öncesi saat kaç olur ?



4 saat öncesi saat kaç olur ?



5 saat öncesi saat kaç olur ?



5 saat sonrası saat kaç olur ?



2 saat öncesi saat kaç olur ?



3 saat sonrası saat kaç olur ?



7 saat sonrası saat kaç olur ?



5 saat sonrası saat kaç olur ?



4 saat öncesi saat kaç olur ?



2 saat sonrası saat kaç olur ?