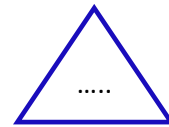

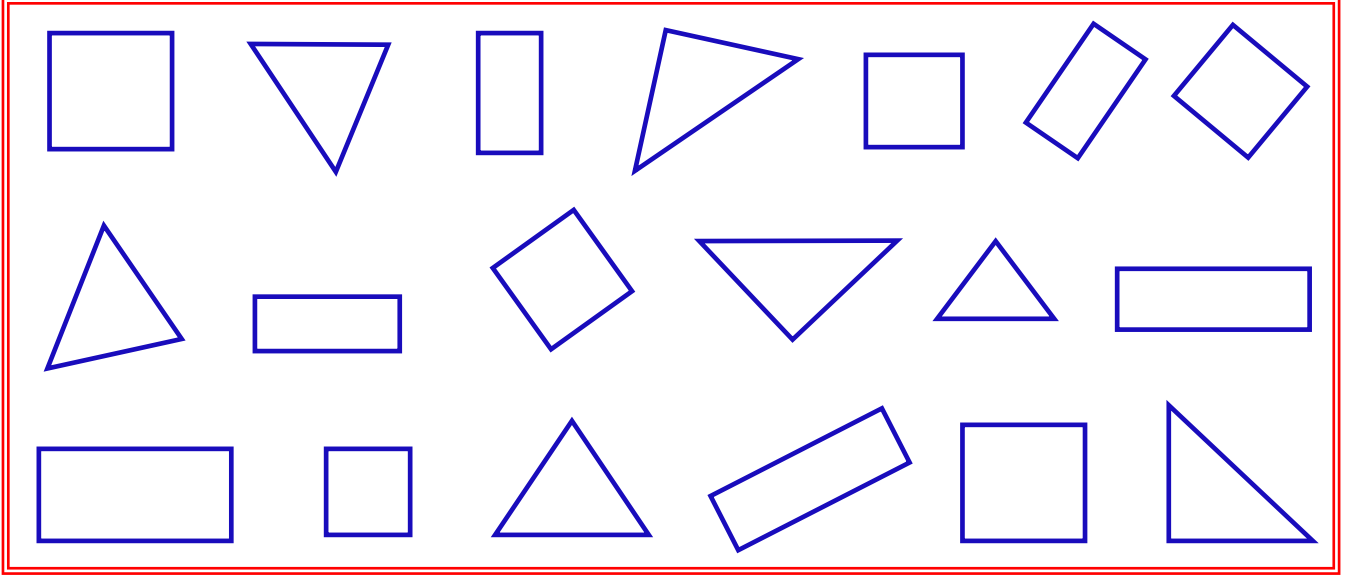




GEOMETRİK ŞEKİLLER



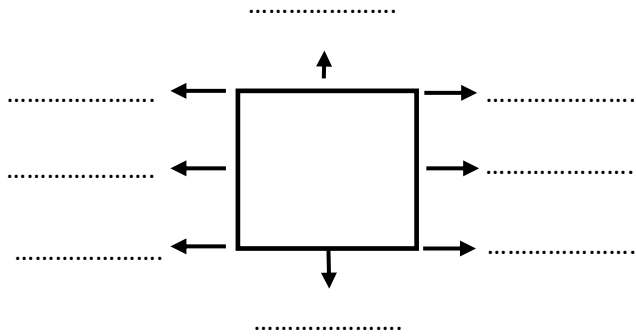
Aşağıda kare , dikdörtgen ve üçgenden kaç tane olduğunu bulalım. Sayıları ilgili şekillerdeki noktalı yerlere yazalım.



Aşağıdaki geometrik şekillerde ok işaretiyle gösterilen yerlerin isimlerini yazalım. İstenilen bilgileri yazalım.

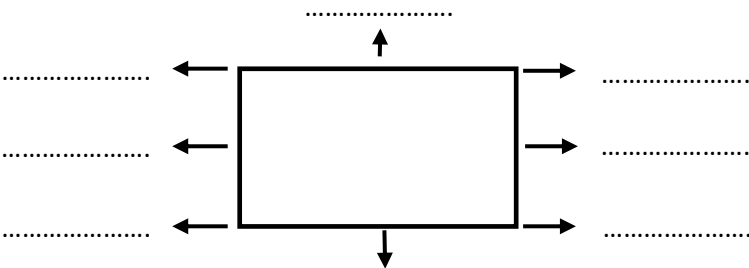
Kenar Sayısı :

Köşe Sayısı :



Kenar Sayısı :

Köşe Sayısı :



Kenar Sayısı :

Köşe Sayısı :

