

## DEFTER BÖLÜMÜ: SAATLERİ ÖĞRENIYORUM

Zamanı saat ile ölçebiliriz. Saatlerde **Yelkovan** ve **Akrep** ibreleri vardır. Saatlerdeki uzun ibreye yelkovan kısa ibreye de akrep denir. Yelkovan dakikayı, akrep ise saati gösterir.

Yelkovan 12'yi gösterdiğinde saat tamı gösterir.

Yelkovan 6'yı gösterdiğinde saat yarımı gösterir.

Yelkovan 3'ü gösterdiğinde saat çeyreği göstermektedir.

Saat 08.00 gibi

Saat 10.30 gibi

Saat 11.15 gibi

Saatleri okumanın kolay bir yolu var. Yelkovan saatte hangi sayıyı gösteriyorsa o sayıyı 5 ile çarparak okuruz.



Yelkovan 7'yi gösteriyor  
 $7 \times 5 = 35$  oluyor.  
Saat 10.35 diye okunur.

Bir gün 24 saattir. Saatleri okurken öğleden sonraki saatlere 12 ekleyerek okuruz.

Öğleden Önce

Öğleden Sonra

02.00

14.00

1 Aşağıdaki saatleri altlarına yazalım.



mebders

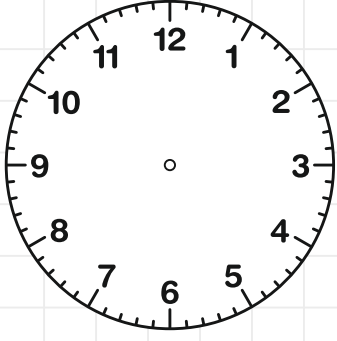


2 Aşağıdaki saatleri altlarına yazalım.

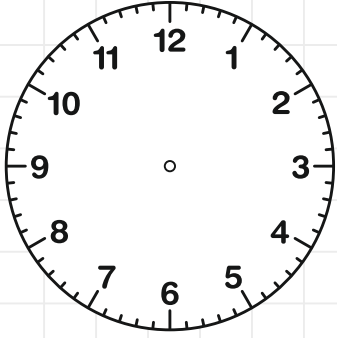


3

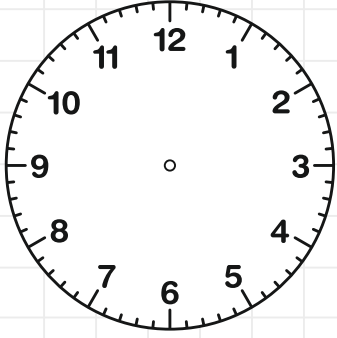
Aşağıda verilen dijital saatleri analog saatlere akrep ve yelkovan çizerek gösterelim.



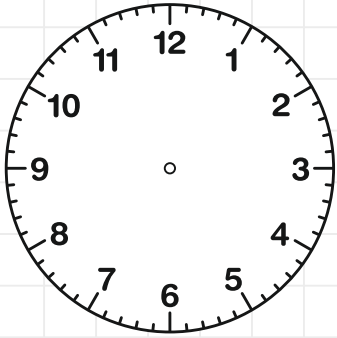
02.00



12.00



08.00



14.00

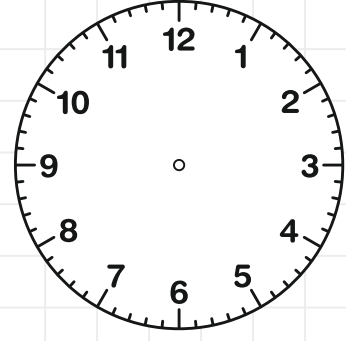


mebders

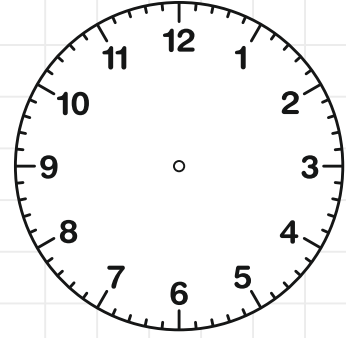


4

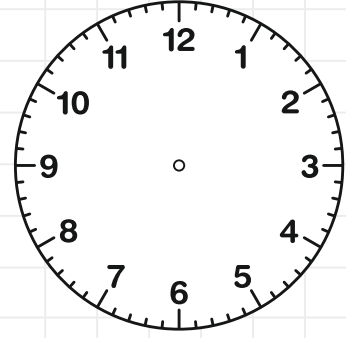
Aşağıda verilen dijital saatleri analog saatlere akrep ve yelkovan çizerek gösterelim.



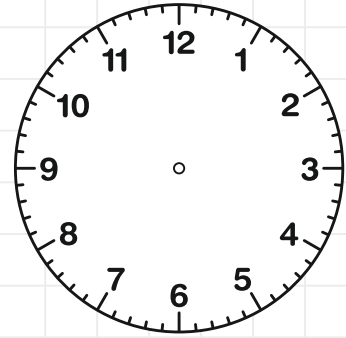
11.30



15.30



14.15

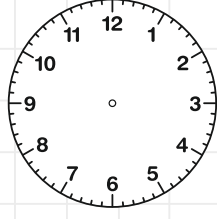


09.45

5 Aşağıdaki saatleri altlarına yazıp yandaki yönergeye göre sağdaki saate akrep ve yelkovan çizelim.



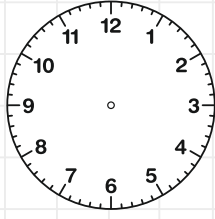
Saat Kaç?



Saati 20 Dakika İlerletip Çizelim



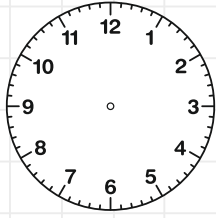
Saat Kaç?



Saati 30 Dakika İlerletip Çizelim



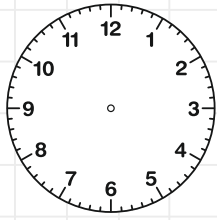
Saat Kaç?



Saati 10 Dakika İlerletip Çizelim



Saat Kaç?

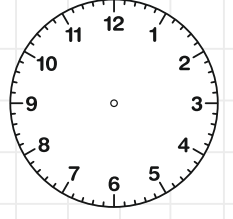


Saati 40 Dakika İlerletip Çizelim

6 Aşağıdaki saatleri altlarına yazıp yandaki yönergeye göre sağdaki saate akrep ve yelkovan çizelim.



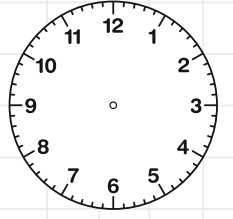
Saat Kaç?



Saati 20 Dakika Geri Alıp Çizelim



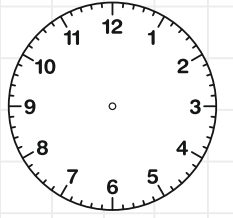
Saat Kaç?



Saati 10 Dakika Geri Alıp Çizelim



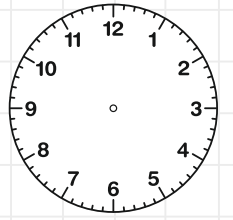
Saat Kaç?



Saati 20 Dakika Geri Alıp Çizelim



Saat Kaç?



Saati 40 Dakika Geri Alıp Çizelim

mebders

7 Öğleden önce, Öğleden sonra saat kaç?

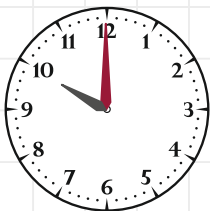
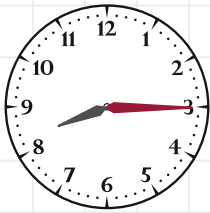
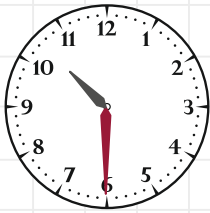
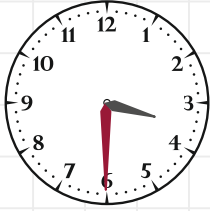
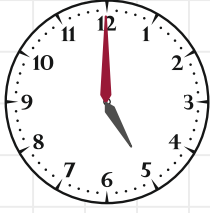
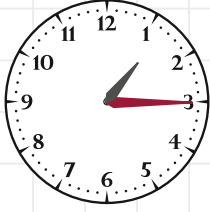
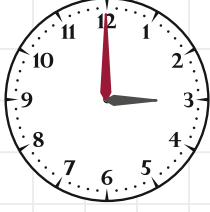
Öğleden Önce

07.30



Öğleden Sonra

19.30



mebders



mebders

8 Kaç saat geçti?

Başlangıç Saati

Bitiş Saati

Geçen Saati

10.00

16.00

6

14.00

4

08.00

12.00

09.00

17.00

11.00

2

18.00

3

03.00

5

13.00

20.00

07.00

2

15.00

6

06.00

10

08.00

19.00