



Yukarıdaki örüntüde;

- Kaç tane **kare** vardır?
- Kaç tane **karesel bölge** vardır?
- Kaç tane **üçgen** vardır?
- Kaç tane **üçgensel bölge** vardır?
- Kaç tane **dikdörtgen** vardır?
- Kaç tane **dikdörtgensel bölge** vardır?



Yukarıdaki örüntüde;

- Süslemede kaç farklı geometrik şekil kullanılmıştır?
- Süslemede en çok kullanılan geometrik şekil hangisidir?
- Süslemede en az kullanılan geometrik şekil hangisidir?
- Süslemede kullanılmayan geometrik şekil hangisidir?

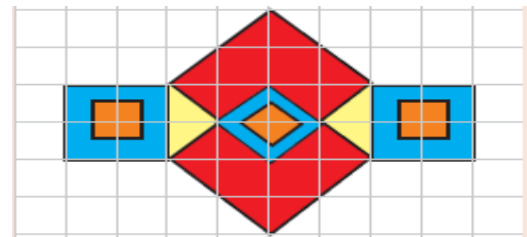
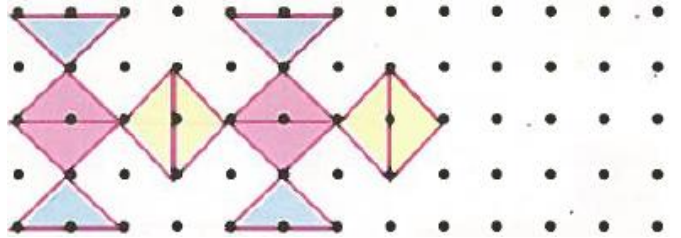
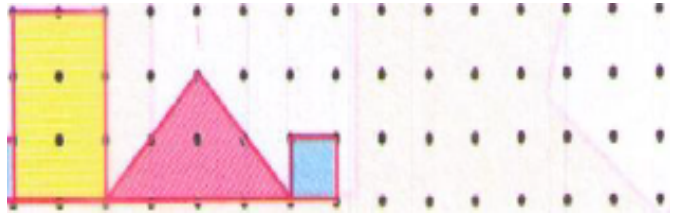
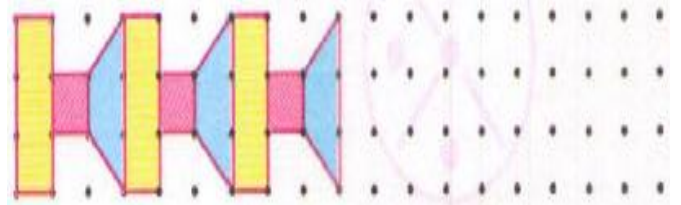
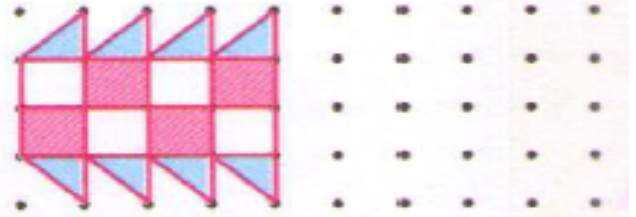


- Süslemede kullanılmayan geometrik şekil hangisidir?
- Süslemede bir örüntü olduğuna göre hangi şekil ile devam eder?



İskender07 (İlkokul etkinlikleri)

Aşağıda verilen örüntü ve süslemeleri devam ettiriniz.



Yukarıdaki süslemede;

- Süslemede kaç tane üçgen kullanılmıştır?
- Süslemede kaç tane kare kullanılmıştır?
- Süslemede kullanılmayan geometrik şekiller hangisidir?
- Süslemede bir örüntü olduğuna göre hangi şekil ile devam eder?

