







NİSAN ARA TATİLİ 1. SINIF MATEMATİK ETKİNLİKLERİ

✚ Kalplerin içindeki sayılarla aynı sonuca sahip işlemleri boyayınız.

	$9 + 6$		$91 - 9$		$45 + 6$
	$24 - 7$		$76 + 5$		$60 - 7$
	$12 + 2$		$88 - 7$		$54 - 3$
	$20 - 5$		$73 + 8$		$48 + 4$
	$69 + 5$		$21 + 7$		$30 + 6$
	$77 - 3$		$33 - 6$		$42 - 8$
	$66 + 7$		$22 + 5$		$29 + 5$
	$80 - 8$		$30 - 4$		$32 + 3$

✚ Aşağıdaki problemleri çözünüz.

Benim 11, kardeşimin ise 9 tane şekeri var. İkimizin toplam kaç şekerimiz var?

Çözüm

Ufuk'un 12 lirası vardır. Sema'nın parası, Ufuk'un parasından 3 lira azdır. Sema'nın kaç lirası vardır?

Çözüm

Ablam 25 balonun 8 tanesini bana verdi. Ablamın kaç balonu kaldı?

Çözüm

✚ İşlemleri inceleyip toplama (+) veya çıkarma (-) işareti koyunuz.

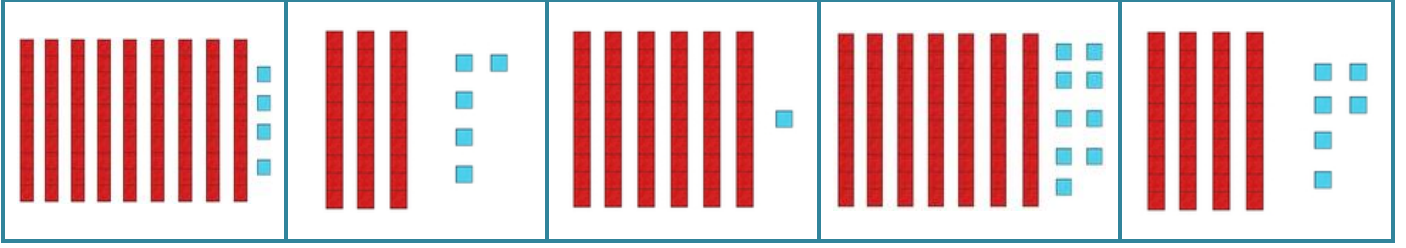
$$9 \quad \text{☁} \quad 4 \quad = \quad 13$$

$$10 \quad \text{☁} \quad 6 \quad = \quad 16$$

$$12 \quad \text{☁} \quad 5 \quad = \quad 7$$

$$16 \quad \text{☁} \quad 7 \quad = \quad 9$$

✚ Onluk ve birlik bloklarıyla sayıları eşleştiriniz.




61	79	35	94	46
----	----	----	----	----

✚ İkişer ikişer sayarak kutuların üzerine yazınız.




✚ Paralarımızın isimlerini altlarına yazalım.



✚ Toplama işlemlerindeki verilmeyen toplananları bulunuz.

$$\text{🌸} + 6 = 14 \quad | \quad 8 + \text{🌸} = 15 \quad | \quad \text{🌸} + 3 = 13 \quad | \quad \text{🌸} + 2 = 11$$

✚ Paraların miktarlarını altlarına yazınız.



✚ Sırayla işlemleri yapıp şifreyi bulunuz. Kelimeyi büyüklerinize sorunuz.

	+		=		+		=		-		=	
	+		=		+		=		-		=	
	+		=		+		=		-		=	
	+		=		+		=		-		=	
	+		=		+		=		-		=	
	+		=		+		=		-		=	
	+		=		+		=		-		=	
	+		=		+		=		-		=	

24	→	
26	→	
28	→	
27	→	
29	→	
22	→	
25	→	
23	→	

✚ Saksidaki sonuçlara göre verilmeyen toplananları bulunuz.



İşlemleri yaparak sonuçlara göre harfleri yazıp atasözünü bulunuz.

Ç $6+5+2$

O $19-4$

M $9+7+1$

R $25-6$

K $7+7+4$

N $20-9$

S $3+5+2$

I $19-7$

E $8+5+7$

Z $22-6$

D $6+7+8$

A $17-3$

Anlamı: Tehlikeleri gözünde büyüterek işe girişmekte çekingen davranan kimse, amacına ulaşamaz.





10	20	19	13	20	21	20	11

18	15	19	18	14	11		

21	14	19	12

20	18	17	20	16

Fişatları verilen nesnelerle alakalı soruları çözüünüz.



Oyuncak bebek ve çikolata alan Serhat'ın satıcıya kaç lira ödemesi gerekir?

Çözüm

Seda'nın 10 lirası var. Tükenmez kalem almak isteyen Seda'nın kaç liraya daha ihtiyacı var?

Çözüm

8 lirası olan Tarık, meyve suyu alırsa geriye kaç lirası kalır?

Çözüm

✚ Verilen sayıları örnekteki gibi onluk ve birliklerine ayırarak yazınız.

15	→	...1... onluk	...5... birlik	23	→ onluk birlik
36	→ onluk birlik	74	→ onluk birlik
51	→ onluk birlik	6	→ onluk birlik
60	→ onluk birlik	92	→ onluk birlik

✚ Aşağıdaki problemleri çözünüz.

15 lira param vardı.
Paramın 10 lirasını
harcadım. Geriye kaç
liram kaldı?

Çözüm

Bir sınıfta 9 erkek öğrenci
ve 7 kız öğrenci vardır?
Sınıfta toplam kaç öğrenci
vardır?

Çözüm

15 sayısının 4 fazlasını
bulunuz. Bulduğunuz
sayıdan 9 çıkarınız. Sonuç
kaç oldu?

Çözüm

✚ İşlemlerdeki verilmeyen toplananları bulup alttaki işlemleri yapınız.

$9 + \text{🍉} = 17$

$8 + \text{🥝} = 14$

$4 + \text{🍌} = 13$

$5 + \text{🍊} = 12$

$10 + \text{🍓} = 15$

$7 + \text{🍐} = 11$



$\text{🥝} + \text{🍐} = \square$

$\text{🍉} + \text{🍊} = \square$

$\text{🍉} - \text{🍓} = \square$

$\text{🍌} - \text{🍐} = \square$

✚ Sırayla işlemleri yapıp şifreyi bulunuz. Kelimeyi büyüklerinize sorunuz.

50	-7		+2		+9		-5		+3	C
37	+8		-1		+6		-4		+7	A
41	-5		+10		-2		+7		-1	L
53	-9		+3		+2		-1		+6	P
39	+6		-1		+9		-3		+5	E
45	+3		-8		+6		-3		+8	N
60	-7		+3		-9		+4		+5	i
38	-2		+7		+8		-3		+9	A

57	→	
50	→	
56	→	
52	→	
55	→	
51	→	
53	→	
54	→	

✚ Aşağıdaki iki işlemli problemleri çözünüz.

Tabakta 5 elma vardı. Annem tabağa 7 elma daha koydu. Ben 3 tanisini yedim. Kaç elma kaldı?	
Çözüm	

20 lira param vardı. 8 liraya dondurma ve 4 liraya defter aldım. Geriye kaç liram kaldı?	
Çözüm	

Ben 19 kiloyum. Kardeşimin kilosu benden 10 kilo daha azdır. Buna göre ikimiz toplam kaç kiloyuz?	
Çözüm	

✚ İşlemleri inceleyip toplama (+) veya çıkarma (-) işareti koyunuz.

9		3	=	6
---	--	---	---	---


15		7	=	8
----	--	---	---	---

8		2	=	10
---	--	---	---	----

6		5	=	1
---	--	---	---	---

✚ Trendeki bölümleri işlem sonuçlarına göre istenen renklerle boyayınız.

Sarı	Mavi	Pembe	Turuncu	Yeşil
16+7	27+8	31-7	43+6	50-9
38-5	61-6	42+5	19-3	28+8
56+4	49+3	53+10	82+8	64-7
60-9	82-4	26-9	70-6	20+5



✚ İşlemlerdeki **verilmeyen** toplananları **bulup** alttaki işlemleri yapınız.

$$\begin{array}{l} \text{Küçük kız} + 9 = 14 \\ 10 + \text{Lion} = 16 \\ \text{Küçük kız} + \text{Lion} + \text{Kedi} = \square \\ \text{Kedi} + \text{Küçük kız} + \text{Lion} = \square \end{array}$$
$$\begin{array}{l} 5 + \text{Kedi} = 13 \\ \text{Kedi} + 8 = 15 \end{array}$$

NİSAN ARA TATİLİ 1. SINIF TÜRKÇE ETKİNLİKLERİ

✚ Alfabede eksik bırakılan harfleri yazıp ünlü harfleri maviye boyayınız.

→	A		Ç		F		Ğ					K
L			O				Ş				V	

✚ Verilen kelimeleri **alfabetik** sıraya göre sıralayınız.

kardeş	1		yardım	1	
zeytin	2		asker	2	
hediye	3		cimri	3	
benzin	4		lamba	4	
vakit	1		çanta	1	
erkek	2		ülke	2	
masal	3		iğne	3	
sakız	4		nakit	4	

✚ Verilen harflerle başlayan, başlıklarla ilgili kelimeleri yazınız

İNSAN İSMİ	HAYVAN İSMİ	MEYVE İSMİ	SEBZE İSMİ	EŞYA İSMİ
B	F	Ç	M	K
L	Z	P	K	S
Ü	K	E	B	T
G	Y	K	P	Ş
İ	S	A	H	D
Ö	M	Ş	F	A
D	A	M	T	E

✚ Kelimelerin kaç harften oluştuğunu örnekteki gibi karşlarına yazınız.

Mart → 4 harfli

Ayakkabı →

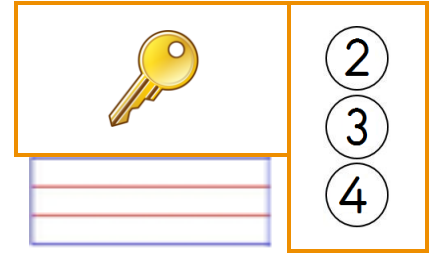
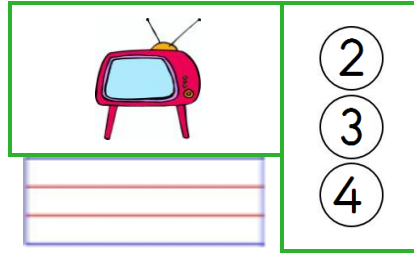
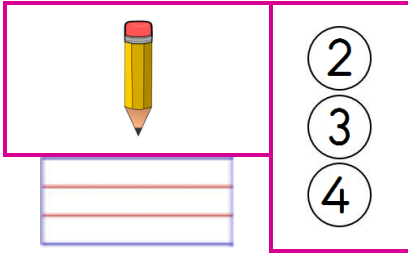
Karınca →

Patlıcan →

Sevgi →



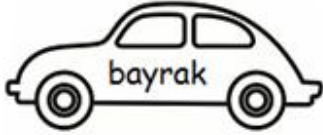
Gül →

✚ Resimleri verilen kelimeleri yazıp, kaç heceli olduklarını boyayınız.



✚ Tabloda verilen kelimeleri hece sayılarına göre boyayınız. (Ünlü Harf Sayısı = Hece Sayısı)

1 heceliler → Kırmızı 2 heceliler → Sarı 3 heceliler → Mavi 4 heceliler → Yeşil



✚ Örnekteki gibi, kelimelerle ilgili etkinliği yapınız.

	Kelime	Ünlü Harfler	Ünsüz Harfler	Heceleme
1	Parıltı	a-ı-ı	p-r-l-t	pa-rıl-tı
2	Kalem			
3	Cetvel			
4	Kars			
5	Gürültü			
6	Salatalık			

Benim Canım Ailem


Merhaba. Benim adım Arif. 8 yaşımdayım. İkinci sınıfa gidiyorum. Benim babam pilottur. Onun adı Faruk. Annem ise doktordur. Onun adı ise Şebnem. Bir ablam ve bir abim var. İsimleri Hülya ve Levent. Ablam müzisyen, abim ise dişçidir.

Benim Derya adında bir halam var. Kendisi öğretmendir. Eşinin ismi ise Aykut'tur. Aykut eniştem askerdir. Onların 2 tane oğlu var. Adları Cüneyt ve Polat'tır. Cüneyt sporcu, Polat ise polistir.

Dedemi ve babaannemi çok seviyorum. Dedemin adı Remzi, babaannemin adı ise Demet'tir. Onların yanına gidebilmek için hafta sonlarını ipe çekiyorum. Onların sevimli mi sevimli, Karabaş adında bir köpekleri var.



✚ Metne göre aşağıdaki kişilerin ve köpeğin isimlerini yazınız.





✚ Örnekteki gibi, istenen aile bireylerini yazınız.

Babamızın kız kardeşi	→	Hala
Annemizin erkek kardeşi	→	
Babamızın annesi	→	
Halamızın oğlu	→	

Annemizin kız kardeşi	→	
Babamızın erkek kardeşi	→	
Annemizin annesi	→	
Teyzemizin kocası	→	

✚ Evin bölümleriyle alakalı etkinlikleri yapınız.




OKU - BOYA

- 1 Buzdolabı ve koltukları yeşile boy.
- 2 Yatağı ve banyo kilimlerini pembeye boy.
- 3 Tabloları ve saksıyı turuncuya boy.
- 4 Mutfak taburelerini ve kapıları sarıya boy.
- 5 Yatak odasının halılarını açık yeşile boy.
- 6 Geri kalan yerleri istediğin gibi boy.



HER ODADAN 4 TANE EŞYA İSMİ YAZ

	Mutfak	Banyo	Oturma Odası	Yatak Odası
→				
→				
→				
→				








İpuçları verilen ev eşyalarını yazınız.






- Mutfakta kesme işlerini o yapar. →
- Çiçekleri onun içine koyarız. →
- Kırışık elbiseleri onunla düzeltiriz. →
- Yemekleri pişiren eşyadır. →
- Bebekler onun içinde uyurlar. →
- Televizyonda kanal değiştirir. →
- Yatarken üstüne başımızı koyarız. →
- Su içenin kullandığı cam eşyadır. →
- Her odada yere serilen eşyadır. →
- Kendimizi ona bakarak görürüz. →
- Çorbayı o olmadan içemem. →

✚ Karışık halde verilen kelimelerden anlamlı cümleler oluşturunuz.

faruk	yedi	ekmek	çikolatalı	→	
alacağım	para	top	biriktirip	→	
alışverişe	şeyma	gidecek	yarın	→	

✚ Resimleri verilen nesnelere ilgili etkinliği örnekteki gibi yapınız

					
ismi	→	pencere			
ünlü harfler	→	e-e-e			
hece sayısı	→	3			
heceleme	→	pen-ce-re			

					
ismi	→				
ünlü harfler	→				
hece sayısı	→				
heceleme	→				

✚ Eksik bırakılan kutuları tamamlayınız.

→	Pazartesi		Çarşamba			Cumartesi	
---	-----------	--	----------	--	--	-----------	--

→	bir		üç			yedi			on
---	-----	--	----	--	--	------	--	--	----

→	A		Ç		F	Ğ			K
L		O				Ş		V	

İnsanların özelliklerine göre nasıl olduklarını verilen kelimelerle yazınız.

çalışkan	bencil	cömert	utangaç	planlı
kaba	dost canlısı	açgözlü	dürüst	inatçı



Onun adı Sevgin. O iyi bir kızdır. Hiçbir zaman yalan söylemez. Bence o bir insan.



Onun adı Sibel. O kimseyle iyi geçinemiyor. Çünkü hep kendini düşünüyor. Bence o bir insan.



Onun adı Alihan. Ne söylersen söyle onun fikirlerini değiştiremezsin. Bence o bir insan.



Onun adı Tuğra. Ödevlerini hep kendi başına yapar. Çok başarılıdır. Bence o bir insan.



Onun adı Meral. O arkadaşlarına hediye almayı sever. Bence o bir insan.



Onun adı Leyla. Konuşmaktan çok hoşlanmaz. Çok arkadaşı yok. Bence o bir insan.



Onun adı Samet. O kötü konuşarak arkadaşlarını üzer. Düşünmeden konuşur. Bence o bir insan.



Onun adı Betül. Her işi zamanında yapar. Geç kalmaktan hoşlanmaz. Bence o bir insan.



Onun adı Kiraz. Hep hakkından fazlasını alır. Tabakına yemeği çok koyar. Bence o bir insan.



Onun adı Mert. Arkadaşlarıyla zaman geçirmeyi ve onlara iyilik yapmayı sever. Bence o bir insan.



Merhaba. Benim adım Zehra. Ben yedi yaşındayım. En sevdiğim oyuncuğım kız bebeğimdir. Onu bana annem doğum günümde aldı. Ona elbiseler yapıyorum. Her gün bebek arabasıyla onu gezdiriyorum.



Merhaba. Benim adım Adem. Sekiz yaşındayım. Oyuncak ayımı çok seviyorum. Onu iki yıl önce Derya teyzem aldı. Ben okuldayken odamda beni bekliyor. Eve geldiğimde onunla oynuyorum. Kirlendiğinde annem onu yıkıyor.



Merhaba. Benim adım Serhat. Dokuz yaşındayım. Oyun bloklarıyla oynamayı seviyorum. Onları babam aldı. Babam inşaat mühendisidir. Büyüyünce onun gibi binalar yapmak istiyorum. Oyuncaklarım tahtadan olduğu için kırılmıyor.

1) Zehra'nın oyuncuğı ne?

2) Oyuncuğı kim aldı?

3) Her gün ne yapıyor?

1) Adem'in oyuncuğı ne?

2) Oyuncuğı kim aldı?

3) Kirlenirse ne oluyor?

1) Serhat'in oyuncuğı ne?

2) Babası ne iş yapıyor?

3) Oyuncak neden kırılmaz?

→ Kime oyuncuğın teyzesi aldı?

→ Kimin babası inşaat mühendisi?

→ Kimin annesi oyuncuğı yıkıyor?

→ Kimin bebek arabası var?

→ Kim sekiz yaşındadır?

→ Kimin oyuncuğı tahtadan?

EŞLEŞTİR

Arı

İnek

Horoz

Balık

Ayı

Kümes

Mağara


Deniz

Kovan

Ahır



Benim adım Sinem. On iki yaşımdayım. Samsun'da yaşıyorum. Altıncı sınıfa gidiyorum. İki tane erkek kardeşim var. Ben en çok matematik dersini seviyorum. Boş zamanlarımda yemek yapmayı ve dans etmeyi seviyorum.



Benim adım Cevdet. Kırk yedi yaşımdayım. Antalya'da yaşıyorum. Evliyim. İki tane oğlum var. Ben kimyagerim. Araştırmayı çok severim. Boş zamanlarımda resim yaparım ya da bisiklet sürerim.



Benim adım Doğan. Otuz dört yaşımdayım. Erzurum'da yaşıyorum. Doktorum. Özel bir hastanede çalışıyorum. Evliyim. Bir tane kızım var. Boş zamanım pek yok. Ama yürüyüş yapmayı ve ata binmeyi severim.



Benim adım Enes. Yirmi dokuz yaşımdayım. İzmir'de yaşıyorum. Yeni evliyim. Henüz çocuğum yok. Ben inşaat mühendisiyim. Çalışmayı çok severim. Boş zamanlarımda gitar çalmayı ve basketbol oynamayı severim.

✚ Aşağıdaki boşluklara doğru kişilerin adlarını yazınız.

Cevdet

..... Antalya'da yaşıyor.

..... yemek yapmayı sever.

..... hastanede çalışıyor.

..... İzmir'de yaşıyor.

..... iki tane oğlu vardır.

..... evli değildir.

..... 34 yaşındadır.

..... ata binmeyi sever.

..... iki erkek kardeşi var.

..... Erzurum'da yaşıyor.

..... gitar çalmayı sever.

..... Samsun'da yaşıyor.

..... resim yapmayı sever.

..... matematiği çok sever.