



Aşağıdaki metni anlayana kadar okuyalım.

DERS VEREN RÜYA

Eymen okuldan eve gelince elini yüzünü yıkayıp üzerini değiştirdi. Daha sonra ders çalışmak için odasına geçti. Defterini ve kitabını hazırlayıp masasına oturdu. Açıkçası ders çalışmayı da pek istemiyordu. Kitaptan birkaç satır okumadan gözleri kapandı.



Rüyasında sabah olmuş, sınıfta öğretmen ödevleri kontrol ediyordu. Öğretmen Eymen'e doğru yaklaştıkça Eymen'in yüzü kızarıyor, ödevini yapmadığı için çok pişman oluyordu. Öğretmeni bunun için Eymen'e kızacak değildi ama Eymen ilk defa ödevini yapmadığı için kendine yakıştıramıyordu. Öğretmeni tam da Eymen'in yanına gelmişti ki Eymen uykudan uyandı. Gördüğü rüyadan dersini almıştı. Hemen ödev yapmaya başladı. O akşam yatağa uzandığında "Artık huzur içinde uyurum." diye düşündü.



Aşağıdaki soruları metne göre cevaplayalım.



1 Eymen odasına niçin geçmiş?

.....



2 Eymen kitaptan birkaç satır okumadan ne olmuş?

.....



3 Eymen rüyasında kendini nerede görmüş?

.....



4 Öğretmeni Eymen'e doğru yaklaştıkça ne oluyormuş?

.....



5 Eymen o akşam yatağına uzandığında ne düşünmüş?

.....



GÖRSEL OKUMA YAPALIM



Aşağıdaki görsellerle ilgili olan cümleyi işaretleyelim.



- Çocuklar kitap okuyor.
- Çocuklar piknik yapıyor.
- Çocuklar bisiklete biniyor.



- Kız annesine yardım ediyor.
- Ayşeler çiçek dikeyor.
- Görselde üç kişi var.



- Sınıfta üç kişi var.
- Öğretmen ders anlatıyor.
- Öğrenciler sınıfta geziyor.



- Elif kitap okumayı sever.
- Arda film izliyor.
- Miraç kitap okuyor.



- Annem pasta yapıyor.
- Dedem çimleri biçiyor.
- Babam ata biniyor.




- Görselde beş çocuk var.
- Çocuklar çizgi film izliyor.
- Ahmet çok acıkmış.



GÖRSEL OKUMA YAPALIM

★ Sıra bildiren sayıları kullanarak görsellerle ait oldukları cümleleri eşleştirelim.



	Ezel bana hediye almış.
	Melisa çiçekleri suluyor.
	Geçen gün deveye bindim.
	Babam araba sürüyor.
	Yeni ayakkabı alacağım.
	Astronot olmak istiyorum.

	Celil lambayı kapattı.
	Sağlığımız için süt içelim.
	Deftere gökkuşağı çizdim.
	Haftada bir banyo yapalım.
	Yarın düğüne gideceğiz.
	Kardan adam yaptık.



ZAMAN ÖLÇÜ BİRİMLERİYLE PROBLEMLER



Zaman ölçü birimleriyle ilgili verilen problemleri çözelim.

Fatih 8 yaşındadır. Ablası Fatih'ten 5 yaş büyüktür. Fatih ile ablasının yaşları toplamı kaçtır?

Kerem 7, Hasan 8 ve Eymen 9 yaşındadır. Üç arkadaşın 3 yıl sonraki yaşları toplamı kaçtır?

Nehir her hafta sonu 4 saat piyano kursuna gitmektedir. Nehir bir ayda toplam kaç saat piyano kursuna gitmektedir?

Her gün saat 8'de işe giden babam saat 17'de işten gelmektedir. Babam 5 günde toplam kaç saat işe gitmektedir?

Bir günde 13 saat gündüz, geri kalanı gece olmuştur. Buna göre kaç saat gece olmuştur?

Sabah saat 7'de doğan güneş 13 saat sonra batmıştır. Buna göre kaç saat gündüz olmuştur?

Melisa hafta içi günlerinde 2 saat, hafta sonu günlerinde 3 saat ders çalışıyor. Melisa bir haftada kaç saat ders çalışır?

Dün günlerden pazartesiydi. İki gün sonra hangi gün olur?



ZAMAN ÖLÇÜ BİRİMLERİYLE PROBLEMLER



Zaman ölçü birimleriyle ilgili verilen problemleri çözelim.

Okulumuzda bir ders süresi 40 dakika sürmektedir. Buna göre okulumuzda iki ders kaç dakika sürer?

Okulumuzda bir teneffüs 10 dakikadır. 5 teneffüs yaptığımız bir günde toplam kaç dakika teneffüs yapmış oluruz?

Elifsu hafta içi her gün okula gittiğine göre iki haftada kaç gün okula gider?

Babam her gün 8 saat uyumaktadır. Buna göre babam 5 günde kaç saat uyumaktadır?

Ahmet pazartesi ve salı günleri 15'er dakika, çarşamba günü ise 10 dakika kitap okumuştur. Ahmet üç günde toplam kaç dakika kitap okumuştur?

Bir gün 24 saat olduğuna göre hafta sonu günleri toplam kaç saattir?

Miraç 3 ay yaz tatili yapmıştır. Buna göre Miraç kaç gün tatil yapmıştır?

Kuzenim 3 gün önce bize geldi. Yarın günlerden salı olduğuna göre kuzenim hangi gün bize gelmiştir?



KURUŞ VE LİRA



Para miktarlarını gruplandırarak örnekteki gibi yazalım.



4 lira





KURUŞ VE LİRA



Aşağıda verilen para miktarlarını örnekteki gibi yazalım.



3 TL 25 kr



..... TL kr



..... TL kr



..... TL kr



..... TL kr



..... TL kr



..... TL kr



..... TL kr



KURUŞ VE LİRA



Aşağıda verilen para miktarlarını örnekteki gibi yazalım.



50 lira





KURUŞ VE LİRA



Aşağıda verilen para miktarlarını örnekteki gibi yazalım.



14 lira





KÜLTÜREL MİRASIMIZ



Milli kültürümüze ait olanları işaretleyelim.

Asker uğurlamak

Gelinlere kına yakmak

Noel kutlamak

Sünnet töreni

Hastaları ziyaret etmek

Bayramlarda tatile gitmek

Taziyeye(baş sağlığı) gitmek

Yılbaşında hindi kesmek



Milli kültürümüze ait oyunları işaretleyelim.

Zeybek

Tango

Halay


Vals

Horon

Cirit



Görsellerdeki yiyeceklerden kültürümüze ait olanları işaretleyelim.




















EĞLENCE ZAMANI

★ Görsellerdeki olayları sıra bildiren sayıları kullanarak oluş sırasına göre sıralayalım.



★ Gün içinde yaptıklarımızı başlama ve bitiş saatleri ile birlikte yazarak günlük planımızı oluşturalım.

Saat	Etkinlik