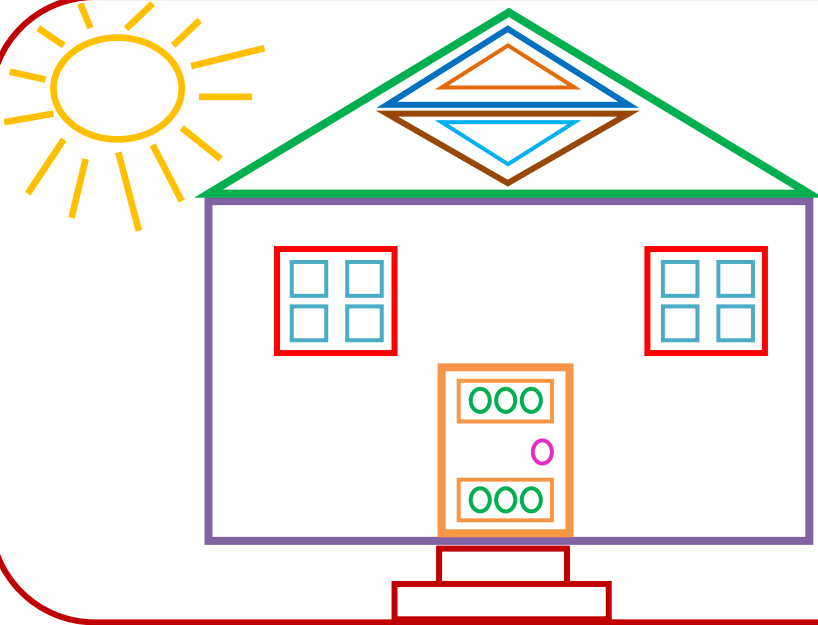


GEOMETRİK ŞEKİLLER 3

1-)



Aşağıdaki resmi inceleyerek yandaki soruları cevaplayınız.



SORULAR

1-) Yandaki resimde kaç tane çember var?

2-) Yandaki resimde kaç tane kare var?

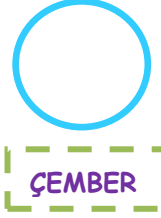
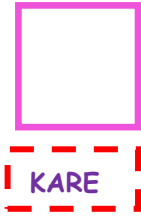

3-) Yandaki resimde kaç tane üçgen var?

1-) Yandaki resimde kaç tane dikdörtgen var?

2-)



Aşağıda verilen şekli inceleyiniz. Hangi geometrik şekilden kaç tane var? Sayılarını şekillerin içine yazınız.



İskender07

3-)



Aşağıda verilen kelimeleri uygun boşluklara yazınız.

üçgenin

yoktur

eşit

uzun

Karenin uzunlukta dört kenarı ve dört köşesi vardır.

Dikdörtgenin birbirine eşit 2 kenarı ve birbirine eşit 2 kısa kenarı vardır.

Çemberin köşesi ve kenarı

..... 3 kenarı ve 3 köşesi olan şekildir.

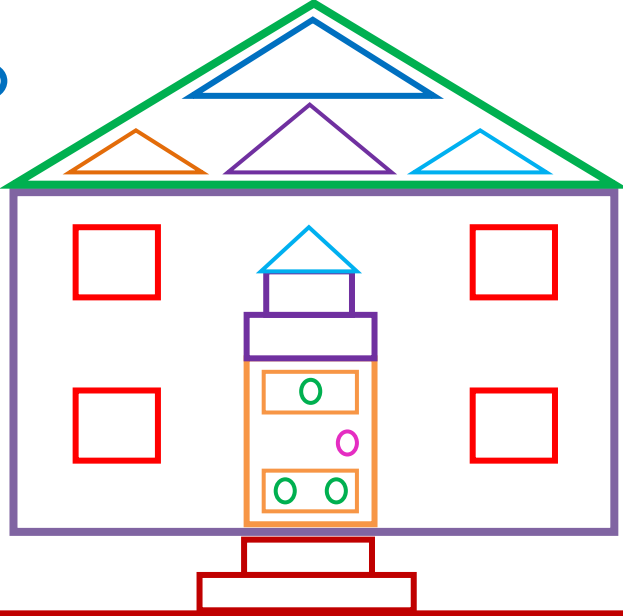
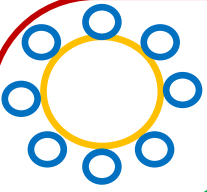
İskender07
(İlkokul etkinlikleri)
www.mebders.com

GEOMETRİK ŞEKİLLER 4

1-)



Aşağıdaki resmi inceleyerek yandaki soruları cevaplayınız.



SORULAR

1-) Yandaki resimde kaç tane çember var?

2-) Yandaki resimde kaç tane kare var?



3-) Yandaki resimde kaç tane üçgen var?

1-) Yandaki resimde kaç tane dikdörtgen var?


2-)



Aşağıda verilen şekli inceleyiniz. Hangi geometrik şekilden kaç tane var? Sayılarını şekillerin içine yazınız.




KARE



ÇEMBER



DİKDÖRTGEN



ÜÇGEN

İskender07

3-)



Aşağıda verilen kelimeleri uygun boşluklara yazınız.

köşesi

çemberin

kısa kenarı

Karenin

..... eşit uzunlukta dört kenarı ve dört köşesi vardır.

Dikdörtgenin birbirine eşit 2 uzun kenarı ve birbirine eşit 2 vardır.

..... köşesi ve kenarı yoktur.

Üçgen 3 kenarı ve 3 olan geometrik şekildir.

İskender07 (İlkokul Etkinlikleri)

www.mebders.com