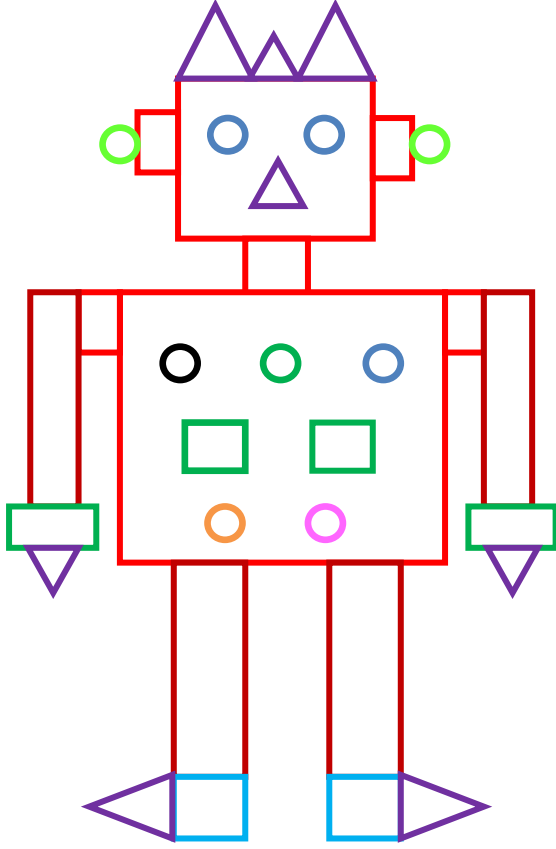


## GEOMETRİK ŞEKİLLER 5

1-)



Aşağıdaki resmi inceleyerek yandaki soruları cevaplayınız.



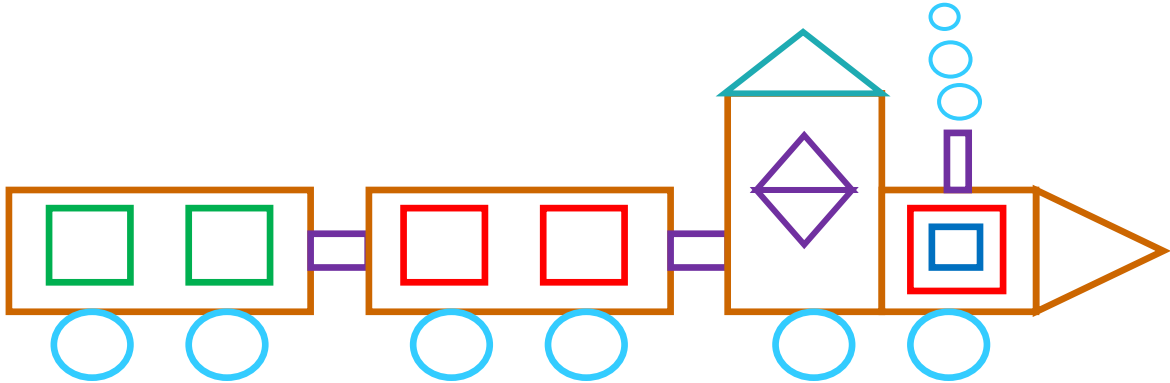
### SORULAR

- 1-) Yandaki resimde kaç tane çember var?
- 2-) Yandaki resimde kaç tane kare var?
- 3-) Yandaki resimde kaç tane üçgen var?
- 4-) Yandaki resimde kaç tane dikdörtgen var?

İskender TAŞ




Aşağıda verilen şekli inceleyiniz. Hangi geometrik şekilden kaç tane var? Yazınız.



Dikdörtgen sayısı: ?



Üçgen Sayısı: ?



Çember Sayısı: ?



Kare Sayısı: ?