



## KURALLI CÜMLE OLUŞTURALIM

\* Verilen cümleleri kurallı cümle şeklinde yazalım .

\* Suna süt içer yatmadan önce.

\* .....

\* Babam bahçede çalışıyor iki gündür.

\* .....

\* Dün akşam gittik köye.

\* .....

\* Fatma zamanında yapar ödevlerini.

\* .....

\* Annem balkonda yıkadı halıları.

\* .....

\* Erdem evde unutmuş kitabını.

\* .....

\* Köpek sokakta kovalıyor kedi.

\* .....

\* Gaye çok seviyor Maviş'i.

\* .....



## OLUMLU OLUMSUZ CÜMLE

\* Verilen cümle olumlu ise olumlunun çiçeğini, olumsuz ise olumsuzun çiçeğini boyayalım.

Cümleler	Olumlu	Olumsuz
Fatma tüm ödevlerini yapmış.		
Yağmur yağdığı için parka gidemedim.		
Babam okula gelmedi.		
Parkın çevresinde beş tur koştum.		
Sabahları erken kalkarım.		
Bu sene hiç kar yağmadı.		
Demet kaybettiği tokayı bulamadı.		
Sınıf kitaplığındaki kitapları düzelttik.		
Gökhan büyük kutuları taşımadı.		
Dedem bizimle pikniğe gitmedi.		
Yeşim yere düşen elmaları topladı.		
Halı yıkarken anneme yardım ettim.		
Köpek ağaca tırmanamadı.		
Babam pazardan muz almamış.		
Parkta köpeğim Duman'ı gezdirdim.		
Annem limonlu kek yapmış.		
Dayım otobüse yetişemedi.		





## ASLAN İLE YUNUS BALIĞI

Hayvanlar kralı bir gün, deniz kenarında mağrur bir eda ile gezinirken, su üstünde güneşlenen bir yunus balığı gördü.

– Merhaba, yunus balığı, diye gürlledi. Seni gördüğüme çok sevindim. Uzun zamandır seninle birlikte olmak istiyordum. Ben, hayvanlar kralıyım; sen de balıklar kralı. Eğer ikimiz bir birlik kurarsak, kimse sırtımızı yere getiremez.

Yunus balığı, dediklerin doğru, diye cevap verdi. Bir süre sonra, yine deniz kenarına gelen aslan, sahilde gezinen boğa ile amansız bir kavgaya tutuştu.

Kavganın kendisi için iyi gitmediği bir sırada, aslan, yunus balığından yardım istedi. Gelgelelim, yunus balığı denizden çıkıp kendisine yardım edecek durumda değildi. Bununla birlikte, aslan, kısa bir zaman sonra üstünlüğünü kabul ettirdiği boğayı kaçırdı. Daha sonra, yunus balığına dönerek onu azarladi:

– Sen ne biçim müttefiksin. Boğa beni öldürebilirdi. Sen ise, bana yardım için kılını bile kıpırdatmadın.

Yunus balığı:

– Kabahati bende bulma, aslan kardeş, diye cevap verdi. Kabahat beni yetiştirilenlerde. Gerçi denizde çok kuvvetliyim, ama karada, değil çarpışmak, yürümesini bile bilmem.



|| Aşağıdaki soruları metne uygun bir şekilde cevaplayınız.

|| 1. Aslan nerede dolaşmış?

|| .....

|| 2. Aslan ne görmüş?

|| .....

|| 3. Yunus balığı ne yapıyormuş?

|| .....

|| 4. Aslan niçin çok sevinmiş?

|| .....

|| 5. Kavga sırasında işler iyi gitmeyince aslan ne yaptı ?

|| .....

|| 6. Yunus balığı aslana niçin yardım edemedi?

|| .....



## FARKLI KÜLTÜRLER

1. Etkinlik: Aşağıdaki ifadelerden doğru olanlara "D.", yanlış olanlara "Y." yazalım.

- 1.) ( .... ) Ülkemizde farklı kültürlerden insanlar bir arada yaşarlar.
- 2.) ( .... ) İnsanların yaşadıkları yerleri bırakarak başka yerlere gitmelerine göç denir.
- 3.) ( .... ) İstenildiği zaman , istenilen bir ülkeye göç edilebilir.
- 4.) ( .... ) İnsanlar dil öğrenmek ve eğitim için başka bir ülkeye göç edebilirler .
- 5.) ( .... ) Ülkemizde yaşayan farklı kültürlerdeki insanlar kültürlerini değiştirmek zorundadırlar.
- 6.) ( .... ) Ülkemize zorunlu göç eden insanlar hiçbir zorlukla karşılaşmazlar
- 7.) ( .... ) Savaş , doğal afetler ve açlık gibi nedenler isteğe bağlı göç nedenleridir.
- 8.) ( .... ) Bir arada yaşamak için farklılıklara saygı göstermeliyiz.
- 9.) ( .... ) Ülkemize göç eden insanlara yardım etmeliyiz.

2. Etkinlik: Aşağıdaki resimdeki insanların göç etme nedenleri nelerdir? Göç eden bu insanların ülkemizde karşılaştıkları sıkıntılar nelerdir?



.....

.....

.....

.....

.....

.....

.....



## YAKIN ÇEVREMİZDE ÜRETİM

1. Etkinlik: Aşağıdaki faaliyetlerle görselleri rakamları kullanarak eşleştirelim.

1	Büyük baş hayvancılık	2	Mobilyacılık	3	Tavukçuluk
4	Arıcılık	5	Halıcılık	6	Tarım
7	Madencilik	8	Balıkçılık	9	Küçük baş hayvancılık



2. Etkinlik: Aşağıdaki bulmacada yurdumuzda üretimi yapılan ürünler verilmiştir. Bu ürünleri resimlerden faydalanarak bulalım ve boyayalım.

E	B	Ü	Z	Ü	M	İ	K	S
M	A	R	K	T	I	A	U	B
O	Ö	F	H	İ	A	K	M	S
B	E	Ç	A	Y	R	İ	A	T
İ	G	Z	V	E	A	L	Ş	O
L	E	Ö	L	R	S	İ	N	Z
Y	I	C	U	Y	Z	M	Ç	U
A	R	A	B	A	D	S	Ö	L
F	E	Y	I	Ü	C	V	B	O
T	Y	A	F	I	N	D	I	K
P	E	O	M	E	P	Z	O	U
S	R	İ	N	C	İ	R	Ö	M



# PARALARIMIZ

1.Etkinlik : Aşağıdaki para gruplarının toplamlarını paralarla eşleştiriniz .

A



B



C



Ç



D



E



F



G



H





# PARALARIMIZ

1.Etkinlik : Aşağıdaki para gruplarının toplamlarını eşleştiriniz .

A



B



C



Ç



D



E



F



G



H



I



i



....

26 TL

....

65 TL

....

7 TL

....

85 Kr.

....

3 TL

....

135 TL

....

1 TL

....

35 Kr.

....

14 TL

....

40 Kr.

....

77 TL

## PARALARIMIZ

1.Etkinlik : Aşağıdaki para gruplarının miktarlarını yazınız .




= ..... TL



= ..... TL



= ..... TL



= ..... kr.



= ..... kr.



= ..... kr.



= ..... TL



= ..... kr.



= ..... TL



= ..... TL



= ..... kr.




= ..... kr.



# PARALARIMIZ

1.Etkinlik : Aşağıdaki para gruplarının miktarlarını yazınız .



= ..... TL



= ..... TL



= ..... TL



= ..... TL



= ..... TL



= ..... TL



= ..... TL



= ..... TL



= ..... TL



= ..... TL








= ..... TL







= ..... TL

## PARALARIMIZ

1.Etkinlik : Aşağıda gruplar halinde verilen paralardan değeri en fazla olanı işaretleyiniz.






1.Etkinlik : Aşağıda gruplar halinde verilen paralardan değeri en az olanı işaretleyiniz.












## PARALARIMIZ




1.Etkinlik : Aşağıda gruplar halinde verilen paralardan değeri en fazla olanı işaretleyiniz.


		
<input type="radio"/>	<input type="radio"/>	<input type="radio"/>

		
<input type="radio"/>	<input type="radio"/>	<input type="radio"/>

		
<input type="radio"/>	<input type="radio"/>	<input type="radio"/>

		
<input type="radio"/>	<input type="radio"/>	<input type="radio"/>

		
<input type="radio"/>	<input type="radio"/>	<input type="radio"/>

		
<input type="radio"/>	<input type="radio"/>	<input type="radio"/>

		
<input type="radio"/>	<input type="radio"/>	<input type="radio"/>

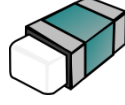


## PARALARIMIZ

1.Etkinlik : Aşağıdaki ürünlerin fiyatlarını karşılaştıralım.



Kalem 6 TL



Silgi 3 TL



Kitap 9 TL

\*En pahalı eşya .....tır. \*En ucuz eşya .....dir.

\* .....in fiyatı kitabın fiyatından ucuz, silginin fiyatından pahalıdır.



Gofret 75 kr.



Sakız 50 kr.



Süt 1 TL

\*En pahalı ürün .....tür. \*En ucuz ürün .....dir.

\* .....in fiyatı sütün fiyatından ucuz, sakızın fiyatından pahalıdır.



Çanta 20 TL



Çorap 5 TL



Şapka 15 TL

\*En pahalı eşya .....dir. \*En ucuz eşya .....tır.

\* .....nın fiyatı çantanın fiyatından ucuz, çorabın fiyatından pahalıdır.



Etek 35 TL



Pantolon 50 TL



Kazak 30 TL

\*En pahalı giysi .....dur. \*En ucuz eşya .....tır.

\* .....in fiyatı pantolonun fiyatından ucuz, kazağın fiyatından pahalıdır.

## PARALARIMIZ

1.Etkinlik : Aşağıdaki ürünlerin fiyatlarını karşılaştıralım. Noktalı yerlere "pahalıdır , ucuzdur" kelimelerinden uygun olanı yazalım.



Kalem 9 TL



Kalem açacağı 5 TL




Kalemlik 15 TL



Suluk 18 TL

- \*Kalem , suluktan ..... \*Suluk , kalemlikten .....
- \*Kalem , kalem açacağından .....
- \*Kalem açacağı , kalemlikten .....
- \*Kalemlik , kaleminden .....
- \*Suluk , kalemlikten .....
- \*Kalem , kalemlikten .....
- \*Kalemlik , suluktan .....



Toka 60 kr.



Gofret 75 kr.



Süt 1 TL



Sakız 50 kr.

- \*Gofret , tokadan ..... \*Sakız , süttten .....
- \*Süt , gofretten .....
- \*Toka , süttten .....
- \*Gofret , sakızdan .....
- \*Süt , tokadan .....
- \*Sakız , gofretten .....
- \*Toka , gofretten .....
- \*Toka , sakızdan .....



## PARALARIMIZ

1.Etkinlik : Aşağıdaki ürünlerin fiyatlarını karşılaştıralım. Noktalı yerlere "pahalıdır , ucuzdur" kelimelerinden uygun olanı yazalım.

Kitap = 13 TL



Silgi = 4 TL



Kalemlik = 27 TL



Kalem=9 TL



Defter=6 TL



- \*Silgi , kalemden ..... \*Defter , silgiden .....
- \*Kitap , defterden .....
- \*Kalemlik , kitaptan .....
- \*Kalem , silgiden .....
- \*Defter , kitaptan .....
- \*Kalem , kalemlikten .....
- \*Kitap , kalemden .....



Araba = 36 TL



Top = 14 TL



Bebek = 48 TL




Robot = 82 TL



Ördek = 25



- \*Ördek , toptan ..... \*Araba , bebekten .....
- \*Robot , arabadan .....
- \*Top , ördekten .....
- \*Bebek , robottan .....
- \*Araba , ördekten .....
- \*Robot , arabadan .....
- \*Bebek , ördekten .....
- \*Araba , robottan .....





## PARALARIMIZLA İLGİLİ PROBLEMLER

1. Gaye'nin 18 lirası vardı. Dedesi Gaye'ye 15 lira daha verdi. Gaye'nin kaç lirası olmuştur ?

Çözüm:



2. Arda'nın 8 tane 5 lirası var. Arda'nın kaç lirası vardır ?

Çözüm:



3. Fatma tanesi 8 liradan 3 tane kitap aldı. Fatma kitaplara kaç lira öder ?

Çözüm:



4. Ömer'in 40 lirası vardı. 15 lirasına şapka aldı. Ömer'in kaç lirası kaldı ?

Çözüm:



5. Metin 90 kuruşu vardı. 75 kuruşa gofret aldı. Metin'in kaç kuruşu kaldı ?

Çözüm:



6. Kübra'nın 16 lirası vardı. Kübra parasının yarısını kardeşine verdi. Kübra kardeşine kaç lira verdi?

Çözüm:




7. Melih'in her gün kumbarasına 2 lira atmış. Melih bir haftada kumbarasına kaç lira atmıştır ?

Çözüm:



8. Dedem 4 torununa 32 lira eşit olarak paylaştırdı. Her birimize kaç lira düşmüştür ?

Çözüm:



## PARALARIMIZLA İLGİLİ PROBLEMLER

1. Sinem tanesi 2 lira olan tokalardan 7tane almış. Satıcıya 20 lira vermiş. Kaç lira para üstü alır ?

Çözüm:



2. Eymen'in 34 lirası vardı. Dün 7 lira , bugün 9 lira harcamış. Eymen'in kaç lirası kalmıştır ?

Çözüm:



3. Oya'nın 12 lirası vardı. Oya parasının tamamına aynı kalemde 6 tane almış. Oya'nın aldığı kalemlerde bir tanesi kaç liradır ?

Çözüm:



4. Ergün'ün 14 lirası vardı. Ergün'e babası 16 lira , annesi 8 lira vermiş. Ergün'ün toplam kaç lirası olmuştur ?

Çözüm:



5. 3 tanesi 21 lira olan kitapların , bir tanesi kaç liradır ?

Çözüm:



6. Kenan 16 lirası var. Parsınin yarısına 4 tane kalem almış. Kalemlerin tanesi kaç liradır ?

Çözüm:



7. Ablamın 90 lirası vardı. 25 liraya bere , 17 liraya eldiven almış. Ablamın kaç lirası kalmıştır ?

Çözüm:



8. Aytaç ve 2 arkadaşı ellerindeki 8'er lirayı birleştirmişler ve 15 lirasını harcamışlar. Geriye kaç liralari kalmıştır ?

Çözüm:



## PARALARIMIZLA İLGİLİ PROBLEMLER

1. Sena'nın 3 tane 10 lirası vardı. Sena parasının 16 lirasına harcadı. Sena'nın kaç lirası kaldı ?

Çözüm:



2. Annesi Bülent'e ekmek alması için 15 lira verdi. Bülent Tanesi 3 lira olan ekmeklerden paranın tamamına kaç tane almıştır?

Çözüm:



3. Suna'nın 25 lirası vardı. Suna 9 lirasını harcadıktan sonra parasının yarısını kardeşine verdi. Suna kardeşine kaç lira verdi ?

Çözüm:



4. Erkan'ın 7 tane 5 lirası vardı. Erkan parasını 19 lirasına kitap aldı. Erkan'ın kaç lirası kaldı ?

Çözüm:



5. Funda'nın 43 lirası var. Beğendiği çanta ise 60 lira. Funda'nın çantayı alabilmesi için kaç liraya daha ihtiyacı var ?

Çözüm:



6. Şenay'ın kumbarasında 52 lirası vardı. Kumbaraya önce 8 lira , sonra 14 lira daha attı. Kumbarada kaç lira olmuştur ?

Çözüm:



7. Yavuz'un 40 lirası vardı. Yavuz tanesi 5 lira olan çiçeklerden annesine 3 tane çiçek aldı. Yavuz'un kaç lirası kalmıştır ?

Çözüm:



8. Kağan ve 3 kuzeni 28 lirayı eşit olarak paylaşmışlar. Kağan'ın önceden cebinde 6 lirası daha varmış. Kağan'ın kaç lirası olmuştur ?

Çözüm:





PARALARIMIZLA İLGİLİ PROBLEMLER

1. Sıla'nın 32 TL'si var. Sıla parasının çeyreğine kitap alıyor. Sıla'nın aldığı kitap kaç TL'dir ?

Çözüm:



2. Tanesi 20 kuruş olan şekerlerden 3 tane aldım. Satıcıya 75 kuruş verdim. Kaç kuruş para üstü alırım ?

Çözüm:



3. Selim'in beğendiği 95 liralık ayakkabıda 18 lira indirim yapılmıştır. Ayakkabının indirimli fiyatı kaç liradır ?

Çözüm:



4. Ozan'ın 24 lirası vardı. Ozan parasının çeyreğine defter almış. Ozan'ın kaç lirası kalmıştır ?

Çözüm:



5. Özlem'in 25 lirası vardı. Annesi bir miktar para verince Özlem'in 40 lirası oldu. Annesi kaç lira vermiştir ?

Çözüm:



6. Cem'in 30 lirası vardı. Kantininde 5 gün boyunca her gün 4 lira harcamış. Cem'in kaç lirası kalmıştır ?

Çözüm:



7. Eda'nın 3 tane 20 lirası vardı. Parasının 36 lirasına tişört almış. Eda'nın kaç lirası kalmıştır ?

Çözüm:



8. Ece'nin 8 lirası var. Ablasının parası ise Ece'nin parasının 4 katından 5 lira eksiktir. Ece'nin ablasının kaç lirası vardır ?

Çözüm:



## PARALARIMIZLA İLGİLİ PROBLEMLER

1. Alper'in cüzdanında 7 tane 5 lira ve 8 tane 1 lira var. Alper'in cüzdanında toplam kaç lira vardır ?

Çözüm:



2. Ceyda'nın 20 lirası vardı. Ceyda parasının çeyreğini harcadı. Ceyda'nın kaç lirası kaldı?

Çözüm:



3. Babam 25 liraya kuru pasta, 40 liraya yaş pasta aldı. Satıcıya 70 lira verdi. Babam kaç lira para üstü alır ?

Çözüm:



4. Caner'in 30 lirası var. Caner tanesi 5 lira olan kitaplardan 3 tane alıyor. Caner'in kaç lirası kalır ?

Çözüm:



5. Çetin'in 16 lirası vardı. Yarısını kardeşine verdi. Sonra parasının 5 lirasını harcadı. Çetin'in kaç lirası kalmıştır ?

Çözüm:



6. Esin parasının tamamına 8 tane toka almış. Tokaların tanesi 2 lira olduğuna göre, Esin'in kaç lirası vardı ?

Çözüm:



7. Kumbara 1. gün 7 lira, 2. gün ise 1. günden 6 lira fazla koydum. İki günde toplam kaç lira koydum ?

Çözüm:



8. Fatih tanesi 3 lira olan kaleminden 7 tane almış. Parasından geriye 9 lira kalmış. Fatih'in kalem almadan önce kaç lirası vardı ?

Çözüm:

