



Aşağıdaki metni anlayana kadar okuyalım.

RAMAZAN BAYRAMI

Otuz gün tutulan oruçtan sonra Ramazan Bayramına bir gün kalmıştı. Arife günü Melek, evde bayram temizliği yapan annesine yardım etti. Babaannesi bayramda misafirlere ikram etmek için baklavalı, börekler hazırladı. Babası ile ağabeyi bayram alışverişine çıktılar. Evde yapılan iş bölümü ile bayram hazırlığı hem kolay hem de hızlı bir şekilde bitmişti.



Bayram sabahı Melek'in ağabeyi, babası ve dedesi bayram namazı için camiye gittiler. Eve döndüklerinde kahvaltı sofrası hazırды. Önce evde herkes birbiri ile bayramlaştı. Büyükleri Melek ve ağabeyine bayram harçlığı verdiler. Daha sonra ailece kahvaltı sofrasına oturdular. Kahvaltıdan sonra mahallede bir hareketlilik başladı. Komşular, akrabalar, arkadaşlar herkes birbirine bayramlaşmaya gidiyordu. Sokaklar cıvılcıvılcı olmuştu...



Aşağıdaki soruları metne göre cevaplayalım.



Bayramdan önceki günün adı neymiş?



Bayram hazırlığı niçin kolay ve hızlı bir şekilde bitmiş?



Bayram namazına kimler gitmiş?



Melekler kahvaltıdan önce ne yapmışlar?



Kahvaltıdan sonra mahalledeki hareketliliğin sebebi neymiş?



NOKTALAMA İŞARETLERİ-İ

★ Noktalama işaretleri doğru olanlar için soldaki, yanlış olanlar için sağdaki harfi boyayarak şifreyi çözelim.

D	Y	İfade
N	S	Birinci sınıfa gidiyorum.
O	A	Ayşe, Ceylin ve Elif ile oynadık.
L	K	Melisa gelmedi mi.
T	A	Öğretmenimiz sınıfa geldi.
A	T	Hangi dersi işleyeceğiz?
A	L	Okumak için bir kitap aldım?
A	L	Kırtasiyeden kalem, silgi ve açacak aldım.
I	M	Teneffüste bahçeye çıkalım mı.
K	A	Kantinden tost, ayran ve meyve suyu alalım mı?

Gizli Sözcük



--	--	--	--	--	--	--	--	--	--

★ Cümlelerde yay ayraç ile belirtilen yerlere uygun noktalama işaretlerini koyalım.

Annemle alışveriş için pazara gittik()

Pazardan domates() biber() patlıcan() salatalık aldık()

Marul da alacak mıyız()

Pazar arabamız nerede()

Dönüşte fırına uğradık()

Fırından kaç ekmek alınacak()

Ekmek() simit() poğaçaya alınacak()



PARALARIMIZI KARŞILAŞTIRALIM








★ Aşağıda verilen paralardan miktarı daha fazla olanı örnekteki gibi işaretleyelim.





PARALARIMIZI KARŞILAŞTIRALIM

★ Aşağıda verilen paralardan miktarı daha az olanı örnek-
teki gibi işaretleyelim.






ALİŞVERİŞ YAPALIM

★ Aşağıda fiyatları verilen ürünlere göre istenen alışverişleri yaparak alışveriş tutarlarını örnekteki gibi bulalım.



10 TL



20 TL




15 TL



30 TL



$10 + 20 = 30$ TL





PARALARIMIZLA İLGİLİ PROBLEMLER



Paralarımızla ilgili verilen problemleri çözelim.

Tanesi 10 TL olan toplardan 3 tane alan Miraç, satıcıya 50 TL vermiştir. Miraç kaç lira para üstü almalıdır?

Kırtasiyeden fiyatı 2 TL olan kaleminden 3 tane, 5 TL olan defterden 1 tane aldım. Aldıklarım için kaç lira ödemeliyim?

Her gün 10 TL harçlık alan Elif, harçlığının 7 lirasını harcıyıp kalanını kumbaraya atıyor. Elif bir haftada kaç lira biriktirir?

Babam her akşam eve gelirken tanesi 2 TL olan ekmeklerden 3 tane almaktadır. Buna göre babam 5 günde aldığı ekmekler için kaç lira ödemektedir?

Annem 20 lira verdi. 8 lirasını harcadım. Daha sonra babam 15 lira verdi. 7 lira daha harcadım. Geriye kaç liram kaldı?

Tanesi 3 lira olan tokalardan 5 tane alan Zeynep, satıcıya 20 lira vermiştir. Zeynep kaç lira para üstü almalıdır?

Kantinde tost 7 liradır. Ayranın fiyatı, tostun fiyatından 5 lira daha azdır. 10 lirası olan Ayşe bir tost ve bir ayran alınca geriye kaç lirası kalır?

Kumbarasına her gün 2 lira atan Zeynep'in kumbarasında 2 haftada kaç lira birikir?



PARALARIMIZLA İLGİLİ PROBLEMLER



Paralarımızla ilgili verilen problemleri çözelim.

Bayramda annem 15, babam 20 lira harçlık verdi. Toplam kaç liram oldu?

Kantinden 6 liraya tost alan Melisa, kantinciye 10 TL verdi. Melisa kaç lira para üstü almıştır?

Okula gittiği günlerde babasından her gün 5 TL harçlık alan Elif, bir haftada kaç lira harçlık almaktadır?

Kumbaramda 1 tane 20 TL, 2 tane 10 TL, 1 tane 5 TL ve 3 tane 1 TL var. Kumbaramda kaç lira birikmiştir?

Kerem tanesi 3 lira olan ayranlardan 3 tane alıp satıcıya 20 TL vermiştir. Kerem kaç lira para üstü almalıdır?

Kilosu 2 lira olan 7 kilo karpuz için satıcıya kaç lira ödemeliyiz?

Celil'in 10 lirası vardır. Kardeşi İbrahim'in parası, Celil'in parasından 15 lira fazladır. İki kardeşin toplam kaç lirası vardır?

Cüzdanımda 3 tane 10 TL, 3 tane 5 TL vardı. Param ile tanesi 15 lira olan toplardan 2 tane aldım. Geriye kaç liram kaldı?



ÜLKEMİZE GÖÇ EDENLER

★ İnsanların yaşadıkları ülkeden farklı bir ülkeye göç etme nedenlerini işaretleyelim.

- | | |
|---|---|
| <input type="checkbox"/> Çalışmak için | <input type="checkbox"/> Savaştan kaçmak için |
| <input type="checkbox"/> Tatil yapmak için | <input type="checkbox"/> Eğitim görmek için |
| <input type="checkbox"/> Daha iyi bir iş bulmak için | <input type="checkbox"/> Gezmek için |
| <input type="checkbox"/> Farklı insanlar tanımak için | <input type="checkbox"/> Farklı bir dil öğrenmek için |

★ Aşağıdaki ifadelerden **doğru** olanların kutusunu **yeşile**, **yanlış** olanların kutusunu **kırmızıya** boyayalım.

- İnsanlar çeşitli nedenlerle farklı ülkelere göç edebilirler.
- Ülkemizde farklı ülkelere insanlar bulunmaz.
- Yabancı insanların konuştukları dil bizimkinden farklı olabilir.
- Ülkemizdeki yabancılara yardım etmemeliyiz.
- Dilimizin farklı olması onlara yardım etmemize engel değildir.

★ Ülkemize farklı nedenlerle göç etmiş insanlara hangi konularda yardımcı olabiliriz. Düşüncelerimizi yazalım.

.....

.....

.....


.....

.....



ÜRETTİKLERİMİZ

★ Görselleri uygun üretim türleri ile örnekteki gibi eşleştirelim.



Tarım

Hayvancılık

Sanayi



★ Yaşadığımız şehirde üretilen ürünleri araştırarak yazalım.

Tarım

Hayvancılık

Sanayi

.....

.....

.....

.....

.....

.....

.....

.....

.....

.....

.....

.....

.....

.....

.....

.....

.....

.....

.....

.....

.....

.....

.....

.....



EĞLENCE ZAMANI

★ Ailece bayram alışverişine çıktığımızı düşünelim. Bayram için evimize alınacakları ok çizerek alışveriş arabasına götürelim.



★ Dini bayramlarımızın isimlerini aşağıya yazalım.

Dinî Bayramlarımız

★ Ramazan Bayramı'nda yaptıklarımızı aşağıya yazalım.
