



GÜVERCİN İLE KARINCA

Günlerden bir gün, çok susayan bir güvercin, su içmek için bir derenin kenarına konmuş. Tam eğilip su içecekken bir karıncanın suya düştüğünü görmüş. Zavallı karınca, sudan çıkmak için çırpınıp duruyormuş. Güvercin, karıncaya çok acımış.

Kıyıda aldığı uzun bir çöpü suya bırakmış. Karınca da çöpe tutunarak kıyıya çıkmış. Bu sırada oradan geçen bir avcı, güvercini görünce sevinmiş. "Ne güzel bir av" diye düşünmüş. Her şeyden habersiz güvercine silahını çevirip nişan almış. Karınca bunu görünce, avcının çıplak topuğundan ayağını ısırması. Avcı da acı ile haykırmış. Avcının sesini duyan güvercinde havalanıp uçmuş. Böylelikle karınca da güvercinin yaptığı iyiliğin altında kalmamış.

Not: İlk 3 soruyu metne göre cevaplayınız.

1) "Güvercin ile Karınca" metninden nasıl bir ders çıkarabiliriz?

- A) İyilik sadece karşılıklı olarak yapılmalıdır.
- B) Bir işte çıkarımız olduğu zaman iyilik yapmalıyız.
- C) Yapılan iyilik karşılıksız kalmaz.

2) Güvercin, suya düşen karıncaya **nasıl** yardım etmiş?

- A) Gagasıyla sudan çıkarmış.
- B) Uzun bir çöpü suya bırakmış.
- C) Avcılardan yardım istemiş.

3) Avcılar, güvercini **neden** avlayamamış?

- A) Karınca, avcının ayağını ısırması,
- B) Güvercin, avcının ayağını ısırması.
- C) Güvercin avcıları önceden görmüş.



4) Tren vagonlarındaki heceleri kullanarak aşağıdaki kelimelerden hangisini **yazamayız**?

- A) sabah
- B) sakız
- C) bahçe




- 5) Papatya Bursa
Van Gölü Bilgisayar
Kemal Akdeniz

Yukarıda verilen kelimelerden kaç tanesi **cins (tür)** adıdır?

- A) 2
- B) 3
- C) 4

- 6)  Fidanları suladı
 Tohumları ekti
 Tohumu, fidan oldu
 Toprağı kazdı

Verilen cümleleri oluş sırasına göre sıralarsak **ikinci sırada** hangi cümle olur?

- A)  B)  C) 

7) Hangi öğrenci **soru cümlesi** kurmuştur?

- A)  **Sen de mi geleceksin**
 B)  **Eyvah, telefonu unuttum**
 C)  **Tatilde köye gideceğim**

8) Aşağıda verilen cümlelerin hangisinde **yazım yanlışı** vardır?

- A) Otobüs Antalya'dan yola çıktı.
 B) Arkadaşım çok iyi ingilizce konuşuyor.
 C) Evimizin üst katına Niğdeliler taşındı.



Yukarıdaki kumbarada toplam kaç kuruş vardır?

- A) 85 kr. B) 90 kr. C) 95 kr.

10)



Yukarıdaki kumbarada toplam kaç TL vardır?

- A) 42 TL B) 47 TL C) 52 TL

11)



Aşağıdaki paraların her biri 5 TL olacak şekilde bozduurulacaktır.

Hangisi **10 tane** 5 TL'lik eder?

- A)  B)  C) 

12)



Yukarıdaki cüzdanda toplam kaç TL vardır?

- A) 4 TL B) 5 TL C) 6 TL

13)



Oya yukarıdaki paraları vererek ayakkabı alıyor. Oya'nın aldığı ayakkabı kaç TL'dir?

- A) 86 TL B) 89 TL C) 94 TL

14)



Rapunzel'in 70 TL parası vardır. Elbiseyi alabilmesi için kaç TL'ye daha ihtiyacı vardır?

A)



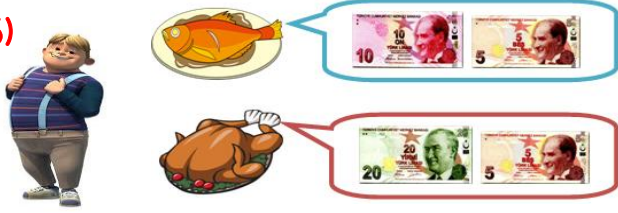
B)



C)



15)



2 tavuk ve 1 balık almak isteyen Hayri'nin kaç TL para ödemesi gerekmektedir?

A) 40 TL

B) 55 TL

C) 65 TL

16) Aşağıdakilerden hangisi ülkesinden göç edenler için söylenebilir?

A) Yeni çevreye ve kültüre alışmakta zorlanabilirler.

B) Gittikleri yere hemen uyum sağlarlar.

C) Kolaylıkla iş bulabilirler.

17) Ülkemize göç etmiş farklı kültürdeki insanlara nasıl davranılmalıdır?

A) Düşmanca

B) Saygılı ve nazik

C) Tutumlu ve özenli

18) Aşağıda verilen ifadelerden hangisi yanlıştır?

A) Ülkemize göç etmiş insanlara misafirperver davranmalıyız.

B) Farklı ülkelerden gelen insanların kültürlerine saygı göstermeliyiz.

C) Okulumuza başka ülkelerden gelen arkadaşımızla konuşmamalıyız.

19) Aşağıdakilerden hangisi göç etmek için bir neden değildir?

A) Savaş

B) Doğal afet

C) Gezme

20)



Yukarıdaki görselde verilen yerde yaşayan insanların hangi üretim faaliyetlerini yapması beklenmez?

A) Sanayi

B) Hayvancılık

C) Tarım

Cevap Anahtarı

- 1)C 2)B 3)A 4)B 5)A
6)C 7)A 8)B 9)B 10)C
11)A 12)B 13)B 14)A 15)C
16)A 17)B 18)C 19)C 20)A