

HIRSIZIN HIÇ MI SUÇU YOK?

Bir pazar gecesini
Nasrettin Hoca'nın
eşeği ahırdan çalınmış.
Ertesi gün can sıkıntısı
içinde durumu
komşularına anlatınca
her kafadan bir ses
çıkmaya başlamış.



Birisi:

- Hocam, niye ahırın kapısına iyi bir kilit
takmadın sanki?

Köyün muhtarı:

- Evine hırsız giriyor da senin nasıl haberin
olmuyor?

Caminin imamı da:

- Hocam, kusura bakma ama eşeğin
çalınmasında en büyük sebep yine sensin.
Çünkü doğru düzgün bir ahırın bile yok.
Nereden baksan dökülüyor.

Hoca en sonunda dayanamamış, kızmış:

- Yahu, iyi güzel de kabahatin hepsi benim
mi? Hırsızın hiç mi, suçu yok?

Not: İlk 3 soruyu metne göre cevaplayınız.

1) Yukarıdaki fıkraya göre aşağıdakilerden
hangisi söylenemez?

- A) Hoca'nın eşeği ahırdan çalınmış.
B) Olay pazar gecesini yaşanmış.
C) Komşuları bu olayda hırsız suçlamışlar.

2) Aşağıdakilerden hangisi metinde geçen
kahramanlardan birisi değildir?

- A) Cami imamı B) Hoca'nın hanımı
C) Muhtar

3) Nasrettin Hoca komşularını dinledikten
sonra onlara nasıl tepki vermiş?

- A) Tebrik etmiş. B) Utanmış, özür dilemiş.
C) Onlara kızmış.

4)	aktif	vazife	pozitif
	görev	negatif	pasif

Tablodaki kelimelerin eş anlamlı karşılığının
bulunduğu kutucuklar maviye, zıt anlamlı
karşılığının bulunduğu kutucuklar kırmızıya
boyanacaktır. Buna göre nasıl bir görüntü
oluşur?

- A) B) C)

5) Vay () Burada çok hikâye var ()
Bu kadar hikâyeyi nasıl okuyabildin ()

Yukarıdaki ayraç () ile gösterilen yerlere
sırasıyla hangi noktalama işareti gelmelidir?

- A) (!) (.) (?) B) (!) (.) (.) C) (!) (?) (.)

6) Merhaba Ben Oya

Doğum günümde seni de aramızda görmeyi çok isterim.

Adres: Fatih Mah. Vatan Cad. Taş Apart. No: 47/2

Kepez / Antalya

Tarih: 27-03-2022

Bu davetiyede yapılan yazım yanlışları aşağıdakilerden hangisidir?

- A) Büyük harflerin yazılışındaki yanlışlar
- B) Sözcüklerin yazılışındaki yanlışlar
- C) Tarihlerin yazılışındaki yanlışlar

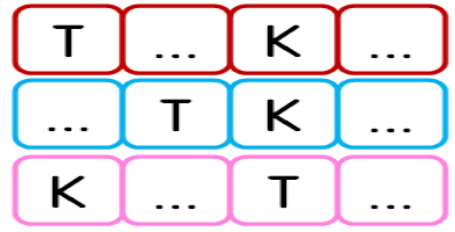
7)



Levhadaki sözcüklerin çağrıştırdıkları kavramlar hangi seçenekte sırasıyla doğru verilmiştir?

- A)  Meslek  Kış  Zaman
- B)  Zaman  Kış  Meslek
- C)  Meslek  Zaman  Kış

8)



Yukarıdaki bulmacada her sırada kelimeler verilmiştir. Kelimelerin eksik harflerini tamamladığımızda hangi kelime bulmacada yer almaz?

- A) TAKI
- B) KISA
- C) KITA

9) Aşağıda verilen deyimlerin hangisinde "Birinin sevgi, saygı ve ilgisini yitirmek." anlamı vardır?

A)

GÖZDEN DÜŞMEK

B)

ÇAM DEVİRMEK



C)

PİREYİ DEVE YAPMAK



10)

Kurnaz tilki, nalbur dükkânından aldığı boya ile kendisini siyah beyaz renge boyamış. Amacı Karabaş'a benzemekmiş. Kümesin önüne gelmiş. Tavuklar, tilkinin Karabaş olduğuna inanmış. Tam bu sırada Karabaş gelince, tilkinin yalanı ortaya çıkmış. Tilki kaçarak kümeden uzaklaşmış.


Hikâyede hangi unsur yoktur?

- A) Yer
- B) Zaman
- C) Olay

11) $62 - \triangle = 25$ $\square - 24 = 30$

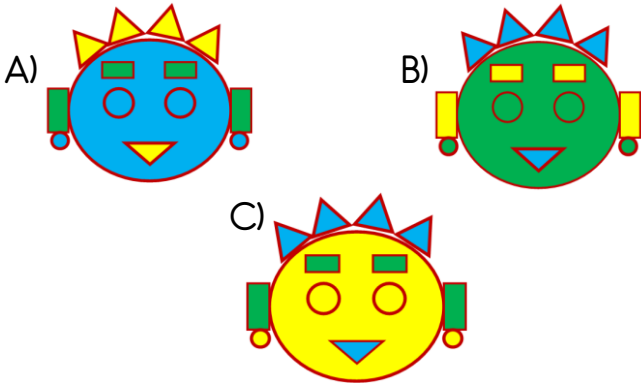
Yukarıda verilen çıkarma işlemlerine göre " $\triangle + \square$ " işleminin sonucu kaçtır?

- A) 81 B) 84 C) 91




- Üç köşesi olan şekilleri maviye boya
- Dört kenarı olan şekilleri yeşile boya
- Köşesi ve kenarı olmayan şekilleri sarıya boya

Yukarıda verilen bilgilere göre resmin boyanmış hali aşağıdakilerden hangisidir?



13) Günde 4 tane havuç yiyen bir tavşanın **bir hafta** boyunca yediği havuç sayısı **3 desteden** kaç eksiktir?

- A) 2 B) 4 C) 6



Yukarıdaki eşit kollu terazi dengede durmaktadır. Buna göre bir torba elmanın ağırlığı aşağıdaki çarpma işlemlerinin hangisinin sonucu ile **eşit değildir**?

- A) 8×3 B) 7×4 C) 6×4



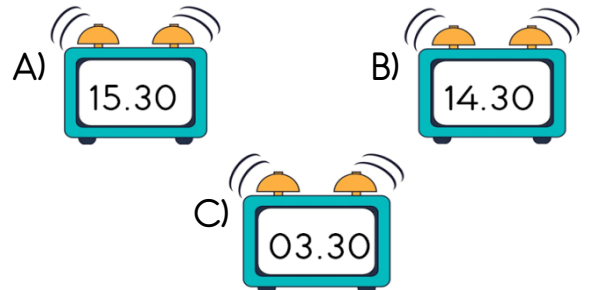
Arif, yukarıda verilen çeyrek ve yarım simitleri birleştirerek kaç **bütün simit** oluşturabilir?

- A) 6 B) 8 C) 9

16)


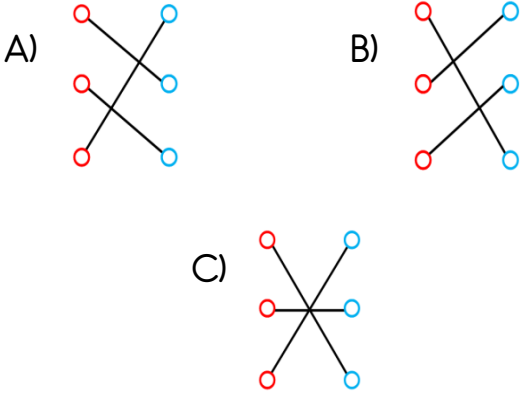
Aslı oyun oynamak için **öğleden sonra** dışarıya çıktığında akrep 2 ile 3 arasında, yelkovan 6'nın üzerindeydi. Aslı, 1 saat oyun oynadıktan sonra parktan ayrılmıştır.

Aslı'nın parktan ayrıldığı zamanı doğru gösteren saat aşağıdakilerden hangisidir?

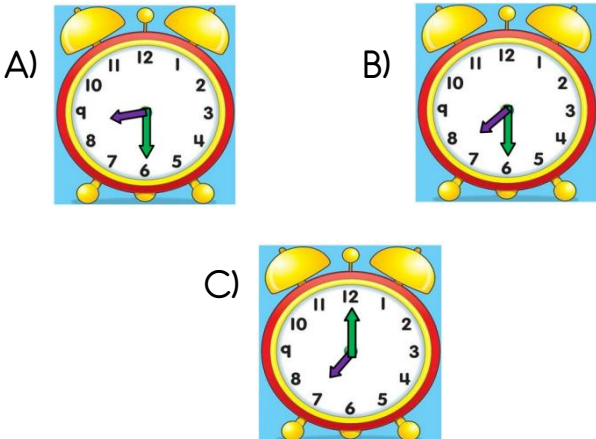


- 17) $10 \div 2$ $28 \div 4$
 $12 \div 4$ $15 \div 5$
 $21 \div 3$ $20 \div 4$

Yukarıda bölme işlemlerinden sonuçları aynı olanlar eşleştirilecektir. Buna göre doğru eşleştirme nasıl olmalıdır?

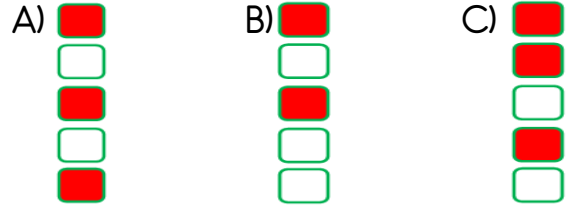


Arda, akşam yukarıda gösterilen saatte uyuyor. Arda 10 saat uyduğuna göre sabah saat kaçta uyanmıştır?



- 19) 1 yılda 12 ay vardır.
 Bir yıl 3 mevsim, her mevsimde 4 ay vardır.
 2 hafta 14 gündür.
 Şubat ayı 29 gündür, 4 yılda bir de 28 gün sürer.
 Bir yılda 54 hafta vardır.

Yukarıdaki ifadelerden doğru olanların başındaki kutucuklar **kırmızıya** boyandığında nasıl bir görüntü oluşur?



20) 

	9 tane
	6 tane
	8 tane
	10 tane

Selim

Selim'in kumbarasından çıkan paralar ve adetleri tabloda gösterilmiştir. Selim'in kumbarasında kaç Türk Lirası vardır?

- A) 15 B) 16 C) 17



21)

Dengeli ve düzenli besleniyorum.

Elif için aşağıdakilerden hangisi söylenemez?

- A) Gereğinden fazla miktarda yer.
- B) Tüm besinlerden yeterince yer.
- C) Sağlıklı bir vücuda sahiptir.

22)




Dışlerimizi kontrol eder.
Gerekli ise tedavi eder.



Doktor tarafından verilen tedavileri uygular,
hastayı denetler.

Yukarıda verilen bilgilere göre aşağıda hangi sağlık çalışanından bahsedilmemiştir?



A)



B)



C)

23)



Mustafa, asker olmak istiyordu.
Ben hiç istemedim. Ancak pes etmedi ve sonunda beni ikna etti.

Zübeyde Hanım'ın bu sözleri Atatürk'ün hangi özelliğini vurguluyor?

- A) Zekası
- B) Cesareti
- C) Azmi

24)



Kara yolu



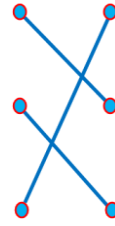
Hava yolu



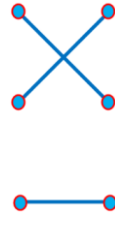
Demir yolu

Yukarıda verilen ulaşım araçları ve türleri hangi seçenekte doğru eşleştirilmiştir?

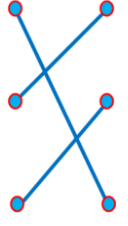
A)



B)



C)



25)

MİLLİ BAYRAMLAR

TARİH	BAYRAM
30 Ağustos	Zafer Bayramı
▲	Cumhuriyet Bayramı
23 Nisan	Ulusal Egemenlik ve Çocuk Bayramı
★	Atatürk'ü Anma Gençlik ve Spor Bayramı

Milli bayramlarla ilgili şemada eksik bırakılan kısımlara hangi tarihler gelmelidir?

A) ▲ 19 Mayıs

B) ▲ 29 Mayıs

★ 29 Ekim

★ 19 Ekim

C) ▲ 29 Ekim

★ 19 Mayıs

26)

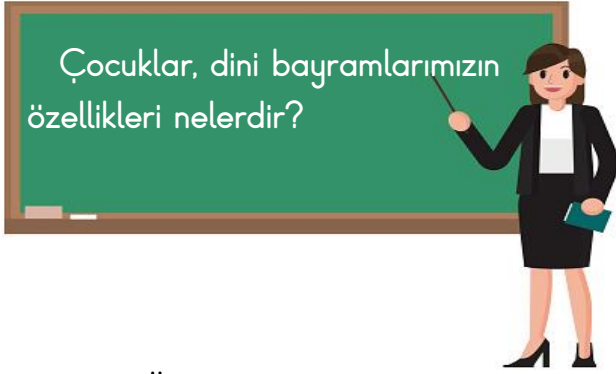


Yurdumuzu düşmanlardan temizleyerek, Kurtuluş Savaşı'nı kazandığımız günü anmak için her yıl kutladığımız bayramdır.

Mustafa'nın açıklamasını yaptığı **milli bayramımız** aşağıdakilerden hangisidir?

- A) Zafer Bayramı
- B) Cumhuriyet Bayramı
- C) Ulusal Egemenlik ve Çocuk Bayramı

27)



Çocuklar, dini bayramlarımızın özellikleri nelerdir?

Gülsüm Öğretmen'in sorusuna aşağıdaki öğrencilerden hangisi **yanlış** cevap vermiştir?

A)



Bayramlıklarımızı giyer, büyüklerimizin elini öperiz.

B)



Akrabalarımızı ve komşularımızı ziyaret ederiz.

C)



Okulları süsler, törenler düzenler, marşlar söyleriz.

28)



Reyhan, **kültürel miras** öğelerimizin olduğu görsellerle ilgili bir poster hazırlayacaktır. Reyhan'ın aşağıda verilen hangi görseli kullanması **uygun** olmaz?

A)



B)



C)



29)

Bir toplumda çok eskilerden kalmış olmaları dolayısıyla saygın tutulup kuşaktan kuşağa aktarılan, yaptırım gücü olan kültürel kalıntılar, alışkanlıklar, bilgi, töre ve davranışlara **gelenek** denir. Bu bilgiye göre aşağıdakilerden hangisi **gelenektir**?

A)



B)



C)



30)

Ülkemizde yaşayan **farklı kültürdeki** insanlara nasıl yardımcı olabiliriz?

- A) Onları dışlayıp yanımıza almayarak
- B) Onları ülkemizde istemeyerek
- C) Farklılıklara saygı duyup alışma süreçlerini destekleyerek

Cevap Anahtarı

1)C 2)B 3)C 4)B 5)A 6)C 7)A 8)B 9)A 10)B

11)C 12)C 13)A 14)B 15)A 16)A 17)C 18)B 19)B 20)A

21)A 22)B 23)C 24)A 25)C 26)A 27)C 28)B 29)B 30)C