



*Kutlu Olsun*

Dün sabah anneciğim  
Öperek dedi: Uyan  
Bugün senin bayramın,

Kalk, bak süslendi her yan.  
Baktım her taraf süslü,  
Sokaklar dolu insan.

Dedim: Anne bu neden?  
Dedi: 23 Nisan.

Temel bayrammış, inan  
Kutlu olsun kardeşim  
Geldi 23 Nisan.

R.Gökalp ARKIN

(1-4. soruları metne göre cevaplayınız.)

- 1) Annesi çocuğu nasıl uyandırmıştır?
- A) Başını okşayarak uyandırmıştır.  
B) Elini tutarak uyandırmıştır.  
C) Öperek uyandırmıştır.

- 2) ▲ Çocuğun şiir okuması  
■ Her tarafın süslenmesi  
● Okulda tören yapılması  
◆ Sokakların insanla dolu olması

Yukarıdaki olaylardan hangisi veya hangileri metinde geçmektedir?

- A) Yalnız ▲ B) ▲ ve ●  
C) ■ ve ◆

- 3) Metin ile ilgili verilen bilgilerden hangisi yanlıştır?

- A) Bilgilendirici bir metindir.  
B) Metnin türü şiirdir.  
C) Şairi R.Gökalp Arkın'dır.

- 4) Aşağıdakilerden hangisi metin için uygun bir başlık olabilir?

- A) Çocuk Bayramı  
B) Çocuk ve Annesi  
C) Çocuğun Rüyası

- 5) Atasözleri ile ilgili verilen ifadelerden hangisi yanlıştır?

- A) Kimin söylediği bellidir.  
B) Söylendiği zaman belli değildir.  
C) Öğüt verici sözlerdir.

6)



Benim babam öğretmen. Büyüyünce ben de öğretmen olmak istiyorum.

Celil'in anlattığı duruma en iyi açıklayan atasözü hangisidir?

- A) Besle kargayı, oysun gözünü.
- B) Körle yatan şaş kalkar.
- C) Armut dibine düşer.

7) ▲ Ağız kulaklarına varmak

■ Dilinde tüy bitmek

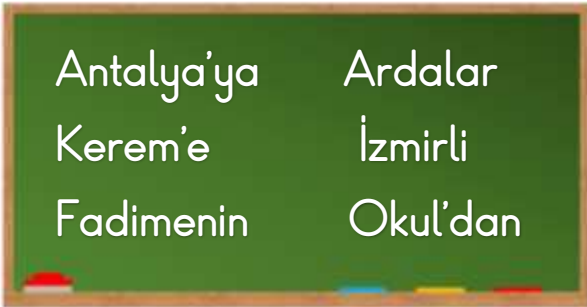
● Etekleri zil çalmak

◆ Kulak asmamak

Yukarıdaki deyimlerden hangi ikisi aynı anlamı taşımaktadır?

- A) ▲ ve ●
- B) ■ ve ◆
- C) ▲ ve ◆

8)



Tahtadaki isimlerden kaç tanesinin yazılışı doğrudur?

- A) 3
- B) 4
- C) 5

9)



'Mi' ekinin soru anlamı taşımadığı yere gideceğim.



Bu top senin mi



Maça gelecek misin



Miraç geldi mi görmedim

Yukarıda verilenlere göre hangi çıkarıma ulaşılabilir?

- A) Eymen, okul bahçesinde basketbol oynayacak olabilir.
- B) Maçta yorulan Eymen, eve gidip dinlenecek olabilir.
- C) Eymen, basketbol oynarken küçük bir kaza geçirmiş olabilir.

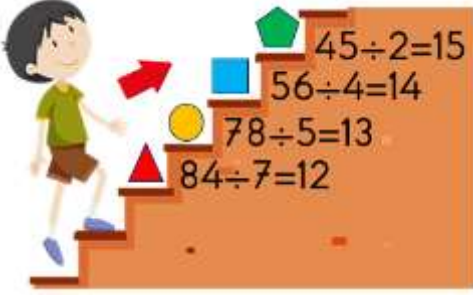
10) Babası sordu ( )

( )Yarın nereye gidelim( )

Yukarıdaki cümlede ( ) ile belirtilen yerlere sırası ile hangi noktalama işaretleri gelmelidir?

- A) (,)(-)(?)
- B) (:)(-)(?)
- C) (:)(-)(!)

11)



Kerem, bölme işlemlerinden sonucu doğru olanların bulunduğu basamaklara basarak yukarıya çıkacaktır.

Kerem hangi şekillerin bulunduğu basamaklara basmalıdır?

A) ▲ ve ● B) ▲ ve ■ C) ● ve ⬠

12)

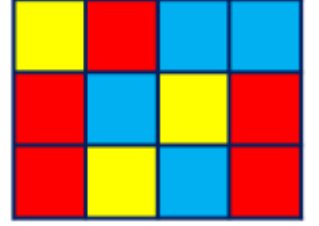


Tarlamdan topladığım 72 kg havucu 3'er kg'lık paketlere koydum.

Havucun paketini 5 liradan satan Celil amca, tüm havuçları sattığında kaç lira kazanmış olur?

A) 120 B) 216 C) 360

13) Yandaki şekilde Fatih'in misketlerinin renkleri kesir olarak verilmiştir.



Fatih'in misketleri ile ilgili verilen ifadelerden hangisi doğrudur?

- A) Misketlerin  $\frac{3}{12}$ 'ü sarı renklidir.  
 B) Misketlerin yarısı mavi renklidir.  
 C) En az kırmızı renkli misket vardır.

14) Ahmet 48 TL pa-

rasının  $\frac{1}{4}$ 'ü ile ka-



lemlik, kalan parasının  $\frac{1}{3}$ 'ü ile sözlük aldı.

Ahmet'in geriye kaç lirası kalmıştır?

A) 20 B) 24 C) 28

15) Hangisi yandaki saatin okunuşlarından biri değildir?



- A) Üçü çeyrek geçiyor.  
 B) Dörde on beş var.  
 C) Üçü kırk beş geçiyor.

16)



Saat 09.30'da Antalya'dan yola çıkan otobüs 4 saat sonra mola vermiştir. Yarım saatlik moladan sonra 4 saat daha giderek Ankara'ya ulaşmıştır.

Otobüs Ankara'ya ulaştığında saat kaç olmuştur?

A) 17.00 B) 17.30 C) 18.00

17)



Yukarıda Elif'in kumbarasından çıkan paralar verilmiştir.

200 liraya paten almak isteyen Elif'in kaç liraya ihtiyacı vardır?

A) 61 B) 87 C) 139

18) 5 kg muzun 45 lira olduğu bir manavdan 13 kg muz alan Miraç, satıcıya kaç lira ödemelidir?



A) 65 B) 117 C) 225

19)

Yüz				
Köşe				
Ayrıtlar				

Geometrik cisimlerle ilgili yukarıda verilen tablo hangi seçenekte doğru bir şekilde doldurulmuştur?

A)

6	2	5	0
6	0	6	0
8	2	9	0


B)

6	3	5	1
8	0	6	0
12	0	9	0

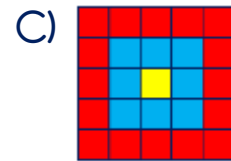
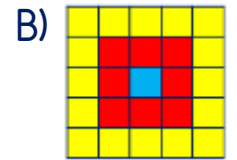
C)

6	3	5	1
8	0	6	0
8	2	9	0

20)



Yukarıdaki örüntünün bir sonraki adımı aşağıdakilerden hangisidir?



21)

Işık Kaynakları	
Doğal	Yapay
Güneş	El Feneri
Yıldızlar	Lamba
Ay	Mum
Ateş Böceği	Ayna
Mürekkep Balığı	Deniz Anası

Yukarıdaki tabloda doğru yere yazdığı her bir ışık kaynağı için 10 puan alan Nihat, toplam kaç puan almıştır?

- A) 60      B) 70      C) 80

22)



Sınıfta zil olmamasına rağmen Zeliha Öğretmen'in zili duymasının sebebi hangisidir?

- A) Sınıfın büyük olması  
B) Sesin yayılma özelliği  
C) Ses kaynağının yapay olması

23)




Eymen      Kayra      Celil

Yukarıdaki görsele göre iftar vakti atılan topun sesini en az ve en çok duyan çocuklar sırası ile hangi seçenekte verilmiştir?

- A) Eymen - Celil  
B) Celil - Eymen  
C) Eymen - Kayra

24) Aşağıdaki varlıklardan hangisinin çıkardığı ses işitme kaybına sebep olabilir?



25) Canlılar ile ilgili verilen ifadelerden hangisi yanlıştır?

- A) Bütün canlılar büyür ve gelişirler.  
B) Bütün canlılar doğurarak çoğalırlar.  
C) Bütün canlılar boşaltım yaparlar.

26)



Bir bitkinin yaşam döngüsünde yukarıdaki varlıklar hangi sıra ile gözlemlenebilir?

- A) 1 - 2 - 3  
B) 3 - 1 - 2  
C) 1 - 3 - 2

- 27) ( ) Canlı ve cansız varlıkların birlikte bulunduğu ortam çevredir.  
( ) İçinde yaşadığımız ortam bizim yakın çevremizdir.  
( ) Çevrenin temiz olmasından bütün canlılar sorumludur.  
( ) Çevre kirliliğinden tüm canlılar olumlu etkilenirler.

Yukarıdaki ifadelerden doğru olanların başına 'D', yanlış olanların başına 'Y' nasıl yazılmalıdır?

- A) (D)      B) (D)      C) (Y)  
(D)      (D)      (Y)  
(D)      (Y)      (D)  
(Y)      (Y)      (D)

28) Aşağıdaki görsellerden hangisinde doğal ve yapay çevre bir arada yer almaktadır?



29) *Bir bölgedeki doğal bitki örtüsünü ve orada yaşayan hayvanları koruma amacıyla devlet tarafından koruma altına alınmış bölgelere millî ..... denir."*

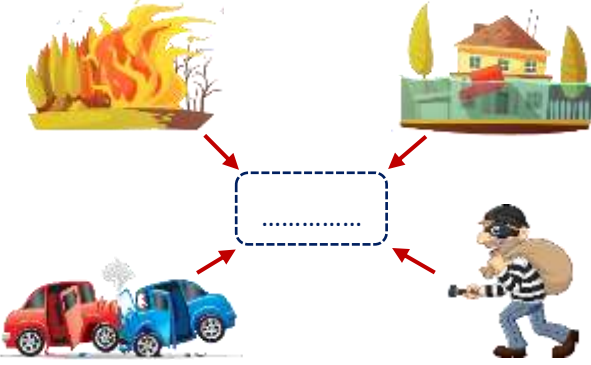
Yukarıdaki tanımda boş bırakılan yere hangi sözcük yazılmalıdır?

- A) anıt      B) servet      C) park

30) Aşağıdakilerden hangisi çevre kirliliğini önlemek için alınabilecek önlemlerden biri değildir?

- A) Atık yağları lavabolara dökmek  
B) Fabrikaların bacalarına filtre takmak.  
C) Yerlere çöp atmamak

31)



Yukarıdaki görsellerin arasına hangi numara yazılmalıdır?

A) 112      B) 122      C) 182

32)

Parkta tanımadığın biri sana şeker vermek istediğinde ne yaparsın?	
<input type="checkbox"/>	Teşekkür ederek alırım.
<input type="checkbox"/>	Aileme bilgi veririm.
<input type="checkbox"/>	Yüksek sesle bağırırım.
<input type="checkbox"/>	Park güvenliğine söylerim.

Yukarıdaki tablo doğru bir şekilde nasıl işaretlenmelidir?

A)

B)

C)

33) ▲ Çök-kapan-tutun uygulamak  
 ■ Eşyaları duvara sabitlemek  
 ● Deprem çantası hazırlamak

Deprem ile ilgili yukarıda verilen ifadelerden hangisinin zamanı yanlış belirtilmiştir?

A) ■ - Deprem öncesi  
 B) ▲ - Deprem esnasında  
 C) ● - Deprem sonrası

34)



Yukarıdaki çocuklardan hangileri oyun araçlarını güvenli bir şekilde kullanmamaktadır?

A) Ahmet, Celil ve Elif  
 B) Ahmet, Melek ve Zeynep  
 C) Melek ve Zeynep

35)



Geçen ay yayınlanan Cumhurbaşkanlığı Kararnâmesi ile ilçede göreve başladım.

Yukarıdaki yönetici hangisidir?

A) Muhtar    B) Kaymakam    C) Vali

- 36) ▲ Cumhuriyet bir yönetim şeklidir.  
■ Cumhuriyet yönetiminde halk yöneticilerini seçer.  
● Cumhuriyetle birlikte çocuklara seçme ve seçilme hakkı verildi.

Cumhuriyet ile ilgili verilen ifadelerden hangisi veya hangileri doğrudur?

- A) Yalnız ●  
B) ▲ ve ■  
C) Hepsi

- 37) Aşağıdaki tabloda ülkemizde bulunan tarihî, doğal ve turistik yerlerin buldukları şehirler işaretlenecektir.

	Denizli	Nevşehir	Konya	İstanbul
Mevlana Türbesi	1	2	3	4
Pamukkale	5	6	7	8
Ayasofya Camii	9	10	11	12
Peribacaları	13	14	15	16

Tabloda işaretlenmesi gereken kutucuklar hangi seçenekte doğru olarak verilmiştir?

- A) 2 - 5 - 12 - 15  
B) 3 - 5 - 12 - 14  
C) 3 - 8 - 9 - 13

38)



Ülkemize karşı olan sorumluluklarımızdan biri de .....

Hasan Öğretmen'in cümlesi hangi ifade ile tamamlanamaz?

- A) kanunlara uymaktır.  
B) kaynakları bilinçli kullanmaktır.  
C) çevreyi kirletmektir.

39)



Yukarıdaki alanlardan kaç tanesi ortak kullanım alanıdır?

- A) 4                      B) 5                      C) 6

- 40) Yandaki görsel millî birlik ve beraberliğimiz ile ilgili hangi güne aittir?



- A) Millî Birlik ve Demokrasi Günü  
B) Kurtuluş Savaşı  
C) Cumhuriyet Bayramı



## Cevap Anahtarı

1-C 2-C 3-A 4-A 5-A 6-C 7-A 8-B 9-C 10-B 11-B 12-A 13-A 14-B 15-A 16-C 17-A  
18-B 19-B 20-A 21-B 22-B 23-A 24-C 25-B 26-C 27-B 28-B 29-C 30-A 31-A  
32-C 33-C 34-A 35-B 36-B 37-B 38-C 39-B 40-A