



Aşağıdaki metni anlayana kadar okuyalım.

DENİZ FENERLERİ

Çok eski zamanlarda insanlar geceleri veya sisli havalarda deniz yolculuğu yaparken çeşitli sorunlar yaşıyorlarmış. Bazen yollarını kaybedebiliyor, bazen de tehlikeli bir kıyıyı fark edemedikleri için kazalar meydana gelebiliyormuş.



Gemilere yol göstermesi için ilk zamanlar kıyılara büyük ateşler yakmaya başlamışlar. Bu ateşleri yakınlardaki gemiler görebilirken uzaklardaki gemiler görmekte güçlük çekiyorlarmış. Bu duruma çözüm olarak üzerinde ateş yakmak için özel taş kuleler inşa etmişler. Daha sonra bu kulelere rüzgâr estikçe çalan çanlar yerleştirmişler. Böylelikle gemiler hem ışık hem de ses sayesinde yollarını bulmaya başlamışlar. Teknoloji ilerledikçe deniz fenerlerinde bir çok değişiklik olmuş. Ancak temel kavram olan bina hep aynı kalmış.



Aşağıdaki soruları metne göre cevaplayalım.



1 İnsanlar deniz yolculuğunda hangi sorunları yaşıyorlarmış?



2 İlk zamanlar gemilere yol göstermesi için ne yapmışlar?



3 Özel taş kulelere niçin ihtiyaç duymuşlar?



4 Kulelerdeki çanlar nasıl çalışıyormuş?



5 Teknolojinin ilerlemesine rağmen değişmeyen neymiş?



NOKTALAMA İŞARETLERİ-2

★ Noktalama işaretleri doğru olanlar için soldaki, yanlış olanlar için sağdaki harfi boyayarak şifreyi çözelim.

D	Y	İfade
P	K	Dün okula neden gelmedin.
I	A	Eyvah! Kalemim kayboldu.
S	R	Te-nef-füs
A	A	Yaşasın. Yarışmayı biz kazandık.
T	Ç	Elek-trik
İ	O	Oley, başardım!
Z	N	Ey Türk Gençliği!
E	G	Miraç-ın annesi bize geldi!
İ	R	Ankara'daki kuzenim hafta sonu beni aradı.

Gizli Sözcük



--	--	--	--

--	--	--	--	--

★ Cümlelerde yay ayraç ile belirtilen yerlere uygun noktalama işaretlerini koyalım.

Eyvah() yangın çıktı()

Eyvah() Yangın çıktı()

'Televizyon' sözcüğü te()le()viz()yon şeklinde hecelenir()

Ceylin()in kırmızı kalemını kim aldı()



Ayy() çok korktum()

Geçen hafta sınıf arkadaşlarımla İzmir()e geziye gittik() Sa()
bah saat 08()00()de yola çıktık()



GEOMETRİK ŞEKİLLER

★ Aşağıdaki geometrik şekillerin isimlerini altlarına yazalım.





.....

.....

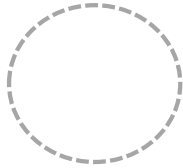
.....

.....

★ Aşağıdaki geometrik şekillerin köşelerini işaretleyerek köşe sayılarını altlarına yazalım.



★ Aşağıdaki geometrik şekillerin kenarlarını farklı renklerde boyayarak kenar sayılarını altlarına yazalım.





★ Geometrik şekilleri ilgili kutucuklarla eşleştirelim.

Köşesiz

3 Köşeli

4 Köşeli



Kenarsız

3 Kenarlı

4 Kenarlı



GEOMETRİK ŞEKİLLER


★ Aşağıdaki geometrik şekillerle ilgili istenen bilgileri yazalım.



Adı :

Köşe Sayısı :


Kenar Sayısı :



Adı :

Köşe Sayısı :

Kenar Sayısı :



Adı :

Köşe Sayısı :

Kenar Sayısı :

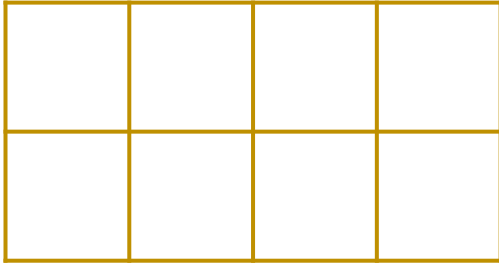


Adı :

Köşe Sayısı :

Kenar Sayısı :

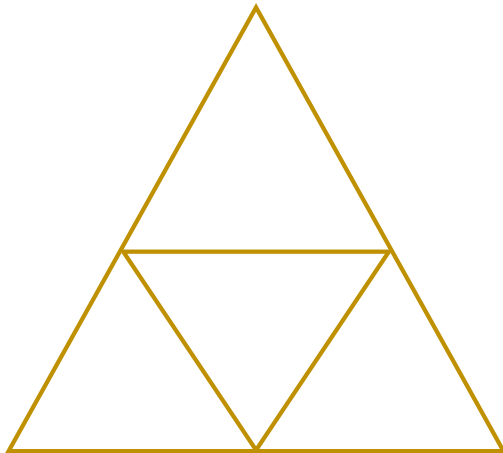
★ Aşağıdaki şekillerde bulunan geometrik şekil sayılarını yazalım.




..... tane kare var.



..... tane çember var.



..... tane üçgen var.




..... tane dikdörtgen var.



GEOMETRİK ŞEKİLLER


★ Aşağıdaki görsellerde bulunan geometrik şekil sayılarını yazalım.



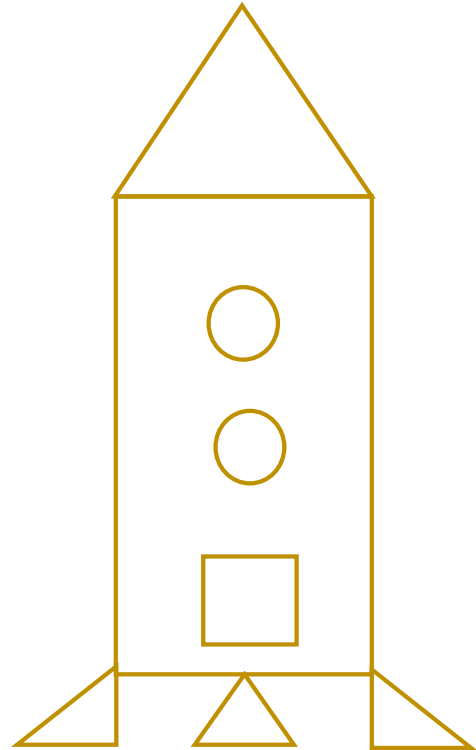
Kare : Çember :
Üçgen : Dikdörtgen :



Kare : Çember :
Üçgen : Dikdörtgen :



Kare : Çember :
Üçgen : Dikdörtgen :




Kare : Çember :
Üçgen : Dikdörtgen :



GEOMETRİK ŞEKİLLER

★ Aşağıdaki izometrik kağıtta aynı renkli noktaları birleştirerek geometrik şekiller oluşturalım.



★ İzometrik kağıda geometrik şekiller oluşturalım.





MİLLÎ GÜN VE BAYRAMLARIMIZ

★ Aşağıdaki ifadelerden doğru olanlar için soldaki, yanlış olanlar için sağdaki harfi boyayarak şifreyi çözelim.

D	Y	İfade
D	A	Milli bayramlarımız üç tanedir.
F	İ	Millî bayramları millet olarak kutlarız.
K	E	Millî bayramlarda el öperek harçlık toplarız.
K	R	Kurban Bayramı millî bayramlarımızdan biridir.
İ	A	Millî bayramlarda okullarımızda tören yaparız.
T	N	30 Ağustos Zafer Bayramı millî bayramımızdır.

Gizli Sözcük



--	--	--	--	--	--	--	--

★ Aşağıdaki tarihlerde kutlanan milli bayramlarımızın isimlerini yazalım.

23 Nisan

19 Mayıs

30 Ağustos

29 Ekim

★ Bir arkadaşımıza çocuk bayramını kutlamak üzere tebrik kartı yazalım. Kartımıza bir de resim çizelim.

.....
.....
.....
.....
.....



EĞLENCE ZAMANI

★ Aşağıdaki gemiler sisli bir havada yollarını kaybetmişler. Gemileri deniz fenerlerine ulaştırarak yardım edelim.

