



Aşağıdaki metni anlayana kadar okuyalım.

DENİZ FENERLERİ

Çok eski zamanlarda insanlar geceleri veya sisli havalarda deniz yolculuğu yaparken çeşitli sorunlar yaşıyorlarmış. Bazen yollarını kaybedebiliyor, bazen de tehlikeli bir kıyıyı fark edemedikleri için kazalar meydana gelebiliyormuş.



Gemilere yol göstermesi için ilk zamanlar kıyılara büyük ateşler yakmaya başlamışlar. Bu ateşleri yakınlardaki gemiler görebilirken uzaklardaki gemiler görmekte güçlük çekiyorlarmış. Bu duruma çözüm olarak üzerinde ateş yakmak için özel taş kuleler inşa etmişler. Daha sonra bu kulelere rüzgâr estikçe çalan çanlar yerleştirmişler. Böylelikle gemiler hem ışık hem de ses sayesinde yollarını bulmaya başlamışlar. Teknoloji ilerledikçe deniz fenerlerinde bir çok değişiklik olmuş. Ancak temel kavram olan bina hep aynı kalmış.



Aşağıdaki soruları metne göre cevaplayalım.



1 İnsanlar deniz yolculuğunda hangi sorunları yaşıyorlarmış?



2 İlk zamanlar gemilere yol göstermesi için ne yapmışlar?



3 Özel taş kulelere niçin ihtiyaç duymuşlar?



4 Kulelerdeki çanlar nasıl çalışıyormuş?



5 Teknolojinin ilerlemesine rağmen değişmeyen neymiş?



NOKTALAMA İŞARETLERİ-2

★ Noktalama işaretleri doğru olanlar için soldaki, yanlış olanlar için sağdaki harfi boyayarak şifreyi çözelim.

D	Y	İfade
P	K	Dün okula neden gelmedin.
I	A	Eyvah! Kalemim kayboldu.
S	R	Te-nef-füs
A	A	Yaşasın. Yarışmayı biz kazandık.
T	Ç	Elek-trik
İ	O	Oley, başardım!
Z	N	Ey Türk Gençliği!
E	G	Miraç-ın annesi bize geldi!
İ	R	Ankara'daki kuzenim hafta sonu beni aradı.

Gizli Sözcük



--	--	--	--

--	--	--	--

★ Cümlelerde yay ayraç ile belirtilen yerlere uygun noktalama işaretlerini koyalım.

Eyvah() yangın çıktı()

Eyvah() Yangın çıktı()

'Televizyon' sözcüğü te()le()viz()yon şeklinde hecelenir()

Ceylin()in kırmızı kalemını kim aldı()

Ayy() çok korktum()

Geçen hafta sınıf arkadaşlarımla İzmir()e geziye gittik() Sa()bah saat 08()00()de yola çıktık()



2. SINIF HAFTA SONU ETKİNLİKLERİ

31-32.Hafta (5-13 Mayıs)



VERİ TOPLAMA VE DEĞERLENDİRME-İ

★ Aşağıdaki verilere uygun olarak çetele ve sıklık tabloları oluşturalım.

Veri: Sınıfımızdan 5 kişi futbol, 4 kişi voleybol, 6 kişi basketbol ve 3 kişi de masa tenisi oynamayı seviyor.

Tablo: Sevilen Oyunlar Çetele Tablosu

Sevilen Oyun	Öğrenci Sayısı
Futbol	
Voleybol	
Basketbol	
Masa Tenisi	

Tablo: Sevilen Oyunlar Sıklık Tablosu

Sevilen Oyun	Öğrenci Sayısı
Futbol	
Voleybol	
Basketbol	
Masa Tenisi	

Veri: Bahçemizde 10 tane elma, 7 tane armut, 12 tane portakal ve 9 tane kiraz ağacı vardır.

Tablo: Bahçedeki Ağaçlar Çetele Tablosu

Ağaç Türü	Ağaç Sayısı
Elma	
Armut	
Portakal	
Kiraz	

Tablo: Bahçedeki Ağaçlar Sıklık Tablosu

Ağaç Türü	Ağaç Sayısı
Elma	
Armut	
Portakal	
Kiraz	

Veri: Çiftliğimizin kümesinde 8 tavuk, 2 horoz, 14 civciv ve 6 hindi vardır.

Tablo: Kümesteki Hayvanlar Çetele Tablosu

Hayvan Türü	Hayvan Sayısı
Tavuk	
Horoz	
Civciv	
Hindi	

Tablo: Kümesteki Hayvanlar Sıklık Tablosu

Hayvan Oyun	Hayvan Sayısı
Tavuk	
Horoz	
Civciv	
Hindi	



VERİ TOPLAMA VE DEĞERLENDİRME-2

★ Aşağıdaki nesne grafiğine uygun olarak çetele ve sıklık tablosu oluşturalım.

Veri: Şubat tatilinde Elif 6, Kayra 3, Melek 5 ve İlayda 8 kitap okumuştur.

Grafik: Ok. Kit. Say. Nesne G.

Öğrenci	Kitap Sayısı
Elif	
Kayra	
Melek	
İlayda	

Tablo: Ok. Kit. Say. Çet. T.

Öğrenci	Kitap Sayısı
Elif	
Kayra	
Melek	
İlayda	

Tablo: Ok. Kit. Say. Sıklık T.

Öğrenci	Kitap Sayısı
Elif	
Kayra	
Melek	
İlayda	

★ Aşağıdaki nesne grafiğine uygun olarak çetele ve sıklık tablosu oluşturarak soruları cevaplayalım.

Grafik: Besl. Hayv. Nes. G.

Hayvan	Öğrenci Sayısı
Kedi	
Köpek	
Kuş	
Balık	

Tablo: Besl. Hayv. Çet. T.

Hayvan	Öğrenci Sayısı
Kedi	
Köpek	
Kuş	
Balık	

Tablo: Besl. Hayv. Sıklık T.

Hayvan	Öğrenci Sayısı
Kedi	
Köpek	
Kuş	
Balık	

Kaç öğrenci kedi beslemektedir?

Kaç öğrenci kuş beslemektedir?

En çok hangi hayvan beslenmektedir?

En az hangi hayvan beslenmektedir?

Sınıf mevcudu kaçtır?



VERİ TOPLAMA VE DEĞERLENDİRME-3

★ Aşağıdaki şekil grafiğinde bir çiftlikte bulunan hayvan sayıları verilmiştir. Soruları grafiğe göre cevaplayalım.

Grafik: Hayvan Sayıları Şekil Grafiği

Hayvan Türü	Hayvan Sayısı
	☆☆☆
	☆☆
	☆☆☆☆
	☆☆☆☆☆

Not: Her şekil 2 hayvanı gösterir.

Kaç tane at vardır?

Kaç tane eşek vardır?





Kaç tane inek vardır?

Kaç tane keçi vardır?

Çiftlikte toplam kaç tane hayvan vardır?

★ Aşağıdaki şekil grafiğinde bir otoparkta bulunan araç sayıları verilmiştir. Soruları grafiğe göre cevaplayalım.

Grafik: Araç Sayıları Şekil Grafiği

Araç Türü	Araç Sayısı
	♥♥♥♥♥
	♥
	♥♥♥
	♥♥♥

Not: Her şekil 3 aracı gösterir.

Otoparkta kaç tane motosiklet vardır?

Otoparkta en çok hangi araçtan vardır?

Otoparkta en az hangi araçtan vardır?

Otoparkta toplam kaç tane araç vardır?















BİTKİLER VE HAYVANLAR

★ Tabloda bitkilerin ve hayvanların yaşamlarını sürdürebilmek için ihtiyaç duyduklarını örnekteki gibi işaretleyelim.

	Toprak	Su	Hava	Besin	Yuva
Bitkiler	✓				
Hayvanlar					

★ Tablodaki hayvanların besin türlerini işaretleyelim.

★ Aşağıdaki hayvanları yuvaları ile eşleştirelim.





BİTKİ YETİŞTİRME VE HAYVAN BESLEME

★ Canlıların yaşamlarını sürdürebilmek için nelere ihtiyaç duyduklarını yazalım.

BİTKİLER



HAYVANLAR



★ Aşağıdaki ifadelerden **doğru** olanların kutusunu **yeşile**, **yanlış** olanların kutusunu **kırmızıya** boyayalım.

- Bitkiler olmazsa diğer canlılar da yaşayamazlar.
- Tüm hayvanlar sadece otla beslenirler.
- Bütün canlıların yaşaması için su gereklidir.
- Bitkiler soluduğumuz havayı temizler.
- Bazı hayvan türleri çevre kirliliğine sebep olurlar.
- Yediğimiz meyve ve sebzeler bitkidirler.
- Bazı hayvanlar hem et hem de ot yiyerek beslenirler.
- Bitkiler sadece insanlar için besin kaynağıdır.
- Bitki ve hayvanlar doğaya zarar vermezler.
- Bitkiler aynı zamanda çevreyi güzelleştirirler.
- Doğanın dengesi için bitkiler ve hayvanlar önemlidir.



2. SINIF HAFTA SONU ETKİNLİKLERİ

31-32.Hafta (5-13 Mayıs)



EĞLENCE ZAMANI

★ Aşağıdaki gemiler sisli bir havada yollarını kaybetmişler. Gemileri deniz fenerlerine ulaştırarak yardım edelim.

