



## NOKTALAMA İŞARETLERİ

\* Aşağıdaki cümleler belirtilen yerlere doğru noktalama işaretlerini koyalım.



Hasan ( ) Melih ( ) Ercan ve Yavuz parkta oynuyorlar ( )



Yaşasın ( ) Kaybolan kedimiz bulundu ( )



Arkadaşların bize gelecek mi ( )



Annem tabağa elma ( ) armut ve muz koydu ( )



Tatilde Nevşehir ( ) Konya ( ) Niğde ve Mersin'e gittik ( )



Eyvah ( ) annemi aramayı unuttum ( )



Dün sahura kim kaldırdı seni ( )



Ablam çatal ( ) kaşık ve bıçakları yıkadı ( )



Zavallı kedi ( ) Çok acıkmış ( )



Defterimi ( ) kitabımı ( ) kalemliğimi çantama koydum ( )



Rana ( ) annesine yardım etti mi ( )



Salı ( ) çarşamba ( ) perşembe günleri yüzme kursuna gidiyor ( )



Sarı ( ) kırmızı ve mavi renkli boyalarımı evde unutmuşum ( )



Of ( ) yine çok ödevim var ( )





## SEBEP SONUÇ CÜMLELERİ

\* Aşağıdaki cümlelerdeki sebep ve sonuç ifadelerini yazınız .

\* Dedem hasta olduğu için babam köye gitti.

Sebep: ..... Sonuç:.....

\* Yağmur yağmadığı için barajlarda sular azalmış.

Sebep: ..... Sonuç:.....

\* Kitap alamadı çünkü parasını kaybetmiş.

Sebep: ..... Sonuç:.....

\* Amcam gidince çok üzuldüm.

Sebep: ..... Sonuç:.....

\* Güneş çıkınca karlar eridi.

Sebep: ..... Sonuç:.....

\* Elektrikler gidince karanlıkta kaldık .

Sebep: ..... Sonuç:.....

\* Köpeği görünce kedi kaçtı.

Sebep: ..... Sonuç:.....

\* Problemi yapamadı çünkü çok zordu.

Sebep: ..... Sonuç:.....



## KİTAP EN İYİ DOSTTUR

Ekrem ile Hatice adında iki arkadaş varmış. Hatice, kitap okumayı çok severmiş. Boş zamanlarını sürekli masal değişik kitaplar okuyarak geçirirmiş. Hatice'nin arkadaşı Ekrem ise hiç kitap okumaz, boş zamanlarında tablet ya da bilgisayar başında oyun oynarmış. Bir gün Ekrem doğum gününü kutlamak için Hatice'yi ve diğer arkadaşlarını davet etmiş. Arkadaşları Ekrem'e oyuncak hediye etmiş. Hatice ise Ekrem'e bir hikaye kitabı almış. Nedense bu hediye Ekrem'in hiç ilgisini çekmemiş.

Ekrem, özellikle bilgisayarda oynadığı oyunları çok seviyormuş . Bir gün Ekrem'in bilgisayarını bozulmuş. Ekrem oynayacak oyun bulamadığı için çok sıkılmış. Odasında kendisine yeni bir oyuncak ararken Hatice'nin hediye ettiği hikaye kitabını bulmuş. Önce "bir iki sayfa okur, sonra da sokağa oynamaya giderim," demiş ama kitabı okudukça çok hoşuna gitmiş. Kitaptaki hikayelerin hepsi birbirinden güzelmiş.

Ekrem, okudukça yeni yeni şeyler öğreniyormuş. Kitabı bitirince "keşke daha önce bilgisayarda oyun oynamak ya da video izlemek yerine kitap okusaydım. Kitaplar oyunlardan daha güzel hem de çok eğlenceli. Bundan sonra ben de hep kitap okuyacağım," demiş.

Hatice de arkadaşı Ekrem'in kitap okumaya başladığını duyunca çok sevinmiş. Ona kendi kitaplarından ödünç vermiş. Bundan sonra Ekrem daha az video izleyip bilgisayar oyunu oynamış, kendisine yeni kitaplar almış ve vaktini boşa harcamamış.



|| Aşağıdaki soruları metne uygun bir şekilde cevaplayınız.

|| 1 . Hatice neyi çok severmiş?

|| .....

|| 2. Ekrem boş zamanlarında ne yaparmış?

|| .....

|| 3. Ekrem doğum gününü kutlamak için kimleri çağırmış?

|| .....

|| 4. Hatice Ekrem'e ne hediye etmiş?

|| .....

|| 5. Ekrem oyuncak ararken ne bulmuş?

|| .....

|| 6. Hatice niçin çok sevinmiş?

|| .....

## YAKIN ÇEVREMİZDE ÜRETİM

1. Etkinlik: Aşağıdaki faaliyetlerle görselleri rakamları kullanarak eşleştirelim.

1	Büyük baş hayvancılık	2	Mobilyacılık	3	Tavukçuluk
4	Arıcılık	5	Halıcılık	6	Tarım
7	Madencilik	8	Balıkçılık	9	Küçük baş hayvancılık



2. Etkinlik: Aşağıdaki bulmacada yurdumuzda üretimi yapılan ürünler verilmiştir. Bu ürünleri resimlerden faydalanarak bulalım ve boyayalım.

E	B	Ü	Z	Ü	M	İ	K	S
M	A	R	K	T	I	A	U	B
O	Ö	F	H	İ	A	K	M	S
B	E	Ç	A	Y	R	İ	A	T
İ	G	Z	V	E	A	L	Ş	O
L	E	Ö	L	R	S	İ	N	Z
Y	I	C	U	Y	Z	M	Ç	U
A	R	A	B	A	D	S	Ö	L
F	E	Y	I	Ü	C	V	B	O
T	Y	A	F	I	N	D	I	K
P	E	O	M	E	P	Z	O	U
S	R	İ	N	C	İ	R	Ö	M



## PARALARIMIZLA İLGİLİ PROBLEMLER

Kitap = 13 TL

Silgi = 4 TL

Kalemlik = 27 TL

Kalem=9 TL

Defter=6 TL



1. Sıla kalemlik ve kalem almış. İkisine kaç TL öder ?

Çözüm:



2. Can kitap ve defter almış. İkisine kaç TL öder ?

Çözüm:



3. Ela'nın 20 TL'si var. Bir tane kitap almış. Ela'nın kaç TL'si kalmıştır ?

Çözüm:



4. Barış kalem, silgi ve defter almış. Barış kaç TL öder ?

Çözüm:



5. Uğur'un 34 TL'si varmış. 7 tane silgi almış. Kaç TL'si kalmış ?

Çözüm:



6. Kalemliğin fiyatı kalemden kaç lira fazladır ?

Çözüm:



7. Ceren'in 40 TL'si vardı. 2 tane kitap aldı. Ceren'in kaç TL'si kaldı ?

Çözüm:



8. Caner'in 19 TL'si var. Kalemlik almak istiyor. Caner'in kaç TL'ye daha ihtiyacı vardır ?

Çözüm:



## PARALARIMIZLA İLGİLİ PROBLEMLER

Araba = 36 TL

Top = 14 TL

Bebek = 48 TL

Robot = 82 TL

Ördek = 25



1. Öznur'un 40 TL'si var. Bir tane ördek almış. Kaç TL'si kalmış ?

Çözüm:



5. Umut bir tane robot almış. Satıcıya 90 TL vermiş. Kaç TL para üstü alır ?

Çözüm:



2. Kemal'in 28 lirası var. Araba almak istiyor. Kemal'in kaç TL'ye daha ihtiyacı var ?

Çözüm:



6. Banu bebek ve ördek almış. Satıcıya 90 TL vermiş. Kaç TL para üstü alır ?

Çözüm:



3. Arda bir araba ve bir top almış. Satıcıya kaç TL öder ?

Çözüm:



7. Berk top ve ördek almış. Berk kaç TL öder ?

Çözüm:



4. Yeliz'in 60 TL'si var. Bir tane bebek almış. Yeliz'in kaç TL'si kalır ?

Çözüm:



8. Amcam 2 tane top almış. Satıcıya 50 TL vermiş. Kaç TL para üstü alır ?

Çözüm:



## PARALARIMIZLA İLGİLİ PROBLEMLER

Elbise = 76 TL



Şapka = 18 TL



Tişört = 29 TL



Çorap = 5 TL



Etek = 45 TL



1. Hakan'ın 30 TL'si vardı. Bir şapka ve bir çorap aldı. Kaç TL'si kalmıştır ?

Çözüm:



2. Selin'in 59 TL'si var. Selin elbise almak istiyor. Selin'in kaç TL daha biriktirmesi gerekiyor ?

Çözüm:



3. Babam 5 tane çorap almış. Satıcıya 40 TL vermiş. Kaç TL para üstü alır ?

Çözüm:



4. Aslı kumbarasında biriktirdiği 60 TL'ye etek almış. Kaç TL'si kalmıştır ?

Çözüm:



5. Ümit tişört ve şapka almış. Ümit ikisine kaç TL ödemiştir ?

Çözüm:



6. Gürkan 2 tane şapka almış. Satıcıya 50 TL vermiş. Gürkan kaç TL para üstü almıştır ?

Çözüm:



7. Taner şapka, tişört ve çorap almış. Taner aldıklarına kaç TL ödemiştir ?

Çözüm:



8. Pelin elbise alınca 14 TL'si kalmış. Elbiseyi almadan önce Pelin'in kaç TL'si vardı?

Çözüm:



## VERİ TOPLAMA VE DEĞERLENDİRME

1. Etkinlik: Kemaller'in bahçesinde 3 tane elma, 4 tane kayısı ve 2 tane kiraz ağacı varmış.

Yukarıdaki verileri kullanarak çetele ve sıklık tablosu oluşturalım. Tablolardan faydalanarak şekil grafiği oluşturalım.

### ÇETELE TABLOSU


Tablo: .....


### SIKLIK TABLOSU

Tablo: .....


### GRAFİK

Grafik: .....



Grafikte her ..... ağacı göstermektedir.

2. Etkinlik: Kutuda 4 tane sarı, 7 tane kırmızı, 5 tane mavi boncuk var.

Yukarıdaki verileri kullanarak çetele ve sıklık tablosu oluşturalım. Tablolardan faydalanarak şekil grafiği oluşturalım.

### ÇETELE TABLOSU


Tablo: .....


### SIKLIK TABLOSU

Tablo: .....


### GRAFİK

Grafik: .....



Grafikte her ..... boncuğu göstermektedir.



## VERİ TOPLAMA VE DEĞERLENDİRME

1. Etkinlik: Sepette 6 tane elma , 3 tane muz ve 4 tane armut var .

Yukarıdaki verileri kullanarak çetele ve sıklık tablosu oluşturalım. Tablolardan faydalanarak şekil grafiği oluşturalım.

### ÇETELE TABLOSU


Tablo: .....


### SIKLIK TABLOSU

Tablo: .....


### GRAFİK

Grafik: .....



Grafikte her ..... meyveyi göstermektedir.

2. Etkinlik: Kümeste 6 tane hindi, 10 tane tavuk ve 4 tane horoz var.

Yukarıdaki verileri kullanarak çetele ve sıklık tablosu oluşturalım. Tablolardan faydalanarak şekil grafiği oluşturalım.

### ÇETELE TABLOSU

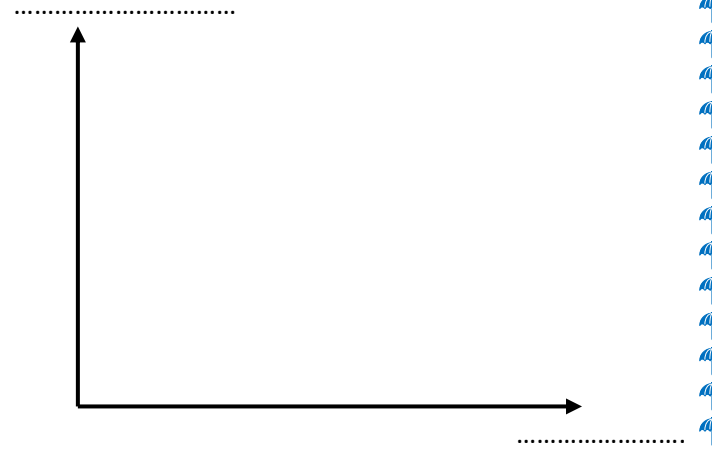
Tablo: .....


### SIKLIK TABLOSU

Tablo: .....


### GRAFİK

Grafik: .....



Grafikte her ..... hayvanı göstermektedir.