



EŞ SESLİ KELİMELER

🌸 Aşağıda verilen kelimeler arasındaki eş sesli kelimeyi işaretleyelim. Bulduğunuz kelime-
iki farklı anlamda olacak şekilde iki cümle kurunuz.

 ev ben ıslak çay su nehir bahçe saksı gül ağaç dal çiçek toprak soğuk dolu yol çukur ateş

.....
.....



.....
.....

.....
.....



.....
.....

.....
.....



.....
.....



NOKTALAMA İŞARETLERİ

☀ Aşağıdaki cümlelerde yapılan noktalama işaretlerini düzelterek cümleleri doğru bir şekilde yazalım.



Seymenler Parkında hızlı adımlarla yürüdük !

.....



Türk Tarih Kurumu'nda çalışan dayım bana kitap getirdi.

.....



Teyzem'in kızı Zeynep'e bisiklet alınmış.

.....



Adana'lı komşumuz mu kaza yapmış.

.....



Lütfen Mavişe yardım edin.

.....



Annem ablam'a renkli mi renkli bir elbise almış.

.....



Taner Bey İngilizce ve Fransızca'yı çok güzel konuşuyor.

.....



Hey , buraya girmek yasak.

.....



Elif , Gaysiz pikniğe gitmez mi.

.....



DÜRÜST ODUNCU

Evvel zaman içinde bir ormanın kenarında küçük bir köy varmış. Bu köyün erkekleri ormandan kestikleri odunları satarak geçimlerini sağlarlarmış. Bu odunculardan birisi, köyün en dürüst oduncusu imiş. Hiç yalan söylemez, helalinden kazanmak istermiş. Sattığı odunlardan kazandığı parayla pazardan ailesinin bir haftalık ihtiyacını almış.

Bir gün, bu dürüst oduncu odun kesmeye ormana gitmiş. Baltasını bir ağacın dibine bırakıp başlamış kesebileceği bir ağaç aramaya. Sonunda kesecek kurumuş bir ağaç bulmuş. Dürüst oduncu hep kurumuş ağaçları ve dalları kesermiş. Sonra baltasını bıraktığı yere gitmiş. Ancak baltasını bıraktığı yerde bulamamış. Sağa bakmış yok, sola bakmış yok. Baltasını bulamayan oduncu ağlamaya başlamış. "Ben şimdi ne yaparım ne ederim. Baltam olmadan nasıl odun keser para kazanırım," diyerek gözyaşı dökmüş.

Oduncunun halini gören sihirli bir kuş, oduncunun haline acımış. Hemencecik altından bir baltayı oduncunun yanına göndermiş. Oduncu "Benim baltam altından değildi," diyerek baltayı almamış. Sihirli kuş bu sefer gümüşten bir baltayı oduncunun yanına göndermiş. Oduncu "Benim baltam gümüşten de değildi," diyerek gümüş baltayı da almamış.

Sihirli kuş bu kez de oduncunun kendi baltasını göndermiş. Oduncu kendi ağaç saplı demirden baltasını görünce sevinmiş. "İşte benim baltam bul," diyerek baltasını omzuna atmış. Sihirli kuş oduncunun dürüstlüğü karşısında memnun kalmış. Oduncuya hem altın, hem gümüş baltayı hediye etmiş.



Aşağıdaki soruları metne uygun bir şekilde cevaplayınız.

1. Köyün erkekleri geçimlerini nasıl sağlarlarmış?

.....

2. Dürüst oduncu nasıl biriymiş?

.....

3. Dürüst oduncu kazandığı parayla ne yaparmış?

.....

4. Dürüst oduncu baltasını nereye bırakmış?

.....

5. Oduncu niçin ağlamış ?

.....

6. Sihirli kuş altın ve gümüş baltayı oduncuya niçin hediye etmiş?

.....



ATATÜRK'ÜN KİŞİLİK ÖZELLİKLERİ

Atatürk'ün kişisel özelliklerini işaretleyiniz.

Atatürk vatanını ve milletini severdi.

Atatürk çok çalıştı.

Atatürk çocukları çok sevdi.

Atatürk başkalarının fikrine önem verirdi.

Atatürk büyük bir liderdi.

Atatürk sadece kendi bildiklerini yapardı.

Atatürk işlerinde çok sabırsızdı.

Atatürk işlerini planlayarak yapardı.

Atatürk Türk milletinden başka milletleri sevmezdi.

Atatürk güçlükler karşısında çabuk pes ederdi.



Mustafa Kemal Atatürk düşman ordusunu İstanbul'da görünce "Geldikleri gibi giderler." demiş.

Yukarıda Atatürk'ün söylediği bu sözle hangi kişisel özellikleri ortaya çıkmaktadır? Yazalım.

.....
.....
.....



ELEKTRİKLİ ARAÇ VE GEREÇLERİ TANIYALIM

⚙️ Aşağıda verilen eşyalardan ısınma amacıyla kullanılanlara "I", aydınlatma amacıyla kullanılanlara "A", ev araç gereçlerine "E" harfini yazalım.



....



....



....



....



....



....



....



....



....



....



....



....



....



....



....



....



....



....



....



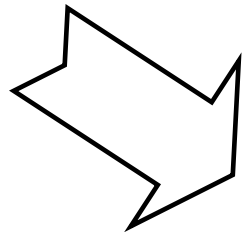

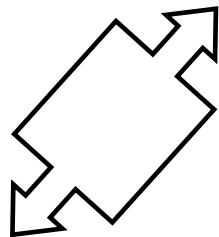

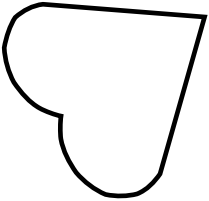
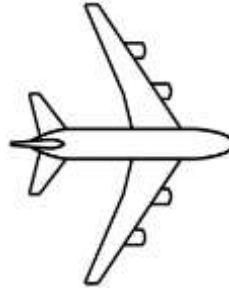

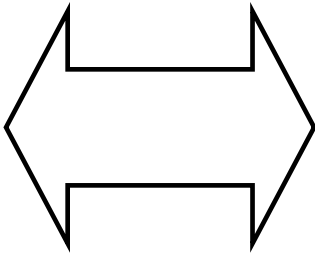
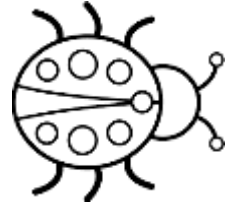
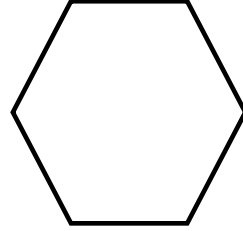
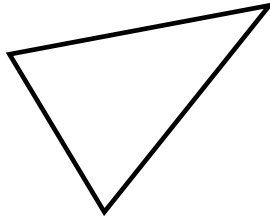



....



SİMETRİ DOĞRULARINI BELİRLEYELİM



Aşağıdaki şekillerin ve görsellerin simetri doğrularını çizelim.

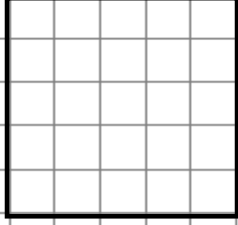


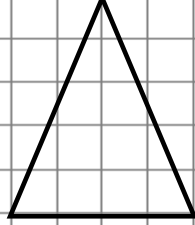


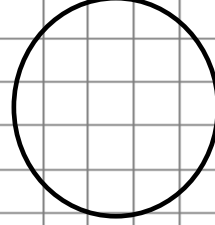
SİMETRİ DOĞRULARINI BELİRLEYELİM

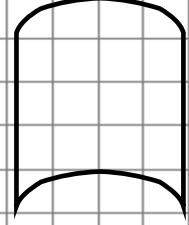


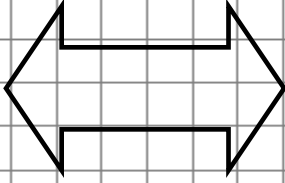
Aşağıdaki şekillere kaç tane simetri doğrusu çizilebilir? Tablodan sayılarla eşleştirelim.

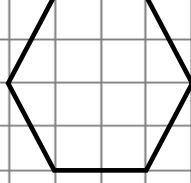


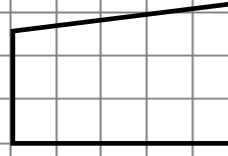








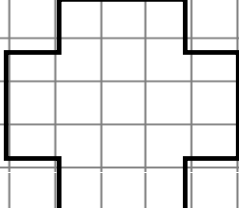


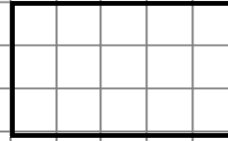


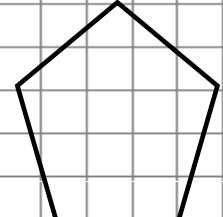


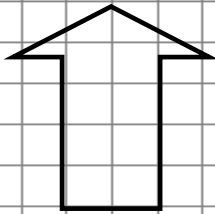


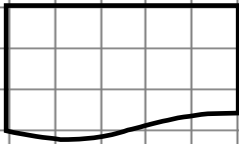


















A	B	C	Ç	D	E	F	G
0	1	6	4	5	1	0	2
Ğ	H	I	İ	J	K	L	M
sayısız	0	1	2	4	1	2	1



SİMETRİ DOĞRULARINI BELİRLEYELİM



Aşağıdaki şekilleri simetri doğrularına göre tamamlayınız.

