



GEOMETRİK CİSİMLER 1

1-)



Aşağıdaki verilen geometrik cisimlerin adlarını altına yazınız.



2-)



Aşağıdaki açıklamaların hangi geometrik cisme ait olduğunu eşleştiriniz.

İki yüzüm var. 1 yüzüm düz diğer yüzüm eğridir.

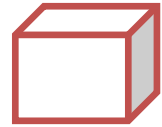
8 köşem var. Birbirine eşit kare şeklinde 6 düz yüzüm var.

Köşem yoktur. 1 eğri yüzüm var.

8 köşem var. Yüzeylerim düzdür. 6 yüzüm var. Yüzeylerim dikdörtgen şeklindedir.

6 köşem var. Yüzeylerim düzdür. 5 yüzeyimin 2 tanesi üçgen, 3 tanesi dikdörtgen şeklindedir.

Köşem yoktur. 3 yüzüm var. 1 yüzüm eğridir, diğer 2 yüzüm düz ve daire şeklindedir.



GEOMETRİK CİSİMLER 2

1-)



Aşağıdaki verilen geometrik cisimlerin adlarını yanına yazınız.

İki yüzüm var. 1 yüzüm düz diğer yüzüm eğridir.



.....

8 köşem var. Birbirine eit 6 eşit düz yüzüm var.



.....

Köşesi ve kenarı yoktur. 1 eğri yüzüm var.



.....

8 köşem var. Yüzeylerim düzdür. 6 yüzüm var.
Yüzeylerim dikdörtgen şeklindedir.



.....

6 köşem var. Yüzeylerim düzdür. 5 yüzeyimin 2
tanesi üçgen, 3 tanesi dikdörtgen şeklindedir.



.....

2-)



Aşağıdaki varlıkların altına, hangi geometrik cisme benzediğini yazınız.

