



GERÇEK VE HAYAL ÜRÜNÜ İFADELER

☀ Aşağıdaki cümlelerde gerçek ifadelerle "G" harfi , hayal ürünü ifadelerle "H" harfi yazalım.

... Balkona üç tane güvercin konmuş.

... Anneme doğum gününde çiçek aldım.

... Kuş sevinç içinde bir o yana bir bu yana uçuyordu.

... Tilki kümese girmek için plan yapıyordu.

... Bugün beş kasa elma topladık.

... Çiçekler dedemin anlattığı masalı dinlediler.

... Küçük çocuğun hikayesini dinleyen bulutlar ağlamaya başladı.

... Kapana yakalanan fare yardım istiyordu.

... Kedi büyük ağaca tırmandı.

... Tuğçe balkondaki çiçekleri suladı.

... Devler köylülerden yiyecek bir şeyler istediler.

... Çocuk uçan halıya binip ormana doğru gitti.

... Hasanlar tatil için hazırlık yapıyorlar.

... Ay uyumam için bana masal anlattı.

... Bir köylü pazarda yaptığı peynirleri satıyor.

... Mert'in kalemi çok yorulmuştu.





5 N 1 K SORULARI

☆ Verilen cevaplara ilişkin soruları yanına yazınız.

😊 Yaren hafta sonu köye gitmiş. Bahçe işlerinde dedesine yardım etmiş .



..... Köye gitmiş.

..... Hafta sonu gitmiş.

..... Dedesine yardım etmiş.

😊 Fatih bugün kütüphaneye gitmiş. Proje ödevini hazırlamış.

..... Fatih gitmiş.

..... Kütüphaneye gitmiş.

..... Proje ödevini hazırlamış.

😊 Gaye soğuk su içtiği için hastalanmış . Ateşi yükselince annesi şurup vermiş.

..... Soğuk su içtiği için hastalanmış.

..... Şurup vermiş.

..... Annesi vermiş.

😊 Umut ile arkadaşı parka gitmişler. Parkta doyasıya oyun oynamışlar.

..... Arkadaşı ile gitmiş.

..... Doyasıya oyun oynamışlar.

..... Parkta oynamışlar.

😊 Işıl fırından dört tane ekmek almış. Ekmeklere on lira ödemiş.

..... Fırından almış.

..... Dört tane almış.

..... On lira ödemiş.

😊 Ömer eve koşarak gitmiş. Çantasını odasına bırakmış. Banyoda elini ve yüzünü yıkamış.

..... Koşarak gitmiş.

..... Çantasını bırakmış.

..... Elini ve yüzünü yıkamış.



GAMZE VE ANNESİ

Gamze yedinci sınıfa giden, sınıfta arkadaşları tarafından çok sevilen bir öğrenciydi. Öğretmenleri de onu çok sever her zaman diğer arkadaşlarına onu örnek gösterirdi. Gamze de öğretmenlerini ve arkadaşlarını çok severdi. Ne olduysa o akşam oldu.

Dersi bitmiş eve gidiyordu. Sinirinden ne yapacağını şaşırmıştı. Aslında mizacı bu duruma hiç uygun olmasa da, sürekli pozitif bir insan da olsa sabrın bir sınırı vardı. Sınıf arkadaşı Özlem ona karşı içten içe bir kıskançlık duyuyordu. O gün Özlem Gamze'ye hiç iyi davranmadı. Gamze bu duruma sinirlenerek evin yolunu tuttu.

Gamze her gün eve yüzü gülerek girerdi. Ama o akşam yüzü gülmüyordu. Annesi belki de onu ilk defa böyle görüyordu. Annesine sarılmadan odasına gitti. Ne olduğunu sormak için annesi Gamze'nin odasına gitti. Annesi ona ne olduğunu sormaya kalmadan annesini tersledi, kızdı ve odasından çıkmasını söyledi. Atalar derler ya keskin sirke küpüne zarar diye. Siniri geçince annesine karşı davranışından dolayı çok üzüldü. Annesi ki onun için o kadar çok emek harcıyordu ki... Sebep her ne olursa olsun o bunu hak etmemişti. Yanına özür dilemek için gittiğinde annesi mutfakta babası ile konuşuyordu. Konuşmalarına kulak misafiri oldu. Annesi çok üzülüyordu. Yarının anneler günü olduğu bir günde kızının onu üzmesine çok içerlenmişti. Yaptığı hatanın farkına vardı.

Hatasını düzeltmek için bir plan yaptı. Sabah erkenden kalktı ve güzel bir kahvaltı hazırladı. Güzel bir çiçek demeti yaptı ve masaya koydu. Annesi kalkıp kahvaltı hazırlamaya gidince bir de ne görsün. Muazzam bir kahvaltı masası hem de kızının elinden. Masada da en sevdiği çiçekler. Gamze koşarak annesine sarıldı. Özür diledi ondan. Anneler gününü tebrik etti.

|| Aşağıdaki soruları metne uygun bir şekilde cevaplayınız.

|| 1. Gamze sınıfta nasıl bir öğrenciymiş?

||

|| 2. Gamze'ye kim kıskançlık duyuyormuş?

||

|| 3. Gamze niçin sinirlenmiş?

||

|| 4. Gamze her gün eve nasıl girermiş?

||

|| 5. Gamze hatasını düzeltmek için annesine ne yaptı?

||

|| 6. Annesi kahvaltı hazırlamaya gidince ne görmüş?

||



ATATÜRK'ÜN KİŞİLİK ÖZELLİKLERİ

Aşağıdaki özelliklerden Atatürk'e ait olanların kalbini boyayalım.



Kararlılık



Liderlik



Sabırsızlık



Çabuk pes eden



Korkusuz



Bencillik



İleri görüşlü



Vatansever



Planlı



Çok yönlü



Başka fikirlere kapalı



Çalışkanlık



Aceleci olması



Yeniliğe açık olması



Millet sevgisi



Bilime önem vermesi



Çocuk sevgisi



Güvenilir olması



Mustafa Kemal Atatürk Samsun'a çıkarak Kurtuluş Savaşı'nı başlatmış ve yol gösterici olmuştur.

Yukarıdaki ifadeye Atatürk'ün hangi kişisel özellikleri ortaya çıkmaktadır? Yazalım.

.....
.....
.....



Mustafa Kemal Atatürk hedeflediği şeylerin gerçekleşmesi için çok çalışır ve asla taviz vermezdi. Hiç bir şey onu yolundan çeviremezdi.

Yukarıdaki ifadeye Atatürk'ün hangi kişisel özellikleri ortaya çıkmaktadır? Yazalım.

.....
.....
.....



ÜLKEME KATKIDA BULUNANLAR

🌸 Aşağıdaki kişiler ile ilgili bir araştırma yapınız. Edindiğiniz bilgileri kısaca aşağıya yazınız.



AZİZ SANCAR

.....

.....

.....

.....

.....

.....

.....

.....



HALİDE EDİP ADIVAR

.....

.....

.....

.....

.....

.....

.....

.....



CAHİT ARF

.....

.....

.....

.....

.....

.....

.....

.....



ELEKTRİKLİ ARAÇ VE GEREÇLERİ TANIYALIM

⚙️ Aşağıda verilen eşyaların kullanıma amaçlarını yazalım.



.....
.....



.....
.....



.....
.....



.....
.....



.....
.....



.....
.....



.....
.....



.....
.....



.....
.....



.....
.....



.....
.....



.....
.....



.....
.....



.....
.....



.....
.....



.....
.....



.....
.....



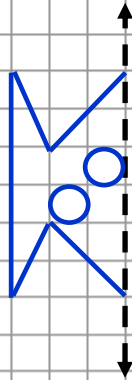
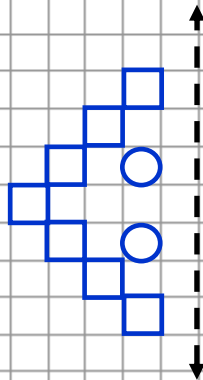
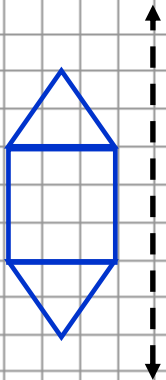
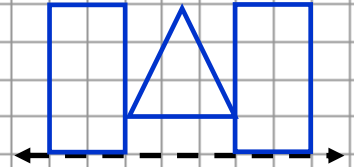
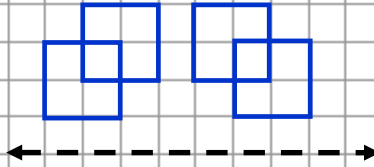
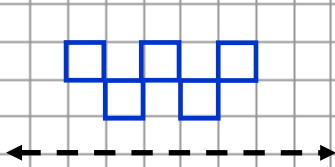
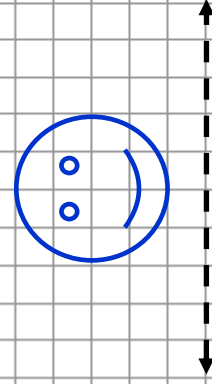
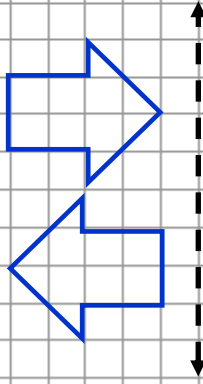
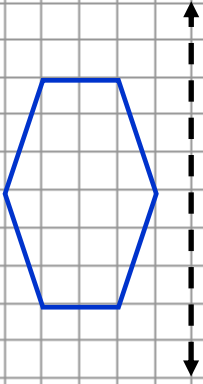
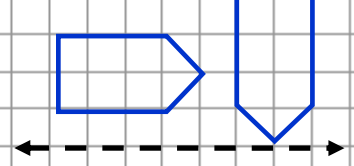
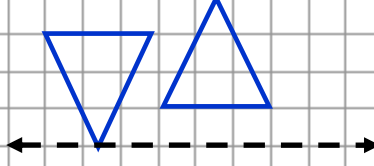
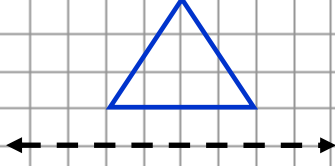
.....
.....



SİMETRİLERİNİ TAMAMLAYALIM



Aşağıdaki şekilleri simetri doğrularına göre tamamlayınız.





UZUNLUKLARI ÖLÇELİM



Aşağıdaki şekilleri simetri doğrularına göre tamamlayınız.



Kalem = 10 cm



Silgi = 5 cm



Sopa = 50 cm



Kurdele = 100 cm



Kitap = 30 cm

Pınar sırasının boyunu 3 kitap ve 1 silgi olarak ölçmüş. Buna göre sırasını boyu kaç cm'dir?

Pınar okulun koridorunu 25 kurdele olarak ölçmüş. Buna göre koridorun uzunluğu kaç cm'dir?

Pınar resim çantasının uzunluğunu 6 kalem ölçmüş. Buna göre resim çantasının uzunluğu kaç cm'dir?

Pınar balkonun boyunu 13 sopa ve 2 kitap olarak ölçmüş. Buna göre balkonun boyu kaç cm'dir?

Pınar kitaplığının genişliğini 3 kitap ve 6 silgi olarak ölçmüş. Buna göre kitaplığın genişliği kaç cm'dir?

Pınar bahçedeki iki ağacın arasını 5 kurdele ve 2 sopa olarak ölçmüş. Buna göre iki ağacın arası kaç cm'dir?

Pınar pantolonunun boyunu 7 kalem ve 3 silgi olarak ölçmüş. Buna göre pantolonun boyu kaç cm'dir?

Pınar televizyonun boyunu 7 kalem ve 4 silgi olarak ölçmüş. Buna göre televizyonun boyu kaç cm'dir?



UZUNLUKLARI ÖLÇELİM

Aşağıdaki şekilleri simetri doğrularına göre tamamlayınız.



Karış = 15 cm



Kulaç = 100 cm



Ayak = 20 cm



Parmak = 1 cm



Adım = 50 cm

Taner yatağını 2 kulaç ve 1 karış olarak ölçmüş. Buna göre yatağın boyu kaç cm'dir?

Taner odasının genişliğini 6 adım ölçmüş. Buna göre odanın genişliği kaç cm'dir?

Taner kapının genişliğini 5 ayak ölçmüş. Buna göre kapının genişliği kaç cm'dir?

Taner masasının boyunu 6 karış ve 4 parmak olarak ölçmüş. Buna göre masanın boyu kaç cm'dir?

Taner kitabın 1 karış ve 7 parmak olarak ölçmüş. Buna göre kitabın boyu kaç cm'dir?

Taner halının boyunu 4 adım ve 2 ayak olarak ölçmüş. Buna göre halının boyu kaç cm'dir?

Taner sınıftaki tahtanın uzunluğunu 3 kulaç ve 4 karış ölçmüş. Buna göre tahtanın uzunluğu kaç cm'dir?

Taner evlerinin koridorunu 10 adım ve 3 ayak olarak ölçmüş. Buna göre koridorun boyu kaç cm'dir?