

Canlılar Ne İster?

1) Aşağıdakilerden hangisi yanlıştır?

- A) Tüm hayvanlar ot yiyerek beslenirler.
- B) Hayvanların, yaşaması için kendilerine uygun besinlerle beslenmeleri gerekir.
- C) Yeteri kadar hava ve su olmazsa canlılar yaşayamaz.

2) Aşağıdakilerden hangisi bitkilerin ihtiyaçları arasında yer almaz?

- A) hava
- B) su
- C) barınak

3) Aşağıdakilerden hangisi hem ot hem de et ile beslenen bir hayvandır?



A)



B)



C)

- 4)  hava
 su
 yemek

Canlıların en önemli ihtiyacı yukarıdakilerden hangisidir?

- A)  B)  C) 

5) Aşağıdaki hayvanlardan hangisinin yuvası toprak altında bulunmaktadır?


- A) kuş
- B) tavuk
- C) yılan


6) Balkonda bitki yetiştirebilmemiz için gerekli olan malzemeler aşağıdakilerden hangisinde verilmiştir?

- A) saksı, toprak, su
- B) traktör, gübre, kazma
- C) kürek, hortum, su

7) Aşağıdaki hayvanlardan hangisi evde yetiştirilebilir?

- A) at
- B) zürafa
- C) kedi


- 8)  Yanda verilenlerden kaç tanesi bitki ve hayvanların yaşamaları için gereklidir?
- A) 2 B) 4 C) 3

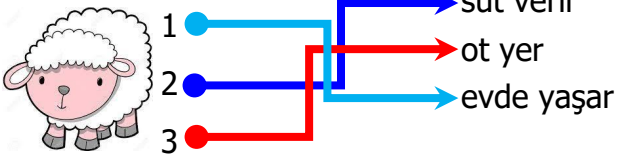
- 9) Bir bitkinin oluşabilmesi için yapılacak ilk şey aşağıdakilerden hangisidir? 
- A) tohumun ekilmesi
B) fidanın sulanması
C) fidanın budanması


- 10)  kuzu
horoz
balık

Yukarıdaki hayvanlardan hangisinin yaşam alanı diğerlerinden farklıdır?

- A)  B)  C) 

- 11)  Yanda verilen hayvanların ortak özelliği aşağıdakilerden hangisidir?
- A) ormanda yaşamaları
B) et ile beslenmeleri
C) ot ile beslenmeleri

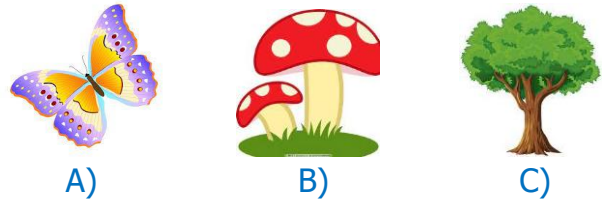
- 12)  Görselde verilen hayvan ile ilgili verilen bilgilerden hangisi yanlıştır?
- A) 1 B) 2 C) 3

- 13)  İnek → ahır
Arı → kovan
Ayı → kümes

Hayvanlar ve yaşama alanları ile ilgili eşleştirmelerden hangisi yanlıştır?

- A)  B)  C) 

- 14) Aşağıdakilerden hangisi bitki değildir?



- 15) Aşağıdakilerden hangisinin yetişmesi tamamen insanlara bağlıdır?
- A) Saksıdaki çiçek
B) Bahçedeki ağaç
C) Ormandaki tavşan