






Aşağıdaki soruları nesne grafiğine göre cevaplayalım.

2-D Sınıfı En Çok Sevilen Meyveler






Portakal	
Çilek	
Elma	
Armut	
Karpuz	

Her şekil 2 kişiyi gösterir

- Nesne grafiğinin adı nedir?
.....
- 2-D sınıfında en çok sevilen meyve hangisidir?
.....
- 2-D sınıfında en az sevilen meyve hangisidir?
.....
- Aynı miktarda sevilen meyveler hangileridir?
.....
- 2-D sınıfında en fazla sevilen meyve ile en az sevilen meyve arasındaki fark ne kadardır?
.....
- Portakal sevenler çilek sevenlerden kaç fazladır?
.....
- Elma sevenler karpuz sevenlerden kaç fazladır?
.....
- Karpuz sevenler armut sevenlerden kaç eksiktir?
.....
- Portakal seven ve armut seven toplam kaç kişi?
.....
- 2-D sınıfında toplam kaç öğrenci vardır?
.....

Aşağıdaki soruları şekil grafiğine göre cevaplayalım.

Bahçede Bulunan Ağaç Türleri

Ceviz	
Kiraz	
Badem	
Kavak	
Fıstık	

Her şekil 5 ağacı gösterir

- Şekil grafiğinin adı nedir?
.....
- Bahçede en çok olan hangisidir?
.....
- Bahçede en az olan hangisidir?
.....
- Bahçede toplam kaç ağaç vardır?
.....
- Bahçede en çok olan ağaç ile en az olan ağaç arasındaki fark kaçtır?
.....
- Kiraz ağacı badem ağacından kaç fazladır?
.....
- Elma sevenler karpuz sevenlerden kaç fazladır?
.....
- Fıstık ağacı ceviz ağacından kaç eksiktir?
.....
- Badem ağacı ile kiraz ağacı toplam kaç ağaçtır?
.....
- Bahçede kaç tane kabuklu meyve ağacı var?
.....



Aşağıdaki soruları çetele tablosuna göre cevaplayalım.

Kantinde Satılan İçecekler

Çay							
Süt							
Ayran							
Limonata							
Su							

● Tablonun adı nedir?

.....

● Kantinde en çok satılan içecek hangisidir?

.....

● Kantinde en az satılan içecek hangisidir?

.....

● Kantinde ne kadar limonata satılmıştır?

.....

● Sütün tanesi 2 TL olduğuna göre, süttten elde edilen para kaç liradır?

.....

● Kantinde ne kadar ayran satılmıştır?

.....

● Satılan çay, satılan ayrandan kaç fazladır?

.....

● Satılan ayran, satılan süttten ne kadar eksiktir?

.....

● Kantinde kaç tane süt ve süt ürünü satılmıştır?






.....

● Kantinde kaç tane içecek satılmış?

.....

Aşağıdaki soruları nesne grafiğine göre cevaplayalım.

Oyuncakçıda Satılan Oyuncaklar

Bisiklet	
Bebek	
Kepçe	
Dinozor	
Robot	

Her şekil 10 oyuncuğı gösterir

● Nesne grafiğinin adı nedir?

.....

● Kaç tane bisiklet satılmış?

.....

● Kaç tane bebek satılmış?

.....

● Kaç tane kepçe satılmış?

.....

● Robotların tanesi 10 TL olduğuna göre, robottan elde edilen para kaç liradır?

.....

● Kaç tane dinozor satılmış?

.....

● Satılan bebekler, dinozorlardan kaç fazladır?

.....

● Satılan bisiklet ile kepçeler toplam kaç tanedir?

.....

● Hangi oyuncaklar eşit sayıda satılmıştır?

.....

● Toplam kaç tane oyuncak satılmış?

.....