

- 1) Arda çok iyi yüzmesine rağmen çok derin yerlere gidemedi.

Yukarıdaki cümlede farklı düşünmeye yönlendiren ifade aşağıdakilerden hangisidir ?

- A) çok B) rağmen
C) iyi D) derin

- 2) Bu ameliyatı işinde uzman çok iyi bir doktor yapabilir.

Yukarıdaki cümlede noktalı yere aşağıdaki kelimelerden hangisi yazılabilir?

- A) fakat B) çünkü
C) ama D) ancak

- 3) Aşağıdaki cümlelerden hangisinde "ancak" yerine "fakat" getirilirse cümlenin anlamı bozulur?

- A) Bu problemi ancak Rana çözebilir.
B) Çilek yiyecektim ancak kalmamış.
C) Ödev yapacaktım ancak başım ağrıyor.
D) Annem bana yardım edecekti ancak işi çıktı.

- 4) Taner'i çok sakın bilirdim oysa o da çok sinirliymiş.

Yukarıdaki cümlede e farklı düşünmeye yönlendiren ifade hangisidir?

- A) ■ B) ▲ C) ● D) ●

- 5) Fatma uzun zamandır istediği kitabı alacaktı parası yetmedi.

Yukarıdaki cümledeki noktalı yere aşağıdaki kelimelerden hangisi yazılamaz?

- A) fakat B) ama
C) çünkü D) ancak

- 6) Babam kare şeklindeki bahçemize 3 sıra dikenli tel çaktı. Bu iş için 312 m tel kullandı.

Yukarıdaki ifadeye göre bahçenin bir kenarı kaç metredir?

- A) 104 B) 28 C) 26 D) 36

- 7)



8 birim

6 tane kare

Yukarıdaki dikdörtgenin yüzeyi bir kenarı 8 birim olan karenin 6 tanesi ile tamamen kaplanabilmektedir.

Buna göre dikdörtgenin çevresi kaç birimdir?

- A) 48 B) 64
C) 80 D) 72

- 8) Dikdörtgen şeklindeki bir masanın çevresi 450 cm'dir. Uzun kenar kısa kenardan 35 cm daha uzundur.

Yukarıdaki ifadeye göre masanın kısa kenar kaç santimetredir?

- A) 95 B) 130 C) 105 D) 100

9)

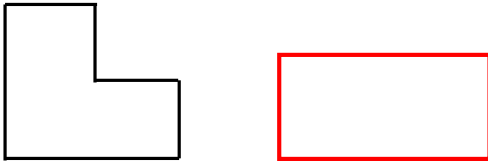


Her birinin çevresi 60 birim olan üç kare yukarıdaki gibi uç uca birleştiriliyor.

Oluşan yeni şeklin çevresi kaç birimdir?

- A) 240 B) 110 C) 130 D) 120

10)



Yukarıdaki şekil ile dikdörtgenin çevre uzunlukları eşittir.

Şeklin çere uzunluğu 52 birim olduğuna göre dikdörtgenin uzun kenarı **en az** kaç birim olur?

- A) 12 B) 14 C) 16 D) 10

- 11) Aşağıdakilerden hangisi cumhuriyet yönetim şekli ile birlikte anılır?

- A) Padişahlık B) Krallık
C) Sultanlık D) Demokrasi

- 12) Aşağıdaki olaylardan hangisiyle Türk tarihinin ilk kez kişi egemenliğinde millet egemenliğine geçildi?

- A) Atatürk'ün samsun'a çıkışıyla
B) Cumhuriyetin ilanıyla
C) Kurtuluş Savaşı'nın kazanılmasıyla
D) TBMM'nin açılışıyla

- 13) Dünyada çocuklara armağan edilen ilk bayram hangi ülkede kutlanmaya başlanmıştır?

- A) Almanya B) Fransa
C) Türkiye D) İtalya

- 14) I – Özgürlük
II – Adalet
III – Eşitlik

Cumhuriyet yönetimi deyince yukarıdakilerden hangileri akla gelir?

- A) I ve III B) Hepsi
C) II ve III D) I ve II

15) Türk gençliğinin cumhuriyeti yaşatması aşağıdakilerden hangisini yapması **doğru değildir**?

- A) Tarihini, geçmişte olanları unutmamalı.
- B) Çok çalışmalı.
- C) Vatanını ve milletini sevmeli.
- D) Bilime önem vermeli.

16) Kaynaklar kullanmayıp edildiğinde kısa bir sürede tükenebilir.

Yukarıdaki ifadede noktalı yerlere sırayla gelecek kelimeler hangisinde doğru verilmiştir?

- A) üretim - israf
- B) tutumlu - israf
- C) tutumlu - dikkat
- D) üretim - tüketim

17) I- Para
II- Su
III- Besin

Yukarıdakilerden hangisinde veya hangilerinde tasarruf yapılabilir?

- A) Sadece I
- B) I ve II
- C) I ve III
- D) Hepsi

18) Aşağıdaki davranışlardan hangisi kaynakların tasarruflu kullanımıyla ilgili **değildir**?

- A) Diş fırçalarken musluğu açık bırakmak.
- B) Bozuk muslukları tamir etmek.
- C) Odadan çıkarken ışığı kapatmak.
- D) Paramızın bir kısmını zor günler için saklamak.





19) Aşağıdakilerden hangisi geri dönüşümün faydalarından biri **değildir**?

- A) Çevre kirliliği artar.
- B) Daha az ham madde kullanılır.
- C) Ülke ekonomisine katkı sağlar.
- D) Doğal çevre korunmuş olur.

20)

cam şişe	meyve atıkları	poşet
ekmek	sıvı yağ	kağıt

Yukarıda geri dönüşümü mümkün olan maddeler boyandığında aşağıdaki şekillerden hangisi ortaya çıkar?

- A) 
- B) 
- C) 
- D) 

CEVAP ANAHTARI

TÜRKÇE	MATEMATİK	SOSYAL BİL.	FEN BİLİM.
1) B	6) C	11) D	16) C
2) D	7) C	12) D	17) D
3) A	8) A	13) C	18) A
4) B	9) D	14) B	19) A
5) C	10) B	15) A	20) B