

1	2	3	4	5	6	7	8	9	10	11	12	13	14	15
a	b	c	●	d	e	f	g	ğ	h	ı	i	★	k	l

16	17	18	19	20	21	22	23	24	25	26	27	28	29
m	n	o	ö	p	r	s	■	t	u	ü	v	y	z

1. Yukarıdaki alfabe tablosunda **bazı harfler** verilmemiştir. Aşağıdaki şıklardan hangisinde, tabloda verilmeyen harfler vardır?

A) c – m – v

B) ç – j – ş


C) d – ğ – s



2. Yukarıdaki varlıkların isimlerini **alfabetik sıraya** koyarsak, doğru sıralama nasıl olur?



3. Aşağıdaki varlıklardan hangisinin adında diğerlerinden daha fazla **ünlü harf** vardır?



4.



Yandaki fare, **doğru** hecelenmiş kelimelerin olduğu peynirleri yiyebilir.

Buna göre, **fare** kaç peynir yiyebilir?

A) 3

B) 2

C) 1

5. Aşağıdaki cümlelerin hangisinde, diğerlerinden daha az kelime vardır?

- A) Hasta olduğu için okula gelemedi.
 B) Atatürk kitap okumayı severdi.
 C) Ali ve Ufuk parka gittiler.

pasta	annem	yaptı	çilekli
1	2	3	4

6. Üstte **karışık** halde verilen kelimelerden anamlı ve kurallı bir cümle kurmak için rakamları nasıl sıralamalıyız?

- A) 2 - 4 - 1 - 3 B) 2 - 1 - 3 - 4 C) 1 - 3 - 2 - 4

7.  Yanda, uçağa bağlı **cümlelerden** hangisinin yazımında hata yoktur?

A) 3 numaralı uçak
 B) 1 numaralı uçak
 C) 2 numaralı uçak

8. "**Özel isimlerin** ilk harfi her zaman **büyük** yazılır." Buna göre aşağıdaki kelimelerden hangisinin ilk harfi her zaman büyük yazılmalıdır?

- A) karpuz B) ayşe C) televizyon


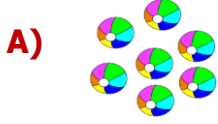
9.  **Yandaki** cümlede noktalı alana aşağıdaki kelimelerden hangisi yazılabilir?

- A) gördü B) durmuş C) gelecek

10.  **Yandaki** cümlede altı çizili kelimelerin zıt anlamlıları aşağıdakilerden hangisidir?

- A) öğle-ince B) akşam-şişman C) gece-güçlü

11. Aşağıdaki **nesnelere** hangisinin sayısı diğerlerinden daha azdır?



12. Yukarıdaki elma kurdu **6**'dan başlayarak **ikişer** ritmik sayarak elmaları yiyecektir. Buna göre son elmada **hangi sayıyı** sayar?

A) 10

B) 12

C) 14

13.

$$5 + 8 = 13$$

$$9 + 7 = 15$$

$$6 + 6 = 12$$

$$8 + 8 = 18$$



Toplama işlemini yeni öğrenen **Serhat**, yandaki işlemlerden kaç tanesini **doğru** yapmıştır?

A) 1

B) 2

C) 3

14.



Mehmet ve **Elif** kardeşlerdir. **Mehmet** 12 yaşındadır. **Elif** ise **Mehmet'ten** 4 yaş küçüktür. Buna göre **Elif** kaç yaşındadır?

A) 8

B) 7

C) 6

15.

$$\triangle + 8 = 15$$

$$9 + \bullet = 13$$

Yandaki işlemlerde **verilmeyen** toplananların yerine **şekiller** çizilmiştir. Aşağıdakilerden hangisi bu şekillerden birinin sayısı değildir?

A) 4

B) 5

C) 7

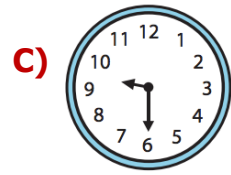
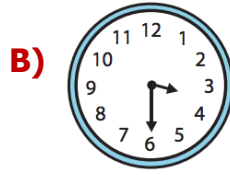



16. Üstte bazı ürünlerin fiyatları vardır. Bakkaldan **kalem**, **açacak** ve **dondurma** alan bir kişi ne kadar para ödemelidir?

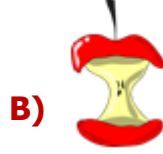


17. Her sabah saat sekiz buçukta kalkıyorum.

Yandaki ifadeye göre **Sibel'in** kalkış saati aşağıdakilerden hangisidir?



18. **Ali**, bütün bir elmanın **yarısını** yemiştir. Buna göre geriye kalan elma aşağıdakilerden hangisidir?



19. Bugün günlerden çarşamba günüdür.

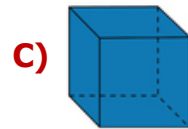
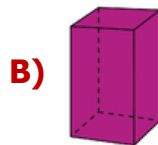
Yanda **verilen** bilgiye göre 4 gün sonra günlerden hangi **gün** olur?

A) salı

B) pazar

C) cuma

20. Aşağıdaki cisimlerden hangisinin **köşesi** ve **düz bir yüzü** yoktur?



21. Aşağıdakilerden hangisi **okula geliş ve gidişlerde** uymamız gereken güvenlik kurallarından değildir?

- A) Tanımadığımız kişilerle konuşmamalıyız.
- B) Araçların önünden ve arkasından geçmeliyiz.
- C) Taşıt içindeyssek, emniyet kemerimizi bağlamalıyız.

22. Sınıfımızda ders araç gereçlerinin yanı sıra, içinde Türk bayrağı, Atatürk'ün fotoğrafı, İstiklal Marşı ve Gençliğe Hitabe bulunan bir köşe bulunmaktadır.



Aşağıdakilerden hangisi bu **sınıf eşyasının** ismidir?

- A) şeref köşesi
- B) akıllı tahta
- C) kitaplık

23. Arkadaşlar, okulda arkadaşlarımızla, öğretmenlerimizle ve okuldaki diğer çalışanlarla konuşurken **nazik** olmalıyız.




Nezaket ifadeleriyle alakalı aşağıdakilerden hangisi doğrudur?

- A) Hasta olan arkadaşımıza "tebrikler" deriz.
- B) Bize yardım eden kişilere "teşekkür ederim" deriz.
- C) Sabah gördüğümüz kişilere "tünaydın" deriz.

24. **Aile üyeleriyle** alakalı verilen bilgilerden hangisi yanlıştır?

- A) Halamızın eşi **eniştemiz** olur.
- B) Annemizin kız kardeşi **teyzemiz** olur.
- C) Babamızın erkek kardeşi **dayımız** olur.

25. Aşağıdakilerden hangisi **kişisel bakım** eşyası değildir?



26. İhtiyaçlarımızı karşılamak için **elektrik, su** gibi kaynakları kullanırız. Aşağıdaki öğrencilerden hangisi kaynakları doğru kullanmaktadır?

A)  Dişlerimi fırçalarken suyu boşa akıtmam.

B)  Gündüz vakti evin tüm ışıklarını açarım.

C)  Elektrikli araçların hepsini aynı anda çalıştırırım.

27. Öğünlere uygun olarak beslenen bir kişinin sabah **kahvaltısı** aşağıdakilerden hangisi olabilir?

A) Çorba – salata – sebze yemeği – yoğurt

B) Peynir – zeytin – yumurta – bal – ekmek

C) Makarna – et yemeği – salata – üzüm hoşafı

28. Aşağıdaki levhalardan hangisi “**yaya geçidi**” levhasıdır?



29. Günlük hayatımızda **oyun** oynayacağımız yerleri seçerken kendimiz için güvenli olan alanları seçmeliyiz. Aşağıdakilerden hangisi güvenli oyun alanıdır?

A) trafiğe kapalı alanlar

B) su kanalları

C) inşaat alanları

30.  **Atatürk** ile ilgili aşağıdaki bilgilerden hangisi yanlıştır?

A) Atatürk 1881 yılında İstanbul’da doğmuştur.

B) Annesinin adı Zübeyde Hanım’dır.

C) Atatürk’ün mezarı Anıtkabir’dedir.

CEVAP ANAHTARI

TÜRKÇE

- 1) B
- 2) C
- 3) A
- 4) C
- 5) B
- 6) A
- 7) A
- 8) B
- 9) C
- 10) B

MATEMATİK

- 11) C
- 12) C
- 13) B
- 14) A
- 15) B
- 16) C
- 17) A
- 18) C
- 19) B
- 20) A

HAYAT BİL.

- 21) B
- 22) A
- 23) B
- 24) C
- 25) C
- 26) A
- 27) B
- 28) B
- 29) A
- 30) A