



.....

Tüccarın birinin bir atı, bir de eşeği varmış. Atına kendisi biner, eşeğine de malları yükler, köy köy dolaşır satarmış. Bir gün eşeğine çok ağır yükler yüklemiştir. Biraz gittikten sonra gücü kalmayan eşek, ata yalvarmış:

— Ne olur, hiç gücüm kalmadı, yükümün birazını da sen taşı.

Ancak at, hiç oralı olmamış ve yoluna devam etmiş. Az sonra tüm gücü tükenen eşek yorgunluktan düşüp ölmüş. Tüccar da bütün yükleri ata yüklemiştir. Üzerine de kendisi binmiş. At, eşeğin neler çektiğini o zaman anlamış. Ona yardım etmediği için çok pişman olmuş.

(1-4. soruları metne göre cevaplayınız.)

1) Aşağıdakilerden hangisi hikâyedeki olayın kahramanlarından biridir?

A) Köylü B) Tüccar C) Manav

2) ▲ Metnin türü düz yazıdır.

■ Bilgilendirici bir metindir.

● Başlığı "Atın Pişmanlığı" olabilir.

◆ Yazarı Hasan Yıldırım'dır.

Yukarıda metin ile ilgili verilen ifadelerden hangisi veya hangileri doğrudur?

A) Yalnız ▲ B) ▲ ve ●

C) ■, ● ve ◆

3) Metinde anlatılanlardan yola çıkarak hangi çıkarıma ulaşamaz?

A) Tüccar, satıcılık yapmaktadır.

B) Eşeklerle yük taşınabilir.

C) Atlarla yük taşınmaz.

4) Metinde anlatılan olaylardan hangisinde hayal ürünü ifade yoktur?

A) Eşeğin ata yalvarması

B) Tüccarın yükleri ata yüklemesi

C) Atın çok pişman olması

- 5) 1. Elimi yıkadım.
2. Hemen mutfağa gittim.
3. Okuldan gelince karnım acıktı.
4. Annem 'Ellerr!' diye seslendi.

Yukarıdaki olayları hangi öğrenci oluş sırasına göre sıralamıştır?

A)  1 - 2 - 4 - 3

B)  3 - 1 - 4 - 2

C)  3 - 2 - 4 - 1

6)

Aile	Yağmur	Ankara
Beyza	Türkiye	Koltuk
Saat	Mars	Sokak

Tablodaki sözcüklerden kaç tanesi her zaman büyük harfle başlar?

- A) 4 B) 6 C) 8

7) Hangi seçenekte tarihler doğru bir şekilde yazılmıştır?

- A) 19 Mayıs 1919'da çıkmış.
B) 23-04-1920'de meclis açıldı.
C) 29.09.1923'te ilan edildi.

8) Yandaki varlığın ismi hangi seçenekte cins(tür) isim olarak kullanılmıştır?



- A) Nehirde yüzmek tehlikelidir.
B) Nehir bugün okula gelmedi.
C) Bu kalemi Nehir verdi.

9)

Tekil	Çoğul	Topluluk
ağaç	1	2
asker	3	4

Hangi seçenekte, tabloda numaralandırılmış kutucuklara yazılması gereken sözcüklerden biri yoktur?

- A) Orman ülkenin akciğeridir.
B) Ağabeyim orduya katıldı.
C) Bahçemize fidan diktik.

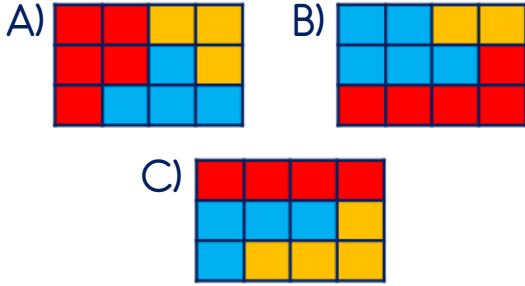
10) *Öğretmenin sorusuna Nihat şöyle cevap verdi ()*
()Yaptım mı yapmadım mı bil()
miyorum()

Yukarıdaki cümlede () ile belirtilen yerlere sırası ile hangi noktalama işaretleri gelmelidir?

- A) (,)(-)(-)(?) B) (:)(-)(?)(.)
C) (:)(-)(-)(.)

- 11) Ahmet'in doğum günü partisi için asılan balonların $\frac{5}{12}$ 'si kırmızı, $\frac{2}{12}$ 'si sarı ve geri kalanları mavi renklidir.

Buna göre aşağıdaki şekillerden hangisi Ahmet'in doğum günü balonlarını ifade etmektedir?



- 12) Bir pizzacıda bir pizzanın $\frac{1}{8}$ 'i 4 liradan satılmaktadır.



Bu pizzacıdan 2 bütün pizza alan Hayal, pizzacıya kaç lira ödemelidir?

- A) 32 TL B) 64 TL C) 128 TL

13)



Yukarıdaki analog ve dijital saatler eşleştirildiğinde hangi şekil oluşur?



- 14) Tablo: Antalya'dan Yolculuk Süreleri

Antalya'dan	Kalkış	Varış
İzmir'e	07.30	12.45
Konya'ya	09.50	14.05
Eskişehir'e	12.45	18.15

Tabloya göre şehirler, yolculuk süresi en az olandan en çok olana doğru nasıl sıralanmalıdır?

- A) İzmir - Konya - Eskişehir
B) Konya - Eskişehir - İzmir
C) Konya - İzmir - Eskişehir

- 15) 35 liraya kitap alan Miraç, satıcıya 50 lira verdi. Satıcı bozuk para olmadığını söyleyince Miraç 5 lira daha verdi. Buna göre satıcı, Miraç'a kaç lira vermelidir?

- A) 10 TL B) 15 TL C) 20 TL

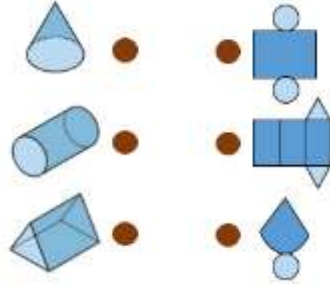
- 16) Bir bakkal tanesi 250 g olan ekmeklerden 40 tane, tanesi 300 g olan ekmeklerden 20 tane satmıştır.



Bu bakkal toplam kaç kg ekmek satmıştır?

- A) 10 kg B) 16 kg C) 22 kg

- 17) Yandaki geometrik cisimler ile açılımları nasıl eşleştirilmelidir?



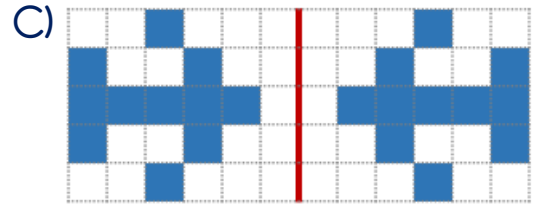
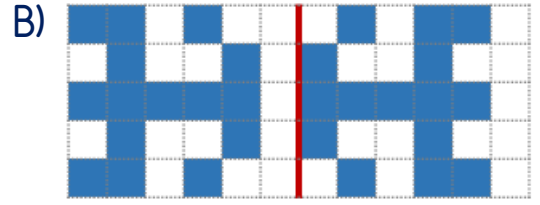
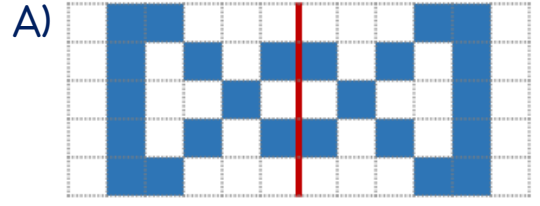
- A) B) C)

- 18) 3-D sınıfında yapılan sınıf başkanlığı seçiminde adaylar, isimlerindeki harflerde bulunan toplam aç sayısını kadar oy almıştır.


Buna göre aşağıdaki ifadelerden hangisi yanlıştır?

- A) Eymen sınıf başkanı olmuştur.
B) Fatih ile Melek'in oyları eşittir.
C) Sınıf mevcudu 45'tir.

- 19) Aşağıdaki şekillerden hangisinin simetri doğrusuna göre simetriği yanlış çizilmiştir?



- 20)



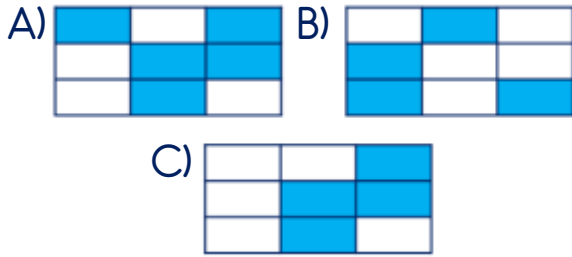
Yukarıdaki görsele göre aşağıdaki ifadelerden hangisi doğrudur?

- A) Atacın boyu 8 cm'dir.
B) Çantanın boyu 31 cm'dir.
C) Üç eşyanın boyları toplamı 55 cm'dir.

21)

İnsan	Uçak	Şimşek
Saat	Rüzgâr	Kuş
Gitar	Yağmur	Motor

Yukarıdaki tabloda doğal ses kaynakları boyandığında tablonun görüntüsü nasıl olur?



22) Aşağıdaki araçlardan hangisi sesin şiddetini artırarak daha uzağa gitmesini sağlar?



23) Yukarıdaki varlıklardan kaç tanesi canlı bir varlıktır?

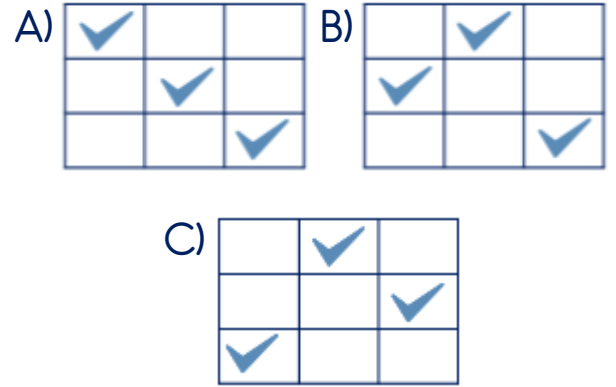


A) 3 B) 4 C) 5

24)

	Tohum	Yumurta	Doğum

Tablodaki canlıların üreme şekilleri hangi seçenekte doğru işaretlenmiştir?



25) Hafta sonu görevi olarak öğretmeni Kerem'den yakın çevresini gözlemlemesini istemiştir.



Buna göre aşağıdakilerden hangisi Kerem'in gözlemleyeceği unsurlardan biri olamaz?



- 26) () Oyun parkı
() Hayvanat bahçesi
() Orman
() Nehir

Yukarıdakilerden doğal unsurlara 'D', yapay unsurlara 'Y' nasıl yazılmalıdır?

- A) (D) B) (Y) C) (Y)
(Y) (Y) (D)
(D) (D) (Y)
(Y) (D) (D)



Yukarıdaki atıklardan kaç tanesi herhangi bir geri dönüşüm kutusuna atılamaz?

- A) 3 B) 4 C) 5

28) Aşağıdakilerden hangisi ısınma amacıyla kullanılan elektrikli bir alet değildir?



- 29) ▲ İşlerimizi kolaylaştırırlar.
■ Kazalara sebep olabilirler.
● Zaman tasarrufu sağlarlar.
◆ Harcadıkları elektrik ile aile bütçemizi olumsuz etkilerler.

Yukarıdaki ifadelerden hangisinde veya hangilerinde elektrikli aletlerin olumlu özellikleri verilmiştir?

- A) Yalnız ■
B) ▲ ve ●
C) ▲, ● ve ◆

30) Aşağıdaki tabloda elektrikli aletlerin kullanım amaçları işaretlenecektir.

	Aydınlatma	Isınma	Haberteşme	Temizlik
Ampul	1	2	3	4
Kombi	5	6	7	8
Radjo	9	10	11	12
Süpürge	13	14	15	16

Buna göre tablodaki hangi kutucuklar işaretlenmelidir?

- A) 1 - 6 - 11 - 16
B) 1 - 8 - 11 - 16
C) 4 - 6 - 9 - 15

- 31) () Çocuk parkı
 () İnşaat alanı
 () Okul bahçesi
 () Piknik alanı

Oyun oynamak için verilen alanlardan güvenli olanlara 'G', tehlikeli olanlara 'T' nasıl yazılmalıdır?

- | | | |
|--------|--------|--------|
| A) (G) | B) (T) | C) (G) |
| (T) | (G) | (T) |
| (G) | (T) | (G) |
| (T) | (G) | (G) |

- 32) Aşağıdakilerden hangisi cumhuriyet ile birlikte kazandığımız haklardan biri değildir?

- A) Egemenliğin kayıtsız şartsız milletin olması
 B) Kanunlar önünde eşitlik
 C) Herkese yaşama hakkı verilmesi

- 33) ▲ Muhtar ● Kaymakam
 ■ Vali ◆ Belediye başkanı

Yukarıdaki yöneticilerden hangileri seçimle göreve gelirler?

- A) ▲ ve ◆
 B) ▲, ● ve ■
 C) Hepsi

34)



Hafta sonu gittiğimiz yer;
 ★ Turistik bir yerdi.
 ★ İnsanlar tarafından yapılmıştı.
 ★ Antalya'daydı.

Verdiği bilgilere göre Zeynepler hafta sonu nereye gitmişlerdir?

- A) Manavgat Şelalesi
 B) Alanya Kalesi
 C) Topkapı Sarayı

- 35) Aşağıdakilerden hangisi çocukların ülkesine karşı görev ve sorumluluğu değildir?

- A) İstiklâl Marş'ını 'hazır ol' vaziyetinde saygı ile söylemek
 B) Boş vakitlerinde kendisini geliştirecek çalışmalar yapmak
 C) Askere giderek vatanî görevini yerine getirmek

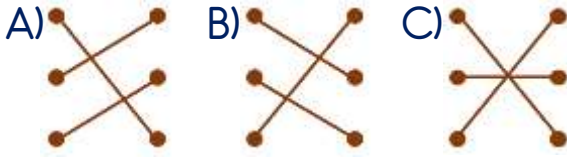
- 36) Aşağıdaki ortak kullanım alanlarından hangisi vatandaşlardan toplanan vergilerle yapılmıştır?

- A) Aile Sağlığı Merkezi
 B) Lunapark
 C) Alışveriş merkezi

37) Aşağıda millî birlik ve beraberlik içinde olduğumuz bazı günler ve bu günlerin önemleri verilmiştir.

19 Mayıs ●	● Darbe girişiminin önlenmesi
15 Temmuz ●	● Büyük Taarruz'un kazanılması
30 Ağustos ●	● Milli Mücadele'nin başlaması

Verilen günler ile önemleri hangi seçenekte doğru eşleştirilmiştir?



38)



İnsanlar farklı nedenlerle buldukları ülkeden farklı bir ülkeye göç edebilirler.

Aşağıdakilerden hangisi insanların ülkelerinden başka bir ülkeye göç etme sebeplerinden biri değildir?

- A) Savaş veya doğal afetler
- B) Daha iyi eğitim veya iş imkânı
- C) Tarihi ve turistik yerleri görmek

39)



Yukarıdaki özlü sözü, Atatürk'ün hangi kişilik özelliğini göstermektedir?

- A) İşbirliği içinde çalışması
- B) Eğitime önem vermesi
- C) Çocukları çok sevmesi

40) Kurtuluş Savaşı'nda pilot olarak görev almıştır.

İlk Türk uçağını yapmıştır.

Ülkemizin ilk pilotlarını yetiştirmiştir.



Yukarıda resmi ve özellikleri yer alan kişi aşağıdakilerden hangisidir?

- A) Nuri DEMİRAĞ
- B) Sabiha GÖKÇEN
- C) Vecihi HÜRKUŞ

Cevap Anahtarı

1-B 2-B 3-C 4-B 5-C 6-A 7-C 8-A 9-C 10-C 11-B 12-B 13-B 14-C 15-C 16-B 17-A
18-B 19-B 20-C 21-A 22-C 23-A 24-B 25-C 26-B 27-B 28-C 29-B 30-A 31-C
32-C 33-A 34-B 35-C 36-A 37-A 38-C 39-B 40-C