

AÇGÖZLÜ KURT

Avcının biri okunu ve yayını almış. Bir sabah erkenden, avlanmak amacıyla ormana gitmiş. Karşısına bir dağ keçisi çıkmış. Okunu fırlatarak zavallı dağ keçisini vurmuş.



Dağ keçisini sırtına alıp dönerken bir yaban domuzuyla karşılaşmış. Yaban domuzu, avcıya hücum etmiş. Avcı, hücum eden domuza bir ok atmış. Ok domuzu yaralamış. Yaralı domuz, can acısıyla avcıya tekrar saldırmış. Avcı da domuz da ölmüş. Oradan geçmekte olan bir kurt, gözlerine inanamamış. Önünde, kendisine bir ay yetecek kadar yiyeceği duruyormuş. Kendi kendine şöyle demiş:

- Bu domuz, bu dağ keçisi ve bu adam bir ay boyunca benim beslenmeme yeter. Ama bunları yemeden önce okun kirşini yerim. Yazık, israf olmasın. Onunla bugünlük karnımı doyururum.

Kurt böyle diyerek kirşini yemeye başlamış. Fakat kirşini keser kesmez yay, kurdun boğazına fırlamış. Açgözlü kurt oracıkta can vermiş. Açgözlülüğünün cezasını bulmuş.

Not: İlk 3 soruyu metne göre cevaplayınız.

1) Metne göre aşağıdakilerden hangisi yanlıştır?

- A) Olay, ormanda geçmiştir.
B) Olay sabahın erken saatlerinde gerçekleşmiştir.
C) Avcı tüfeğini alarak ava çıkmıştır.

2) Kurda göre, önüne çıkan yiyecekler kendisine ne kadar süre yeterli gelecektir?

- A) 1 hafta B) 1 ay C) 2 ay

3) Metnin ana düşüncesi aşağıdakilerden hangisi olabilir?

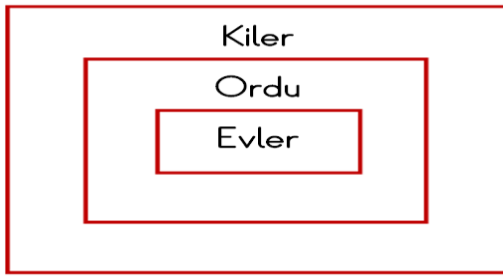
- A) Avcılık zor bir meslektir.
B) Doğal çevreyi korumalı, ona zarar vermemeliyiz.
C) Elimizdekiyle yetinmeli, açgözlü olmamalıyız.

CÜMLE	!	?	😊
Siz kaçınıcı oldunuz ()			
Yaklaşmayın, köpek var ()			
Ülkemi çok seviyorum ()			

Cümlelerde parantezle () bırakılan yerler sırasıyla uygun noktalama işareti ile tamamlandığında nasıl bir görüntü oluşur?

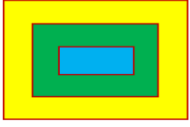
A)	<input type="checkbox"/>	<input checked="" type="checkbox"/>	<input type="checkbox"/>
	<input checked="" type="checkbox"/>	<input type="checkbox"/>	<input type="checkbox"/>
	<input type="checkbox"/>	<input type="checkbox"/>	<input checked="" type="checkbox"/>
B)	<input type="checkbox"/>	<input checked="" type="checkbox"/>	<input type="checkbox"/>
	<input type="checkbox"/>	<input type="checkbox"/>	<input checked="" type="checkbox"/>
	<input checked="" type="checkbox"/>	<input type="checkbox"/>	<input type="checkbox"/>
C)	<input type="checkbox"/>	<input type="checkbox"/>	<input checked="" type="checkbox"/>
	<input checked="" type="checkbox"/>	<input type="checkbox"/>	<input type="checkbox"/>
	<input type="checkbox"/>	<input type="checkbox"/>	<input checked="" type="checkbox"/>

5)




Yukarıda varlıkların sayılarına göre isimler verilmiştir. Tekil ismin bulunduğu bölüm sarıya, çoğul isim maviye ve topluluk ismi yeşile boyanacaktır. Buna göre aşağıdaki renklendirmelerden hangisi doğrudur?


A)



B)



C)



6)



Minnoş'u Ankara'da bulunan hayvan barınağından alarak İzmir'e getirdik.

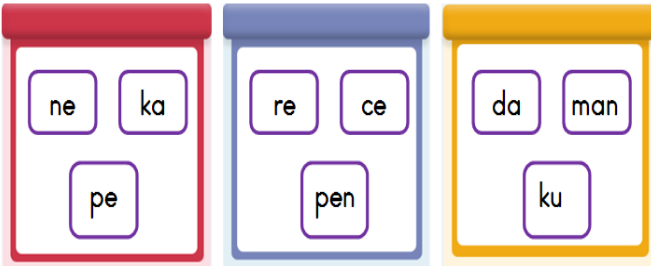
Azra'nın cümlesinde kaç tane özel ad kullanılmıştır?

A) 2

B) 3

C) 4

7)



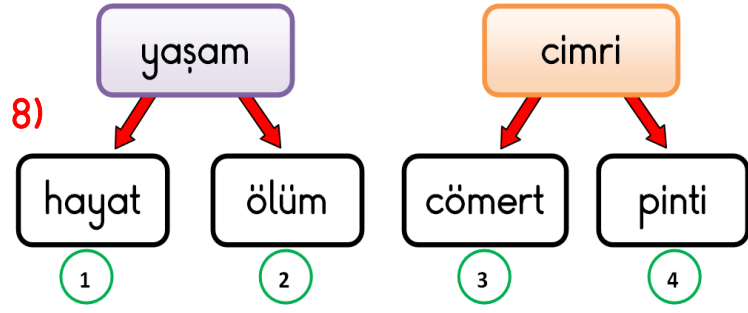
Aşağıdakilerden hangisi yukarıda heceleri karışık olarak verilen kelimelerden biri değildir?

A) tencere

B) kumanda

C) kanepa

8)



Ali mor kutudaki kelimenin zıt anlamlısını, turuncu kutudaki kelimenin eş anlamlısını bulmak istiyor. Ali, okları takip ettiğinde hangi numaralara ulaşır?

A) 2-3

B) 2-4

C) 1-4

9) Aşağıda verilen atasözlerinin hangisinde "İnsan sinirli anda hatalı davranabilir. Bunun bedelini de ağır öder." anlamı vardır?

A)



B)



C)



10)



Bugün pikniğe gidecektik yağmur yağdığı için gidemedik.

Ege'nin cümlesindeki noktalı yere aşağıdaki kelimelerden hangisinin gelmesi uygun olmaz?

A) ama

B) fakat

C) çünkü

11)

$$69 - \star = 39 + 14$$

$$87 - 28 = 18 + \heptagon$$

Yukarıdaki işlemlerde verilen eşitliklere göre



" $\heptagon - \star = ?$ " işleminin sonucu kaçtır?

A) 15

B) 25

C) 35

12)

\times	8	9	\div	2	4
3	24	27	12	6	3
4		36	16	8	

Yukarıdaki çarpma ve bölme işlem

tablolarına göre " $\heptagon \div \smileyface = ?$ " işleminin sonucu kaçtır?

A) 9

B) 8

C) 6

13)



İkra, 4 deste hikâye kitabını yukarıda verilen kitaplığın raflarına eşit şekilde paylaşmak istiyor. İkra 2 rafa toplam kaç hikâye kitabı koymalıdır?

A) 10

B) 12

C) 20

14)



36 TL



27 TL


Ahmet'in kumbarasından çıkan tüm paralar yukarıda verilmiştir. Ahmet, top ile boya kalemini satın alırsa geriye kaç TL parası kalır?

A) 19

B) 23

C) 29

15)



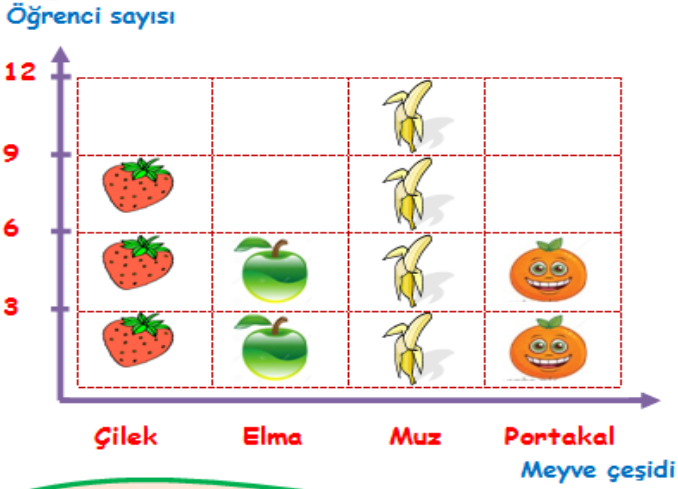
Enes yukarıda verilen saatte spor yapmaya başlıyor. Enes çeyrek saat spor yaptıktan hemen sonra yarım saat müzik dinliyor.

Enes'in müzik dinlemeyi bitirdiği zamanın dijital saatte gösterimi aşağıdakilerden hangisidir?



16, 17 ve 18. soruları aşağıda verilen nesne grafiğine göre cevaplayınız.

Grafik: 2/A Sınıfı En Sevilen Meyvelerin Nesne Grafiği



NOT: Her şekil 3 öğrenciyi göstermektedir.

16) Grafiğe ait sıklık tablosu hangi seçenekte doğru olarak verilmiştir?

A)

MEYVELER	Öğrenci Sayısı
ÇİLEK	9
ELMA	3
MUZ	12
PORTAKAL	6

B)

MEYVELER	Öğrenci Sayısı
ÇİLEK	9
ELMA	6
MUZ	9
PORTAKAL	6

C)

MEYVELER	Öğrenci Sayısı
ÇİLEK	9
ELMA	6
MUZ	12
PORTAKAL	6

17) Çilek ve muz sevenlerin sayısı, portakal sevenlerin sayısından kaç fazladır?

A) 12

B) 15

C) 18

18) 2/A sınıfında toplam kaç öğrenci vardır?

A) 33

B) 30

C) 27

19)



Silginin boyu

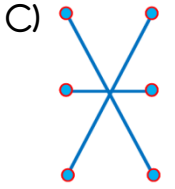
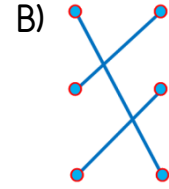
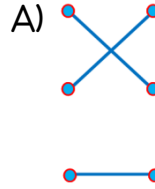


Halının boyu

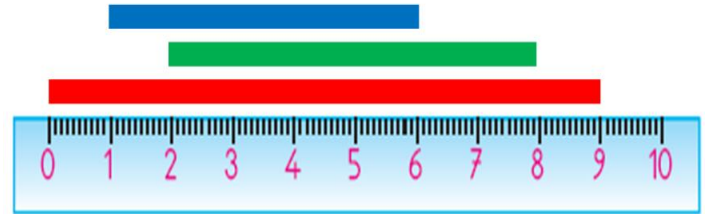


Sınıf tahtasının uzun kenarı

Yukarıdaki uzunlukları, standart olmayan ölçme araçları ile kolay bir şekilde ölçmek istersek nasıl bir eşleştirme yapmalıyız?



20)



Yukarıda verilen mavi, yeşil ve kırmızı şeritlerin uzunlukları toplamı kaç santimetredir?

A) 20 cm

B) 21 cm

C) 23 cm

21)



Ahmet Öğretmen, sınıfında herkesin görüşüne değer veriyor. Sınıfla ilgili kararlar ortak alınıyor. Öğrenciler için sınıfta istek kutusu bile var.

Ahmet Öğretmen'in sınıfında aşağıdaki durumlardan hangisi yaşanmış **olamaz**?

- A) Yapılacak geziler için öğrencilerin fikirlerinin alınması
- B) Sınıf kurallarının birlikte belirlenmesi
- C) Sınıf başkanını öğretmenin seçmesi

22)



Yukarıdaki görsellerin **ortak özelliği** nedir?

- A) Birer istektir, karşılanması zorunlu değildir.
- B) Temel ihtiyaçtır, karşılanması zorunludur.
- C) Onlar olmazsa da mutlu ve sağlıklı yaşarız.

23) Sağlıklı büyüme ve gelişim ile ilgili konuşan öğrencilerden hangisi **kişisel bakım** ile ilgili bir ifade söylemiştir?

A)



Her gün düzenli olarak spor yaparım.

B)



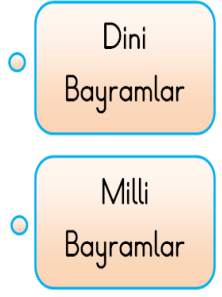
Günde iki kere dişlerimi fırçalarım.

C)



Meyve ve sebzeleri yıkamadan yemem.

24)

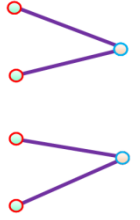


Yukarıda verilen bayramlarımızla türlerinin doğru eşleştirilmesi nasıl olmalıdır?

A)



B)



C)



25) Aşağıdakilerden hangisi **milli kültürümüze** ait bir yemektir?

A)



Sarma

B)



Hamburger

C)



Suşi

26)



Yaşadığım yer deniz kenarıdır. Havası ve suyu temizdir. Geniş bağları, bahçeleri var. Su sıkıntısı yoktur.

Hasan'ın yaşadığı yerde hangi **üretim faaliyetleri** yaygın olabilir?

- A) Balıkçılık - Tarım
- B) Madencilik - Tekstil
- C) Beyaz eşya - Otomotiv

27)



Yukarıda verilenlerden hangisi hem hayvanların hem de bitkilerin yaşamaları için ihtiyaç duyduğu unsurlardandır?

- A) 3-4
- B) 2-4
- C) 1-5

28) Aşağıdaki geri dönüşüm ile ilgili verilen bilgilerden hangisi **yanlıştır**?

- A) Geri dönüşüm ile kaynaklarımız ve çevremiz korunur.
- B) Her atık, geri dönüşüme uygundur.
- C) Geri dönüşüm ile kullanılabilir atıklardan yeniden yararlanılır.

29)



- ➔ Sorumluluk bilincimizi geliştirir.
- ⊘ Sağlığımızı korumamızı sağlar.
- 😊 Doğa ve canlı sevgisi kazandırır.

Bitki yetiştirme ve hayvan beslemenin bize kazandırdığı davranışlar yukarıdakilerden hangileridir?

- A) ➔ 😊
- B) ➔ ⊘
- C) ➔ ⊘ 😊

30)



Babam bir çiftçi. Bu hafta toprakları daha verimli, iklimi daha yumuşak olan bir kasabaya taşınacağız. Çünkü şu anki kasabamız tarım için fazla engebeli. Ulaşım sıkıntısı var ve su kaynaklarına uzak.

Buse'nin anlattıklarından yola çıkarsak aşağıdakilerden hangisine **ulaşabiliriz**?

- A) Yer şekilleri, iklim, toprak yapısı ve su kaynaklarının yaşamımıza etkisi yoktur.
- B) Buse'nin şu an yaşadığı engebeli kasabada balıkçılık yapılabilir.
- C) Yaşadığımız yerin doğal unsurları meslekleri, üretimi ve ulaşımı etkiler.

Cevap Anahtarı

1)C 2)B 3)C 4)A 5)A 6)B 7)A 8)B 9)A 10)C
11)B 12)B 13)C 14)A 15)C 16)C 17)B 18)A 19)B 20)A
21)C 22)B 23)B 24)C 25)A 26)A 27)C 28)B 29)A 30)C