

1) Sivas'a ocakta çok kar yağdı.

Aşağıdaki seçeneklerin hangisinde "ocak" kelimesi yukarıdaki cümledeki anlamda kullanılmıştır?

- A) Dayım maden ocağında çalışıyor.
- B) Ablam kahveyi ocakta yapmış.
- C) Ocak ayının sonunda tatil başlayacak.
- D) Çay ocağını erken kapatmışlar.

2) usta – düz – sağlam

Aşağıdaki kelimelerden hangisinin zıt anlamlısı yukarıda **yoktur**?

- A) acemi
- B) kalfa
- C) bozuk
- D) eğri

3) ■ yağdı
 ◆ yağmurluk
 ▲ sözlü
 ● sözler

Yukarıdaki kelimelerden hangileri anlam değiştiren ek almıştır?

- A) ■ ◆
- B) ■ ● ◆
- C) ◆ ▲ ●
- D) ◆ ▲

4) ➤ Bizim takımın defansı bugün çok kötü.
 ➤ Dün televizyondaki şovu izledin mi?
 ➤ Doktorun asistanı bize yardımcı oldu.

Aşağıdaki kelimelerden hangisi yukarıdaki cümlelerdeki altı çizili yabancı kelimelerden birinin Türkçe karşılığı **değildir**?

- A) yardımcı
- B) gösteri
- C) savunma
- D) eğlence

5) Aşağıdaki cümlelerin hangisinde yazım yanlışı vardır?

- A) Kumaşın üç m'si ile elbise dikilmiş.
- B) Babam MEB'na dilekçe yazdı.
- C) T.C. vatandaşı olan herkes eşit haklara sahiptir.
- D) Suna'nın dayısı THY'de çalışıyor.

6) Annesi arkasından seslendi ()
 () Dikkatli ol () Akşam eve saat kaçta geleceksin()

Yukarıda ayrıçla gösterilen yerlere sırayla hangi noktalama işaretleri getirilmelidir?

- A) (:) (–) (.) (?)
- B) (.) (–) (.) (?)
- C) (:) (–) (!) (?)
- D) (:) (–) (!) (.)

7) Umut bile senin gibi arkadaşlarına karşı kötü davranmıyor.

Yukarıdaki cümlede tek başına anlamı olmayan kelimeler hangi seçenekte doğru verilmiştir?

- A) gibi - senin B) bile - gibi
C) bile senin D) senin - kötü

8) Y – duman L – öfke E – kelebek
O – adalet K – huzur Ü – parfüm

Yukarıdaki soyut kelimelerin başındaki harflerle aşağıdaki kelimelerden hangisi yazılır?

- A) KÜL B) YOL
C) KOL D) YEL

9) Aşağıdaki cümlelerin hangisinde sonuç bildiren ifade kullanılmıştır?

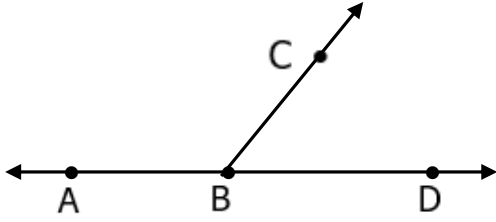
- A) Böylece Gaye de artık yüzmeyi öğrendi.
B) Tüp bittiği için su kaynamamış.
C) Bir haftadır ilaç kullanıyorum ama hâlâ iyileşemedim.
D) Güneş çocuklara bir daha gülümsedi.

10) Kenan , sabah uyanınca evde dayısını görünce şaşırıldı.

Yukarıdaki cümlede duygusal ifade aşağıdakilerden hangisidir?

- A) sabah B) görünce
C) uyanınca D) şaşırıldı

11)



Yukarıdaki BCD açısı 65° 'dir. ABD açısı doğru açı olduğuna göre, CBD açısı kaç derecedir ?

- A) 115° B) 25° C) 125° D) 95°

- 12) I - $\frac{8}{12} > \frac{5}{12}$ II - $\frac{1}{8} > \frac{1}{6}$
 III - $\frac{1}{17} < \frac{1}{14}$ IV - $\frac{12}{9} < \frac{10}{9}$

Yukarıdaki karşılaştırmalardan hangileri doğrudur?

- A) I - II - III B) II - IV
 C) I - II D) I - III

- 13) Babam kare şeklindeki bağımıza 3 sıra dikenli tel çaktı. Bu iş için 2100 m dikenli tel kullandı.

Yukarıdaki ifadeye göre bağın bir kenarı kaç metredir?

- A) 700 B) 175
 C) 195 D) 150

14)

Bir koşucu 8 km'lik yolun $\frac{3}{10}$ 'ünü koşmuş .

Yukarıdaki ifadeye göre koşucunun kaç **metre** yolu kalmıştır?

- A) 6600 B) 5600
 C) 5400 D) 6400

15) Arda: Silgimin boyu 40 mm olabilir.

Sinem: Suluğumun boyu 20 cm olabilir.

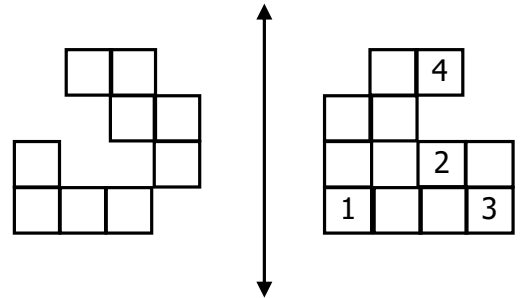
Tuğçe: 4 katlı olan okulun yüksekliği 8000 cm olabilir.

Bora: Sınıfımızın genişliği 7 m olabilir.

Hangi öğrencinin tahmini **yanlış** olabilir?

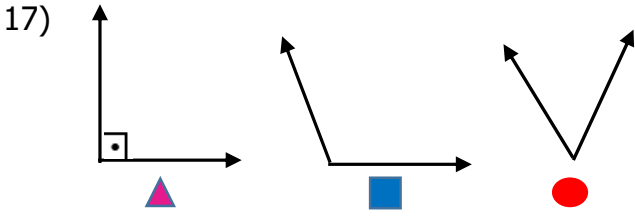
- A) Bora B) Arda
 C) Sinem D) Tuğçe

16)



Yukarıdaki şekilde kaç numaralı kareler çıkarılırsa diğer şeklin simetrisi meydana gelir?

- A) 1 - 2 B) 1 - 2 - 3
 C) 2 - 4 D) 2 - 3



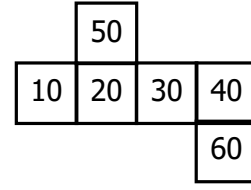
Yukarıda verilen açıların ölçüleri hangi seçenekteki gibi olabilir?

- | | | | |
|----|------------|-------------|-------------|
| | | | |
| A) | 90° | 170° | 40° |
| B) | 85° | 91° | 90° |
| C) | 90° | 110° | 40° |
| D) | 90° | 80° | 100° |

18) Aşağıdakilerden hangisi düzlem modeli **değildir**?

- | | |
|----------------|-------|
| A) | B) |
| Masanın yüzeyi | Tablo |
| C) | D) |
| Vazo | Halı |

19)



Yukarıda açılımı verilen küp oluşturulduğunda hangi sayılar karşılıklı gelir?

- | | |
|------------|------------|
| A) 50 - 60 | B) 50 - 20 |
| C) 60 - 40 | D) 10 - 40 |

- 20) 8 cm, 5 cm, 8cm • • Çeşitkenar üçgen
 12 cm, 12 cm, 12 cm • • İkizkenar üçgen
 7 cm, 13 cm, 9cm • • Eşkenar üçgen

Yukarıda verilen kenar uzunlukları ile üçgen çeşitleri eşleştirildiğinde hangi görünüm elde edilir?

- | | |
|----|----|
| A) | B) |
| C) | D) |

21) Aşağıdakilerden hangisi cumhuriyetle yönetilen devlet için **söylenemez**?

- A) Halk özgürdür.
B) Demokrasi yoktur.
C) Tüm vatandaşlar eşittir.
D) Halk ülke yönetiminde söz sahibidir.

22) ■ Yeteneklerimize göre

◆ İlgili alanlarımıza göre

▲ Ailemizin isteğine göre

● Öğretmenimizin isteğine göre

Okullarda öğrenciler katılacakları sosyal etkinlikleri yukarıdakilerden hangilerine göre belirlemedir?

- A) ■ ◆ ● B) ■ ●
C) ◆ ▲ D) ■ ◆

23) Bireyler sorumluluk duygusuyla ilk olarak ortamında tanışır- lar.

Yukarıdaki ifadede noktalı yere aşağıdakilerden hangisi yazılmalıdır?

- A) arkadaş
B) okul
C) aile
D) mahalle

24) Mert → 16 yaşında

Umut → 19 yaşında

Sıla → 17 yaşında

Pelin → 20 yaşında

Yukarıdaki kişilerin yaşlarına göre hangileri çocuk **değildir**?

- A) Umut - Pelin
B) Mert - Sıla
C) Mert - Umut
D) Sıla - Pelin

25) Hayatımızı planlamalı , işlerimizi bu plana uygun olarak yürütmeliyiz.

Yukarıdakini yapan bir kişi aşağıdakilerden hangisinin israfını azaltmak için önlem almış olur?

- A) para B) su
C) zaman D) elektrik

26) Giderler gelire göre ayarlanmalıdır.

Bir ürün karşılığı harcanan paraya gelir denir.

Gelirin bir kısmı tasarruf edilmelidir.

Yukarıdaki ifadelerden doğru olanlara "D" , yanlış olanlara "Y" yazarsak hangi sonuç ortaya çıkar?

- A)

D
D
D

 B)

D
Y
D

 C)

Y
D
D

 D)

D
D
Y

27) İnsanların ihtiyaçları olan ürünleri satın alarak kullanmasına denir.

Yukarıdaki ifadede noktalı yere aşağıdakilerden hangisi yazılmalıdır?

- A) üretim B) bütçe
C) gelir D) tüketim

28) Aşağıdakilerden hangisi teknolojinin olumsuz etkilerinden biri değildir?

- A) Çevre kirliliği
B) Bilgiye ulaşım kolaylığı ve hızı
C) Görme sorunları
D) Elektromanyetik dalgalar

29) Aşağıdakilerden hangisi iletişim alanında çalışma yapan mucitlerden biri **değildir**?

- A) Wright Kardeşler
B) Samuel Morse
C) Graham Bell
D) Martin Cooper

30) Aşağıdakilerden hangisi deprem öncesi yapılacaklardan **değildir**?

- A) Devrilebilecek eşyaları duvara sabitlemek.
B) Acil durum planı hazırlamak.
C) Zorunlu olmadıkça telefonları meşgul etmemek.
D) Deprem çantası hazırlamak.

- 31) Yaren: Bayat ekmekleri muhakkak değerlendirebiliriz.
Ozan: Meyveleri leğende yıkarız. Yıkadığımız bu su ile çiçekleri suluyoruz.
Çetin: Kışın evimiz çok ısınca pencereleri açarız.
Büşra: Cam şişe ve kavanozları temizleyerek tekrar kullanırız.

Yukarıdaki söylenenlere göre hangisinin bilinçli bir tüketici olduğu **söylenemez** ?

- A) Ozan B) Yaren
C) Büşra D) Çetin

- 32) Aşağıdaki ses teknolojilerinden hangisi diğerlerinden daha önce kullanılmaya başlanmıştır?

- A) fonograf B) teyp
C) CD D) hoparlör

- 33) I – Baş ağrısı ve uykusuzluğa neden olur.
II – Sadece insanları olumsuz etkiler.
III – Çok şiddetli sesler araçların ve evlerin camlarının kırılmasına neden olur.
Ses kirliliği ile ilgili yukarıdaki ifadelerden hangileri doğrudur?

- A) I ve III doğru
B) I ve II doğru
C) II ve III doğru
D) Hepsi doğru

- 34) Yumurtalardan çıkan deniz kaplumbağalarının çoğunluğu nedeniyle denize ulaşamamaktadır.

Yukarıdaki ifadede noktalı yere aşağıdakilerden hangisi yazılmalıdır?

- A) ses kirliliği
B) çevre kirliliği
C) hava kirliliği
D) ışık kirliliği

- 35) ● Işık doğrudan göze gelmemelidir.
△ Beyaz ışık yerine sarı ışık tercih edilmelidir.
□ Işık sadece istenilen yeri değil her yönü aydınlatacak şekilde olmalıdır.
◇ Ortamın büyüklüğüne göre aydınlatma yapılmalıdır.

Yukarıdakilerden hangileri uygun aydınlatma şekli **değildir**?

- A) □ ◇ B) ● △
C) △ □ D) △ ◇

- 36) Aşağıdakilerden hangisi karışımları ayırma yöntemlerinden biri değildir?

- A) Eleme
B) Donma
C) Süzme
D) Miknatıs ile

- 37) □ Doğal yollarla ayrıştırılmaz.
△ Karışımı oluşturan saf maddeler kendi özelliklerini kaybederler.
◇ Yapısında kendinden başka madde içermez.
⊙ Ne kadar küçük parçalara ayrılırsa ayrıl-sın kendi özelliklerini kaybetmezler.

Saf maddelerle ilgili yukarıdaki bilgilerden hangileri doğrudur ?

- A) □ ve △ B) □ , ◇ ve ⊙
C) ◇ ve ⊙ D) Hepsi

- 38) Aşağıdaki olaylardan hangisi maddenin ısınmasının bir sonucu **değildir**?

- A) Tavaya konan katı yağın sıvı hale geçmesi.
B) Buzdolabından çıkarılan buzun suya dönüşmesi.
C) Kışın sokaktaki su birikintilerinin buz tutması.
D) Çaydanlıkta kaynayan suyun buharlaşması.

- 39) I – Işık ve sesin hacmi ölçülür.
II – Maddelerin boşlukta kapladığı yere kütle denir.
III – Kütle ve hacim ölçülebilen özelliklerdir.
Yukarıdaki ifadelerle ilgili aşağıdakilerden hangisi doğrudur?

- A) III doğru , I ve II yanlış
B) Üçü de doğru
C) I doğru , II ve III yanlış
D) II ve III doğru , I yanlış

- 40) Aşağıdaki hareketlerden hangisi diğerlerinden **farklıdır** ?

- A) Balkondan aşağı bırakılan topun hareketi
B) Yokuş aşağı inen bisikletin hareketi
C) Kaydırdan kaymaya başlayan çocuk
D) Yukarıya atılan topun yükseldikçe hareketi

CEVAP ANAHTARI

TÜRKÇE	MATEMATİK	SOSYAL BİL.	FEN BİLİM.
1) C	11) A	21) B	31) D
2) A	12) D	22) D	32) A
3) D	13) B	23) C	33) A
4) D	14) B	24) A	34) D
5) B	15) D	25) C	35) C
6) C	16) A	26) B	36) B
7) B	17) C	27) D	37) B
8) C	18) C	28) B	38) C
9) A	19) A	29) A	39) A
10) D	20) B	30) C	40) D