



Tablo: Ali Baba'nın Çiftliği Tablosu



Ali Baba'nın Çiftliği ile ilgili tabloyu örnekteki doldurarak soruları cevaplayınız.

SORULAR

HAYVANLAR	HAYVAN SAYILARI
AT	3
KEDİ	
KÖPEK	
İNEK	
KOYUN	
TAVUK	

1-) Sayı en çok olan hayvanın adı nedir?

2-) Çiftlikte en az sayıda olan iki hayvanın adı nedir?

3-) Çiftlikte süt veren kaç tane hayvan vardır?





4-) Çiftlikte en az ve en çok bulunan hayvan sayısını toplamı kaçtır?

5-) Çiftlikte toplam kaç hayvan vardır?

İskender TAŞ



Tablo: Manavda Satılan Meyveler Tablosu

MEYVELER	PAZARTESİ	SALI	ÇARŞAMBA	PERŞEMBE	CUMA
	5	3	4	6	7
	4	8	0	9	5
	10	8	6	4	5
	7	0	5	4	6

Manavda satılan meyveler ile ilgili soruları tabloya bakarak cevaplayınız.

SORULAR

1-) En fazla karpuz hangi gün satılmıştır?

2-) Muz hangi gün hiç satılmamıştır?

3-) Çilek çarşamba günü kaç tane satılmıştır?

4-) Kaç tane muz satılmıştır?

5-) Toplam kaç tane armut satılmıştır?

6-) Perşembe günü toplam kaç tane meyve satılmıştır?

7-) Satılan çilek sayısı, armut sayısından kaç fazladır?

8-) Muz, armuttan kaç fazla satılmıştır?