



Aşağıdaki metni anlayana kadar okuyalım.

KEREM'İN DUYARLILIĞI

Kerem, Kayra ve Celil bahçede futbol oynuyorlardı. Celil oyun esnasında koşarken dengesini kaybedip yere düşmüştü. Celil'in yere düştüğünü gören Kayra gülmeye başladı. Çünkü Celil düşünce yerde yuvarlanmış ve bu durum Kayra'ya komik gelmişti. Kayra'nın güldüğünü gören Kerem, Celil'in elinden tutup düştüğü yerden kaldırdı. Daha sonra Kayra'ya "Başkasının zor duruma düşmesi bizim için eğlence olmamalı. Yere düşen arkadaşımızın canı yanmış, belki bir tarafı yaralanmış olabilir. Empati kurarak onun neler hissettiğini düşünmeli ve ona göre davranmalıyız." dedi. Kayra yaptığı hatayı anlamıştı. Önce Celil'den özür diledi. Sonra da kendisini güzel bir şekilde uyararak hatasını düzeltmesini sağladığı için Kerem'e teşekkür etti. Üç arkadaş neşe içinde oyunlarına devam ettiler...



Aşağıdaki soruları metne göre cevaplayalım.



Çocuklar nerede futbol oynuyorlarmış?



Celil'in düştüğünü gören Kayra ne yapmış?



Kayra'nın güldüğünü gören Kerem ne yapmış?



Empati kurmak nedir? Araştırıp yazalım.



Kayra Kerem'e niçin teşekkür etmiş?



ÖZEL İSİMLER-İ

★ Aşağıdaki isimlerden özel isim olanları örnekteki gibi işaretleyelim.

 Kalem

 Muhammed

 Araba

 Telefon

 Van Gölü

 Meyve

 Antalya

 Sinema

 Akdeniz

 Melisa

 Minnoş

 Sınıf

 Sokak

 Uludağ

 Tavuk

 Türkiye

 Park

 Kepez

★ Aşağıdaki özel isimlerden doğru yazılanlara "✓", yanlış yazılanlara "✗" koyalım.

 Ankara

 ceylin

 ukrayna

 İzmir'den

 Atatürk

 Beşiktaş

 Ata ilkokulu

 Karabaş

 ege denizi

 ahmet

 İlayda nın

 Suriye

 Anıtkabir

 Gül sokak

 İstanbul'a

 Fenerbahçe

 Ankaralı

 Kayranın



ÖZEL İSİMLER-2

★ Aşağıdaki cümlelerde yazım yanlışlarını bularak cümleleri yeniden yazalım.

yarın ailece denizliye gideceğiz

miraç ile hasan kahvaltıdan sonra parka gitmişler

gülçin kuşuna limon adını koymuş

atatürk ve arkadaşları samsuna çıkmış


bugün fenerbahçe ile galatasarayın maçı var

dayım almanyadan gelirlen bana bisiklet getirdi

★ Aşağıdaki metinde özel isimleri bularak altlarını çizelim.

YAZ TATİLİ


Merhaba. Benim adım Fatih. Yaz tatilini sabırsızlıkla bekliyorum. Çünkü her sene yaz tatilini Konya'daki dedemin köyünde geçiriyorum. Dedemin Arap adında bir atı var. Dedem beni ata bindirerek gezdiriyor. Dedemin komşusu olan Hasan amcanın da koyun sürüsü var. Geçen yaz bana bir kuzu hediye etmişti. Adını Pamuk koydum. Çünkü rengi pamuk gibi bembeyazdı. Kuzuyu Antalya'ya getiremeyeceğim için dedeme bıraktım. Şimdi kocaman olmuştur.





STANDART UZUNLUK ÖLÇÜ BİRİMLERİ-1

★ Aşağıdaki standart uzunluk ölçü birimleri ile isimlerini eşleştirelim.



kırk metre

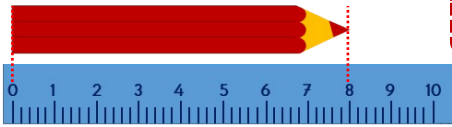
şerit metre

mezura

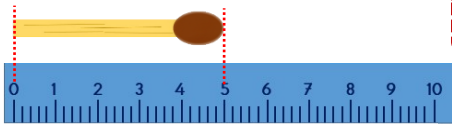
cetvel

gönye

★ Aşağıdaki varlıkların uzunluklarını yazalım. Soruları cevaplayalım.



..... cm



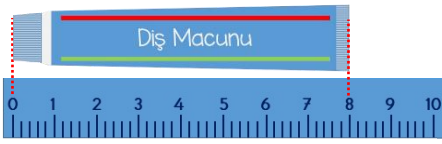
..... cm



..... cm



..... cm



..... cm

En uzun varlık hangisidir?

En kısa varlık hangisidir?

Hangi varlıkların uzunlukları aynıdır?

Kalem ile atacın uzunlukları toplamı kaç cm'dir?

Diş macunu kibrit çöpünden kaç cm daha uzundur?



STANDART UZUNLUK ÖLÇÜ BİRİMLERİ-2

★ Aşağıdaki çubukları cetvel ile ölçerek uzunluklarını yazalım. Soruları cevaplayalım.



..... cm



..... cm



..... cm



..... cm



..... cm



..... cm

En uzun çubuk hangi renktedir?


En kısa çubuk hangi renktedir?

Hangi çubukların uzunlukları aynıdır?

Mor ve yeşil çubukların uzunlukları toplamı kaç cm'dir?

En uzun çubuk en kısa çubuktan kaç cm daha uzundur?


★ Aşağıdaki varlıkların uzunlukları ne ile ifade edilir. Örnekteki gibi boyayalım.



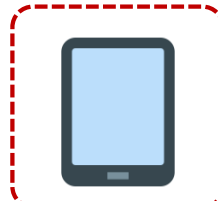
cm m



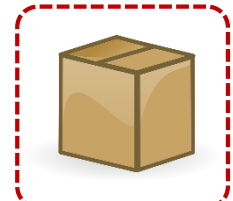
cm m




cm m



cm m



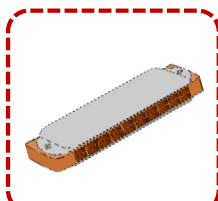
cm m



cm m



cm m



cm m



cm m



cm m



UZUNLUKLARI TAHMİN EDELİM-

★ Aşağıdaki araçların uzunluklarını bisikletin boyu ile kıyaslayarak tahmin edelim. Tahminlerimizi yazalım.



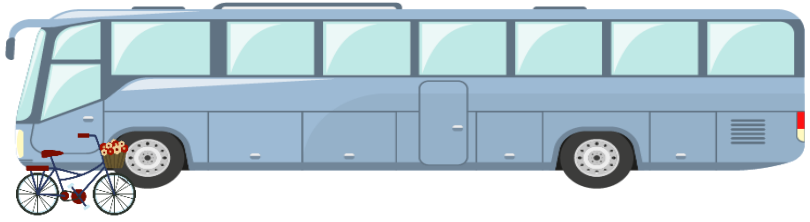
1 m



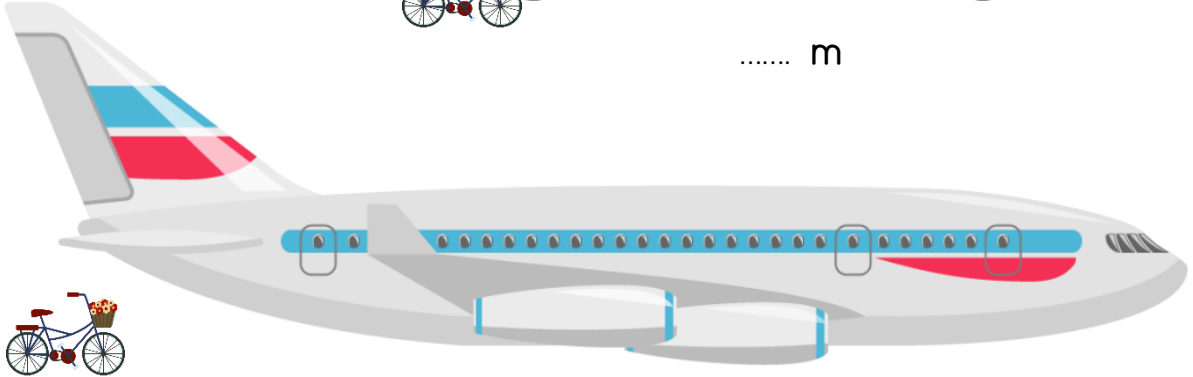
..... m



..... m



..... m



..... m



..... m



..... m









..... m







UZUNLUKLARI TAHMİN EDELİM-2

★ Aşağıdaki çubukların uzunluklarını, uzunluğu verilen çubuğa göre tahmin ederek yazalım.



★ Aşağıdaki çubukların uzunluklarını tahmin edip yazalım. Daha sonra cetvel ile uzunluklarını ölçerek yazalım.

Çubuk	Tahminim	Uzunluğu
		
		
		
		



DOĞA OLAYLARI

★ Aşağıdaki hava olaylarını isimleri ile eşleştirelim.



rüzgâr

kar

yağmur

dolu

sis

★ Hangi hava olayı neye sebep olabilir? Eşleştirelim.

Yağmur

Sert olduğu için araçlara zarar verebilir.

Kar

Sel ve toprak kayması olabilir.

Dolu

Görüş mesafemiz azalabilir.

Sis

Çatılar ve eşyalar uçabilir.

Rüzgâr

Evlerin çatılarında sarkıtlar oluşabilir.

★ Aşağıdaki havalarda ne yapmalıyız. Altlarına yazalım.





EĞLENCE ZAMANI



Verilen sözcükleri bulmacada bularak boyayalım. Kalan harfleri sırası ile yazarak gizli sözcüğü bulalım.

GÜNAYDIN

MERHABA

TEŞEKKÜR

RICA EDERİM

ÖZÜR DİLERİM

LÜTFEN

AFFEDERSİN

SAĞ OL

KUSURA BAKMA

GÜLE GÜLE

HOŞ GELDİN

HOŞÇA KAL

G	Ü	L	E	G	Ü	L	E	N	E	Z	A	H
Ü	K	Ü	E	T	M	E	R	H	A	B	A	O
N	K	T	U	R	A	S	A	Ğ	O	L	L	Ş
A	F	F	E	D	E	R	S	İ	N	L	A	G
Y	R	E	H	O	Ş	Ç	A	K	A	L	I	E
D	N	N	T	E	Ş	E	K	K	Ü	R	A	L
I	R	İ	C	A	E	D	E	R	İ	M	U	D
N	K	U	S	U	R	A	B	A	K	M	A	İ
Ö	Z	Ü	R	D	İ	L	E	R	İ	M	Y	N



Gizli Sözcük



--	--	--	--	--	--	--	--	--	--	--	--	--	--	--	--	--	--	--	--