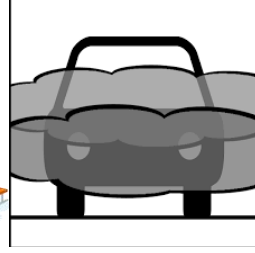


DOĞA OLAYLARI ETKİNLİKLERİ

A- Aşağıdaki görsellerde yaşanan doğa olayını altlarına yazalım.



B- Verilen ifadelerden doğru olanların başına D, yanlış olanların başına Y harfini yazalım.

- () Güneşin altında uzun süre kalmak ve güneşe doğrudan bakmak sağlığımız için tehlikelidir.
() Yağmurlu havalarda güneş gözlüğü takmalıyız.
() Yağmurun şiddetli olduğu zamanlarda korunaklı bir yer bulup yağmurun dinmesini beklemeli ve ağaç altlarından uzak durmalıyız.
() Şiddetli dolu yağışı araçlara, evlere ve ekilen ürünlere ciddi zararlar verebilir.
() Sisli havalarda ışığı yansıtmayan giysiler giymeliyiz.

C- Aşağıdaki ifadelerde yer alan boşlukları verilen kelimelerden uygun olanlarla tamamlayalım.

- 1- Kar yağdığı zaman atkı ve giymemizde fayda vardır.
2- Rüzgâr nedeniyle havalanan toz tanecikleri zarar verebilir.
3- Sisli havalarda çevremizi görmekte
4- Çok şiddetli esen rüzgârlara deriz.
5- yağışı ağaçları dondurabilir ve ağaçların meyve vermesine engel olabilir.

gözlerimize

bere

fırtına

dolu

zorlanırsınız.

D- Aşağıdaki sembollerle hava olaylarını farklı renklerdeki kalemlerle eşleştirelim.



Rüzgârlı

dolu yağışı

karlı

yağmurlu

güneşli

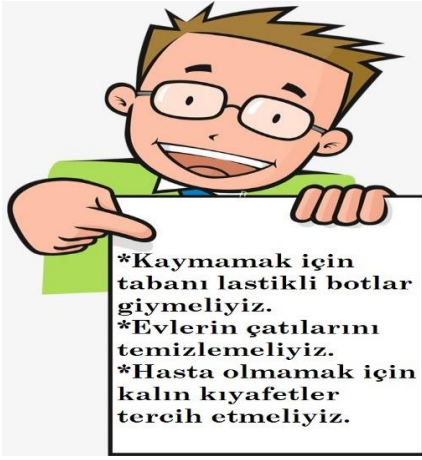
DOĞA OLAYLARI TEST

1- Sıcak ve nemli hava ile soğuk havanın şiddetle yer değiştirmesi sırasında dönen rüzgârlar oluşur. Bu rüzgârlara ne adı verilir?

- A) dolu B) esinti C) hortum

2- Aşağıdakilerden hangisi hava olaylarının nedenlerinden biri olamaz?

- A) mevsimler B) çiçekler C) ormanlar



3- Öğretmenin bahsettiği önlemler hangi hava olayıyla ilgilidir?




- A) kar B) sis C) rüzgâr



4- Yanda verilen sembol hangi hava olayını anlatmaktadır?

- A) kar B) sis C) rüzgâr

5- Hangisi güneşli bir günde yanımıza almamız gereken bir eşya değildir?

- A) 
B) 
C) 

6- Fulya cuma günü pikniğe gidecekti. Hava durumuyla ilgili bilgi almak için internete baktı ve havanın hiç de piknik için uygun olmadığını fark etti.




Aşağıdakilerden hangisi Fulya'nın internette gördüğü sembol olabilir?

- A)  B)  C) 

7- Aşağıdakilerden hangisi ağaçlara ve ekinlere zarar veren bir hava olayıdır?

- A) dolu B) sis C) yağmur

8- Sağanak yağışlı bir günde yağmurdan kaçmak isteyen biri aşağıdakilerden hangisinin altına sığınabilir?

- A)  B)  C) 

9- Aşağıdaki hava olaylarından hangisi bitkilerin gelişimi için çok faydalıdır?

- A) yağmur B) rüzgâr C) sis



10- Yandaki çocuk hangi hava olayının keyfini çıkarmaktadır?

- A) kar B) sis C) rüzgâr