



# TARTMA ETKİNLİK ÇALIŞMASI 1



Aşağıda verilenlerden ürünlerin kilogram (kg) ile ölçülenlerini işaretleyiniz.



Aşağıdakilerden en ağır olanı işaretleyiniz.



Aşağıdakilerden en hafif olanı işaretleyiniz.



Aşağıda verilen terazi çeşitlerini görsellerle eşleştiriniz.



Hassas terazi



Kantar



Eşit kollu terazi



Baskül



El terazisi



Elektronik terazi

Aşağıda verilen boşlukları uygun terazi çeşitlerini yazarak doldurunuz.

İnsanların kütlelerini..... ile ölçeriz.

Marketlerden ,bakkallardan alınan ürünleri tartmada ..... terazi kullanılır.



## TARTMA ETKİNLİK ÇALIŞMASI 2



3 kg



5 kg

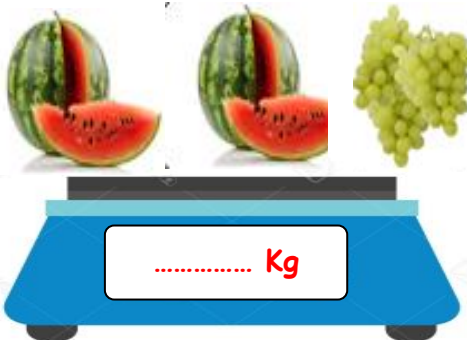



4 kg



6 kg

Yukarıda verilen ürünlerin ağırlıkları altlarında yazmaktadır. Aşağıdaki terazilerin ağırlıklarını ölçerek üzerine yazalım.




Aşağıda verilen sebzeleri terazimize öyle yerleştirelim ki iki tarafın kilogramı da eşit olsun.



Patates 2 kg



Domates 3 kg



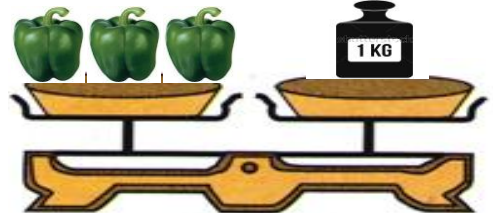
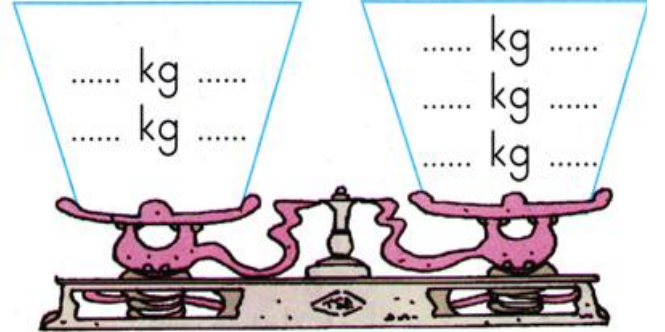
Balık 1 kg



Tavuk 5 kg



Peynir 2 kg



..... Biber

