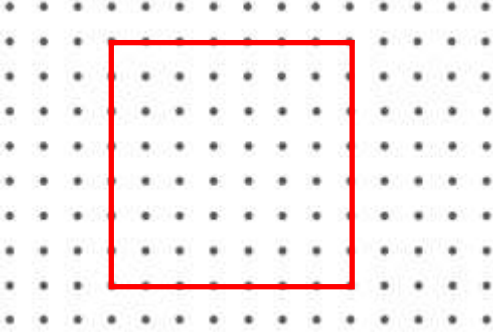


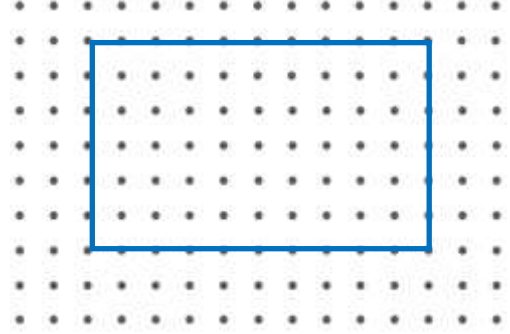


ŞEKİLLERİN ÇEVRE UZUNLUKLARI

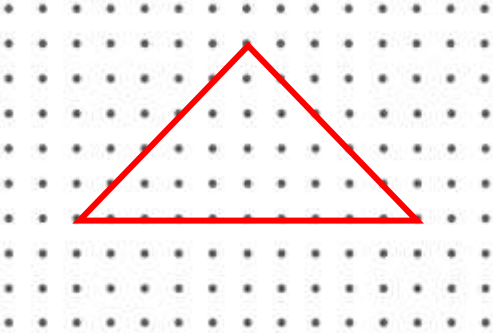
☞ Aşağıdaki şekillerin çevre uzunluklarının kaç birim olduğunu bulalım. (İki nokta arası 1 birimdir.)



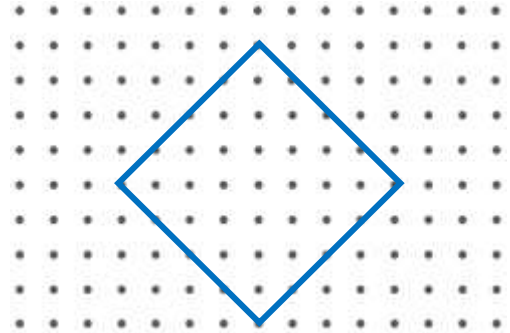
Karenin çevresi birimdir.



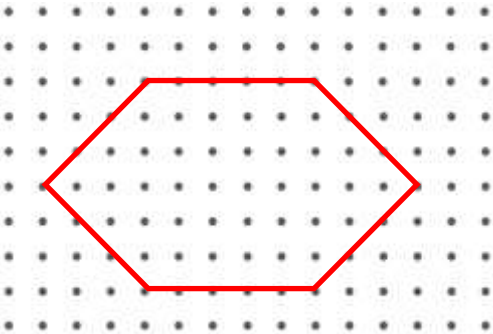
Dikdörtgenin çevresi birimdir.



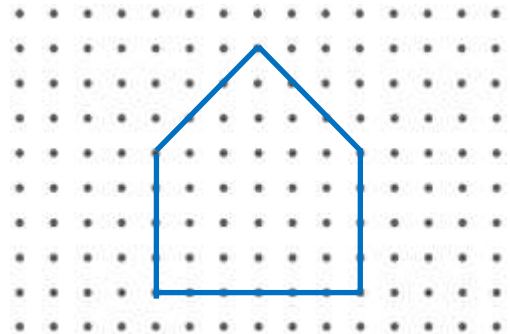
Üçgenin çevresi birimdir.



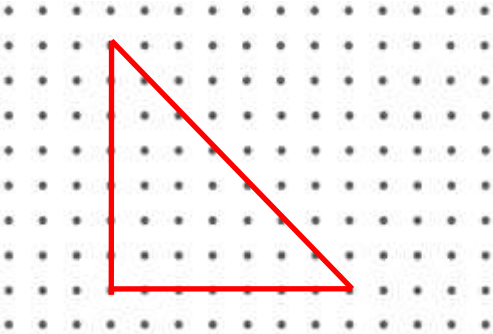
Dörtgenin çevresi birimdir.



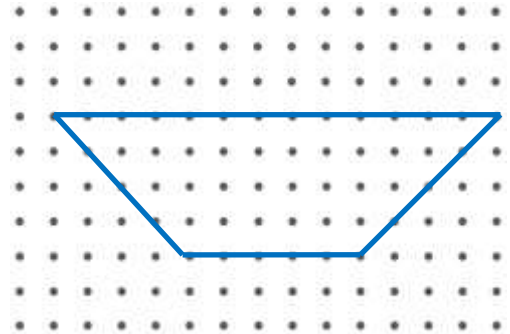
Altıgenin çevresi birimdir.



Beşgenin çevresi birimdir.



Üçgenin çevresi birimdir.



Dörtgenin çevresi birimdir.