

1) Aşağıdaki verilenlerden hangisi yanlıştır?

- A) Canlılar için doğal ortam önemlidir.
- B) Doğal çevreye zarar vermek canlılar için faydalıdır.
- C) Ormana atılan cam parçaları yangına neden olabilir.

2) Aşağıdaki faaliyetlerden hangisinin doğal çevreye olumlu katkısı olamaz?

- A) Geri dönüşüm yapılması
- B) Ağaçlandırma faaliyetleri yapılması
- C) Fabrikaların çoğalması

- 3) Ağaçları bilinçsiz olarak kesmek doğaya zarar verir.
- Nesli tükenen hayvanlar koruma altına alınmalıdır.
- Fabrika atıkları doğaya karıştırılmalıdır.

Yukarıdaki ifadeler doğru-yanlış diye sıralanırsa görünüm nasıl olur?

- A)

D
Y
Y

 B)

D
Y
D




 C)

D
D
Y

4) Aşağıdakilerden hangisi doğa için çalışan sivil toplum örgütlerinden birisi değildir?

- A) TEMA
- B) KIZILAY
- C) ÇEVKO

5) Aşağıdaki öğrencilerden hangisinin söylediği yanlıştır?

- A)  Doğal çevreyi korumalı ve ona zarar verenleri uyarmalıyız.
- B)  Doğal ortam canlılar için önemli değildir.
- C)  Doğadaki hayvanları bilinçsiz bir şekilde avlamak onların neslini tüketir.

6) Ormanların korunması ve çoğaltılması aşağıdakilerden hangisinin artmasını sağlar?

- A) toprak kaymasının
- B) hava kirliliğinin
- C) canlı çeşitliliğinin

- 7) 1-Deniz Kaplumbağası
2-Kelaynak Kuşu
3-Güvercin

Yukarıda sıralanan hayvanlardan hangisi nesli tükenen hayvanlardan değildir?

- A) 3 B) 2 C) 1

- 8) Aşağıdakilerden hangisi doğaya zarar vermez?

- A) fabrika atıkları
B) ormanların çoğalması
C) teknolojik atıklar

- 9) Canlıların doğal yaşam alanlarına zarar vermek onların üremesine

Yukarıda verilen cümlede boş bırakılan yere hangileri yazılmalıdır?

- A) zarar verir.
B) katkı sağlar
C) sebep olur.

- 10) Aşağıdaki atıklardan hangisi toprağı zehirlemez?

- A) fabrika atıkları
B) atık piller
C) yemek atıkları

- 11) Aşağıdakilerden hangisi doğal unsur değildir?

- A) orman B) deniz C) köprü

- 12) Hava ve su kirliliğini önlemek için fabrikalara takılmalıdır.

Yukarıda verilen cümlede boş bırakılan yere hangisi yazılmalıdır?

- A) filtre B) hortum C) pencere

- 13) 1-Dağ 4-Deniz 7-Köprü
2-Ova 5-Göl 8-Cami
3-Orman 6-Park 9-Havuz

Yukarıda verilenlerden kaç tanesi doğal unsurdur?

- A) 7 B) 6 C) 5

- 14) Aşağıdakilerden hangisi doğal kaynaklardan birisi değildir?

- A) Su B) Elektrik C) Güneş

- 15) Nesli tükenen hayvanlaraltına alınmalıdır.

Yukarıda verilen cümlede boş bırakılan yere hangileri yazılmalıdır?

- A) göz B) koruma C) el