
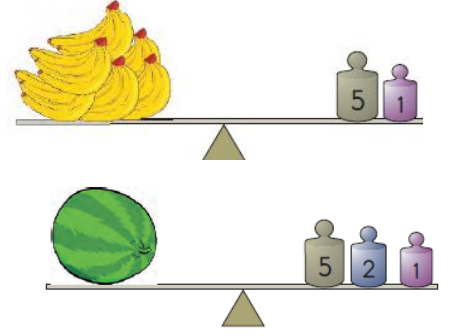




## TARTMA PROBLEMLERİ 1



Koca Ayı ve arkadaşları sabah 27 kg bal yiyor. Akşam ise sabah yediği baldan 14 kg fazla bal yiyorlar. Toplam kaç kg bal yemişler?



Kukuli yukarıdaki terazilerdeki ağırlık kadar manavdan alışveriş yapmıştır. Aldıkları toplam kaç kilogramdır?



56 kg

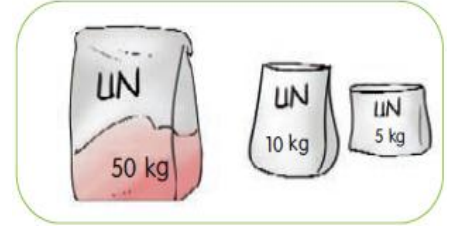


25 kg



?

Keloğlan 56 kg, Heidi 27 kg ağırlığındadır. Maysa'nın ağırlığı Heidi'nin ağırlığından 6 kg daha azdır. Üçünün toplam ağırlığı kaç kg'dır?



Niloya ve annesi ekmek pişirmek için paketlerdeki unları satın almışlardır. Toplam kaç kilogram almışlardır?



9 kg

Karpuzun ağırlığı 9 kilogramdır. 4 adet karpuz alan birisi toplam kaç kilogram karpuz almıştır?



Kral Şakir 4 paket şeker ve 5 paket pirinç alıyor. Aldıkları toplam kaç kilogram gelmektedir?

## TARTMA İŞLEMİ PROBLEMLERİ 2

1-) Garfield bir tanesi 14 kg gelen somon balığını bir haftada yemektedir. Garfield bir ay boyunca kaç kg somon balığı yiyebilir?



Cevap:

2-)



Kukuli terazideki ağırlık kadar muz almıştır. Muzun kilosunu 10 TL'ye alan Kukuli satıcıya kaç TL para ödemiştir?



Cevap:

3-) Arı Maya ve arkadaşları her gün 5 kilogram bal yaparsa, bir hafta sürede toplam kaç kilogram bal yapabilirler?



Cevap:



4-)

Kral Şakir terazideki ağırlığı verilen karpuzdan 4 tane alırsa kaç kg karpuz satın alır?



İskender07 (İlkokul etkinlikleri)

5-) Fil Necati fazla kilolarından kurtulmak için diyeteye başlıyor. Her hafta 3 kilogram zayıflayan Fil Necati 2 ay diyet yaparsa kaç kilogram zayıflayabilir?



Cevap:

6-) Mert'in ağırlığı 42 kg'dır. Aslı'nın ağırlığı Mert'in ağırlığından 3 kg eksiktir. Mert ve Aslı'nın ağırlıkları toplamı kaç kg'dır?



Cevap:



7-) Elif terazideki ağırlık kadar elma almıştır. Elmanın kilosu 4 TL'dir. Satıcıya 50 TL verdiği göre kaç TL para üstü alır?



Cevap:

8-) 75 kg samanın Doru 39 kilogramını yemiştir. Geri kalan samanı Karatay yemiştir. Buna göre Karatay kaç kg saman yemiştir?



www.mebders.com