



Aşağıdaki metni anlayana kadar okuyalım.

ORMAN YANGINLARI

Ormanlar bir ülkenin en önemli varlıklarından biridir. Bir çok hayvana yuva olan ormanlar, ürettikleri oksijen ile ülkenin akciğerleri gibidir. Ormanlardaki yaşlı ağaçlardan başta kâğıt ve mobilya olmak üzere birçok ürün elde edilir. Ayrıca ormanlar sayesinde birçok insan iş imkânı bularak evine ekmek götürür.



Ormanlar, çıkan orman yangınlarında büyük zararlar görürler. Ülkemizde çıkan orman yangınlarının en önemli sebebi ise insanlardır. Piknik alanlarında bilinçsizce yakılan ve söndürülmeyen ateşler, yol kenarlarına atılan yanıcı veya yakıcı maddeler orman yangınlarına sebep olmaktadır. Çıkan orman yangınlarında sadece ormanlar değil; içindeki sayısız hayvan, ormanlar sayesinde geçimini sağlayan insanların ekmeği, ülkemizin millî geliri de yanmaktadır.



Aşağıdaki soruları metne göre cevaplayalım.



Ormanlardan hangi ürünler elde edilmiştir?

.....



Orman yangınlarının en önemli sebebi kimlermiş?

.....



Piknik yapan insanlar ormanlara nasıl zarar verirmiş?

.....



Orman yangınlarından kimler zarar görmüş?

.....



Sen yazmış olsaydın metne hangi başlığı verirdin?

.....



5NİK Soruları-I

★ Aşağıdaki cümleleri okuyarak soruları örnekteki gibi cevaplayalım.

Babam bana binmem için yaz tatilinde Antalya'dan bisiklet aldı.

Kim aldı?



Babam aldı.

Ne aldı?



Niçin aldı?



Ne zaman aldı?



Nereden aldı?



Kayra hafta sonu ders çalışmak için bize geldi.

Kim geldi?



Ne zaman geldi?



Kime geldi?



Niçin geldi?



Melek akşam odasında kitap okudu.

Kim okudu?



Ne okudu?



Nerede okudu?



Ne zaman okudu?





5NİK Soruları-2

★ Aşağıdaki cümleleri okuyarak cümlelerde cevabı olan soruları örnekteki gibi boyayalım.

Teyzem yarın beni görmek için gelecek.

Ne?

Niçin?

Ne zaman?

Nerede?

Kim?

Atatürk, 19 Mayıs'ta Samsun'a çıkmış.

Ne?

Niçin?

Ne zaman?

Nereye?

Kim?

Dün sabah bahçede yavru bir kedi gördüm.

Ne?

Niçin?

Ne zaman?

Nerede?

Kim?

Nihat büyüyünce bilim insanı olacakmış.

Ne?

Niçin?

Ne zaman?

Nereye?

Kim?

Kerem önümüzdeki hafta İstanbul'a gidecek.

Ne?

Niçin?

Ne zaman?

Nereye?

Kim?

Boya yapmak için kırtasiyeden boya aldı.

Ne?

Niçin?

Ne zaman?

Nereden?

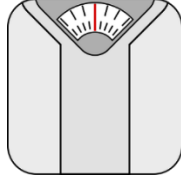
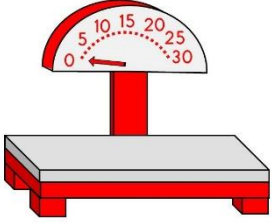
Kim?



NESNELERİ TARTMA VE KARŞILAŞTIRMA-I



Kütle ölçüm aletlerini isimleri ile eşleştirelim.



El terazisi

Baskül

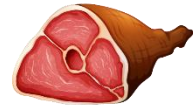
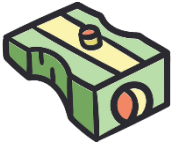
Kantar

Eşit kollu
terazi

Elektronik
terazi




Tartarak satın aldığımız ürünleri işaretleyelim.





NESNELERİ TARTMA VE KARŞILAŞTIRMA-2

★ Aşağıda tartılan varlıkların kütlelerini(ağırlıklarını) örnekteki gibi yazalım.




3 kg elma



..... kg karpuz



..... kg un



..... kg balık



..... kg et




..... kg armut




..... kg patates



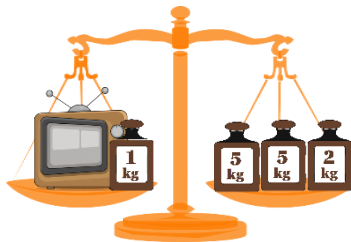
..... kg şeker




..... kg çilek



..... kg taş



..... kg televizyon



..... kg kedi



NESNELERİ TARTMA VE KARŞILAŞTIRMA-3



Aşağıda tartmalarla ilgili örnekteki gibi ifadeler yazalım.



Karpuz elmadan ağırdır.
Elma karpuzdan hafiftir.



Blank space for writing a comparison sentence.



Blank space for writing a comparison sentence.



Blank space for writing a comparison sentence.



Blank space for writing a comparison sentence.













Blank space for writing a comparison sentence.









NESNELERİ TARTMA VE KARŞILAŞTIRMA-4

★ Terazilerin ekranlarına terazideki ürünlerin toplam kütlelerini örnekteki gibi yazalım.

				
3 kg	1 kg	5 kg	2 kg	7 kg

				
2 kg	4 kg	5 kg	3 kg	6 kg










NESNELERİ TARTMA VE KARŞILAŞTIRMA-5



Aşağıdaki terazileri örnekteki gibi dengeleyelim.



Aşağıdaki tabloya göre cümlelerde verilen boşlukları dolduralım. (Tabloda her ürünün 1 kg fiyatları yazılıdır.)

				
6 TL	5 TL	3 TL	4 TL	8 TL

2 kg limon liradır.

7 kg üzüm liradır.

5 kg karpuz liradır.

8 kg limon liradır.

4 kg muz liradır.

5 kg muz liradır.

5 kg kiraz liradır.

10 kg limon liradır.

9 kg karpuz liradır.

6 kg üzüm liradır.

7 kg limon liradır.

10 kg kiraz liradır.





YÖNÜMÜZÜ BULUYORUZ

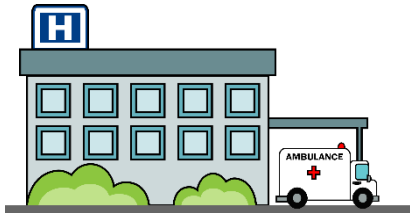


Aşağıda verilen şemalara yönlerimizi yazalım.

Kuzey



Güneşin doğuş yönüne göre yönleri belirleyerek soruları cevaplayalım.



Çocuğun doğusunda var. Çocuğun kuzeyinde var.

Çocuğun batısında var. Çocuğun güneyinde var.



EĞLENCE ZAMANI

★ Aşağıdaki boyamayı tamamlayalım. Kamp yapan aileye kamp esnasında nelere dikkat etmeleri gerektiği ile ilgili düşüncelerimizi yazalım.



.....

.....

.....

.....

.....

.....

.....

.....

.....

.....